

**ВСЕРОССИЙСКАЯ ОЛИМПИАДА ШКОЛЬНИКОВ
ПО ОБЩЕСТВОЗНАНИЮ
ШКОЛЬНЫЙ ЭТАП**

КОД 0912

БС

КОД 0912

9 класс

Время выполнения 90 минут

Максимальный балл – 100

1. Установите верность или ложность утверждений ("Да" или "Нет") и занесите ответы в таблицу:

За каждый правильный ответ 1 балл, всего 10 баллов.

- 1.1. Объективной материальной формой мышления является язык.
- 1.2. Религия есть одна из собственных культурных форм приспособления человека к окружающему миру, удовлетворения его духовных потребностей.
- 1.3. Доход – количество денежных поступлений индивида или семьи за определенный период времени.
- 1.4. Ноосфера означает сферу взаимодействия природы и общества, в пределах которой разумная человеческая деятельность становится главным определяющим фактором развития.
- 1.5. Авторитет – уважение к занимаемому человеком социальному положению, сложившееся в общественном мнении.
- 1.6. Суверенитет государства подразделяется на внешний и внутренний.
- 1.7. Информация – это один из факторов производства в современном обществе.
- 1.8. Различные способы порицания и поощрения называются санкциями.
- 1.9. Политика – это хозяйственная деятельность, а также совокупность общественных отношений, которые складываются в системе производства, распределения, обмена и потребления товаров и услуг.
- 1.10. Холерик мелочлив, но, как правило очень основателен, отличается дотошностью в любом деле.

1.1.	1.2.	1.3.	1.4.	1.5.	1.6.	1.7.	1.8.	1.9.	1.10.
НЕТ	ДА	НЕТ	ДА	ДА	НЕТ	ДА	ДА	НЕТ	—

2. По какому принципу образованы ряды? Дайте КРАТКИЙ ответ. За правильный ответ 2 балла. Всего 8 баллов

2.1. Президентство, парламентаризм, армия, суд, полиция, прокуратура.

Бедраство

2.2. Муж, сын, отец, брат.

2.3. Врач, директор

Восхищение банкир,

евреи инженер,

2.4. Запрещение гражданам пользоваться услугами филиалов иностранных банков, повышение таможенных пошлин на иностранные товары, ограничение на импорт иностранных изданий интернет-ресурсы

3. Соотнесите понятия и их определения: к каждой позиции, данной в первом столбце, подберите соответствующую позицию из второго столбца. За каждый правильный ответ по 3 балла, всего 12 баллов

А) принятое в обществе правило, определяющее рамки поведения человека	1) Социальная дифференциация
Б) действия соответствующие его социальному статусу	2) Социальная норма
В) перемещение человека из одной социальной группы в другую	3) Социальная мобильность
Г) разделение общества на группы, занимающие разное социальное положение	4) Социальная роль

Запишите выбранные цифры под соответствующими буквами.

А	Б	В	Г
2	4	3	1

4. Дайте юридическое название правонарушению. (14 баллов), по 2 балла за верный ответ.

4.1. Соны нацарапала свое имя на дворцовой колонне, являющейся памятником архитектуры XVIII века.

Наряду с подделкой документов

4.2. Дмитрий тайно унес из магазина новый телефон

Кража

4.3. Степан без разрешения сел в чужой автомобиль и поехал покататься

Т/З

4.4. Старшеклассник заставил второклассника отдать ему 50 рублей.

Вымогательство

4.5. Сергей отобрал в подъезде у девочки мобильный телефон.

Воровство

4.6. Иван и Юрий, находясь в автобусе, громко кричали и приставали к пассажирам

хулиганство / административный штраф

4.7. Вооруженная группа людей завладела кораблем в море

Пиратство

5. Что является лишним в каждом ряду? (по 2 балла за полный ответ, всего 6 баллов) (Лишнее выпишите и объясните, почему вы так решили.)

30

5.1. Верховенство закона, взаимная ответственность государства и личности, разделение властей, выборность органов государства – выборность органов
государства, всё остальное демократия

5.2. Валютная спекуляция, тариф на экспорт, экспортная субсидия, импортная квота, эмбарго

30

Валютная спекуляция, всё остальное это
внешняя торговля

5.3. Федерация, унитарное государство, парламентское государство, конфедерация

30

Парламентское государство, всё остальное это
форма территориального устройства

6. Логическая задача.

В одном храме было три внешне одинаковых бога: бог Правды, который никогда не лгал, бог Лжи, который никогда не говорил правду, и бог Дипломатии, который мог как сказать правду, так и солгать. Как узнать, кто из них кто? Один человек сделал это так:

«Кто стоит рядом с тобой?»-спросил он у бога слева. «Бог Правды». «А кто ты?»-спросил он у среднего бога. «Бог Дипломатии». «А кто стоит рядом с тобой?»-спросил он бога справа. «Бог Лжи». «Тогда все понятно»-сказал человек.

Что же понял этот человек из ответов богов? (по 3 балла за правильно указанного бога, всего 9 баллов)

Ответ:

30

Слева Бог - Бог Правды
Посередине Бог - Лжи
Справа Бог - Дипломатии

7. Ознакомьтесь с инфографикой и приведенными на основании полученной из нее информации высказываниями. Выберите верные варианты. (По 1 баллу за правильный ответ)





1. Отсутствие взаимопонимания и неумение идти на компромиссы остается одной из самых главных причин разводов в России в 2019 году.
2. Большинство российских женщин стремятся вступить в брак до 24 лет.
3. Четверть опрошенных считает, что материальная зависимость одного из супругов может помешать паре развестись.

4. Россияне указывают один и тот же подходящий возраст для вступления в брак для женщин и для мужчин.

5. Около половины россиян убеждены, что вступление в брак не является необходимым для создания семьи.

6. Больше трети россиян считают, что если пара решает развестись, то никаких действительных препятствий для этого не будет.

7. С 2015 года значительно выросло количество людей, называющих бедность, отсутствие работы и невозможность прокормить семью как причины развода.

8. По мнению россиян, невозможность решить, с кем из родителей будет жить ребенок после развода, скорее является препятствием для расторжения брака, чем сложности с разделом имущества.

9. Бедность семьи явилась причиной четверти разводов в 2015 году.

10. Данная инфографика не позволяет сделать вывод об отношении россиян к необходимости создания семьи и регистрации отношений.

8. Решите правовую задачу.

Гражданин Иванов обратился в суд с требованием признать недействительным сделку купли-продажи, совершённую его 17-летним сыном Андреем. В исковом заявлении гр. Иванов объяснил, что подарил Андрею на день рождения компьютер. Условием дарения являлось поступление Андрея в институт связи. Однако Андрей поступил в институт культуры, подаренный отцом компьютер в тайне от него продал, а на полученные деньги приобрёл синтезатор. Истцом были заявлены следующие исковые требования: отмена договора дарения компьютера, признание недействительными сделок купли-продажи компьютера и купли-продажи синтезатора. Ответчик исковые требования не признал, ссылаясь на то, что после дарения компьютер стал его собственностью, а значит, он мог распоряжаться по своему усмотрению как компьютером, так и средствами, вырученными от его продажи.

Какое решение должен вынести суд по исковым требованиям Иванова?

(Всего 10 баллов)

Неудовлетворить ~~его~~ требования гр. Иванова, т.к. произошёл акт дарения/продажи компьютером в собственности его отца.

КОД _____ 0912

9. Составьте схему, используя все предложенные понятия и термины. (Всего 13 баллов)

В схеме отразите их соотношение.

1. Верховный суд. 2. Правительство РФ 3. Конституционный суд РФ.
4. Государственная Дума 5. Законодательная власть 6. Исполнительная власть
7. Совет Федерации 8. Судебная власть 9. Органы государственной власти
10. Арбитражный суд РФ 11. Президент 12. Министерства

9 +

		11 f	
5 f	6 f		8 f
4 f	2 f		3 f
7 f	12 f		1 f
			10 f

10. Решите обществоведческий кроссворд.

По горизонтали: 1. (в доиндустриальном обществе) - социальная страта в системе социальной стратификации, отличающаяся особым набором определенных законом прав и обязанностей. 3. Единичное как противоположность совокупности, массе; отдельное живое существо, особь, отдельный человек, в отличие от стада, группы, коллектива. 5. Метод познания, основанный на формально-логическом умозаключении, когда общий вывод делается на основе частных посылок. 8. Форма межгосударственного объединения, при которой государства-субъекты образуют постоянный союз в целях координации своей деятельности в тех или иных сферах. 9. Товар особого рода, используемый при обмене как эквивалент всех других товаров. 11. Широко распространенное в науке и политике понятие, которое обозначает совокупность граждан одного государства как политического сообщества. 12. Элемент социальной структуры 13. Регулярно получаемый доход с имущества (в том числе земли) или с капитала, не требующий от владельца участия в предпринимательской деятельности.

По вертикали: 2. Результат мыслительного процесса, предполагающего, что субъект, констатируя некоторое положение дел, выражает свое отношение к

КОД _____ 0912

содержанию высказанной мысли в форме знания, убеждения, сомнения, веры. 4. Любовь к мудрости. 6. Бессрочная ценная бумага, закрепляющая за совладельцем право на получение дивиденда и как минимум формальное право на участие в управлении компанией. 7. Человек, находящийся в промежуточном, пограничном положении между какими-либо социальными группами. 10. Область культуры, связанная со специализированной деятельностью по созданию системы знания о природе, обществе и человеке.

(По 1 баллу за правильно написанное слово. Всего 13 баллов)

КОД 0911
 ВСЕРОССИЙСКАЯ ОЛИМПИАДА ШКОЛЬНИКОВ
 ПО ОБЩЕСТВОЗНАНИЮ
 ШКОЛЬНЫЙ ЭТАП

9 класс

Максимальный балл – 100
 Время выполнения 90 минут

1. Установите верность или ложность утверждений ("Да" или "НЕТ") и занесите ответы в таблицу:
 За каждый правильный ответ 1 балл, всего 10 баллов.

- 1.1. Объективной материальной формой мышления является язык.
- 1.2. Религия есть одна из собственных культур форм приспособления человека к окружающему миру. Удовлетворения его духовных потребностей.
- 1.3. Доход – количество денежных поступлений индивида или семьи за определенный период времени.
- 1.4. Ноосфера охватывает сферу взаимодействия природы и общества, в пределах которой разумная человеческая деятельность становится главным определяющим фактором развития.
- 1.5. Авторитет – уважение к занимаемому человеком социальному положению, сложившееся в общественном мнении.
- 1.6. Суверенитет государства подразделяется на внешний и внутренний.
- 1.7. Информации – это один из факторов производства в современном обществе.
- 1.8. Различные способы порицания и поощрения называются санкциями.
- 1.9. Политика – это хозяйственная деятельность, а также совокупность общественных отношений, которые складываются в системе производства, распределения, обмена и потребления товаров и услуг.
- 1.10. Холерик медлителен, но, как правило очень основателен, отличается дотошностью в любом деле.

1.1.	1.2.	1.3.	1.4.	1.5.	1.6.	1.7.	1.8.	1.9.	1.10.
да	да	да	нет	да	нет	нет	да	нет	нет

2. По какому принципу образованы рыбки? Дайте КРАТКИЙ ответ. За правильный ответ 2 балла. Всего 8 баллов

- 2.1. Президентство, парламентаризм, армия, суд, полиция, прокуратура.
- 2.2. Муж, сын, отец, брат.
- 2.3. Врач, банкир, инженер,

5495

2.4. Запрещение гражданам пользоваться услугами филиалов иностранных банков, повышение таможенных пошлин на иностранные товары, ограничение на импорт иностранных изданий Самостоятельно

3. Соотнесите понятия и их определения: к каждой позиции, данной в первом столбце, подберите соответствующую позицию из второго столбца. За каждый правильный ответ по 3 балла, всего 12 баллов

А) принятое в обществе правило, определяющее рамки поведения человека	1) Социальная дифференциация
Б) действия соответствующие его социальному статусу	2) Социальная норма
В) перемещение человека из одной социальной группы в другую	3) Социальная мобильность
Г) разделение общества на группы, занимающие разное социальное положение	4) Социальная роль

4. Дайте юридическое название правонарушению. (14 баллов), по 2 балла за верный ответ.

- 4.1. Соня напаралага свое имя на дворцовой колонне, являющейся памятником архитектуры XVIII века. вандализм
- 4.2. Динрий тайно унес из магазина новый телефон. кража
- 4.3. Степан без разрешения сел в чужой автомобиль и поехал покататься. кража
- 4.4. Старшеклассник заставил второклассника отдать ему 50 рублей. вымогательство

- 4.5. Сергей отобрал в подъезде у девочки мобильный телефон. кража
- 4.6. Иван и Юрий, находясь в автобусе, громко кричали и приставали к пассажирам. нарушение общественного порядка
- 4.7. Вооруженная группа людей завладела кораблем в море. хищение корабля

1

5. Что является лишним в каждом ряду? (по 2 балла за полный ответ, всего 6 баллов) (Лишнее выпишите и объясните, почему вы так решили.)

5.1. Верховенство закона, взаимная ответственность государства и личности, разделение властей, выборность органов государства – разделение властей,

все остальные связаны с законом и ответственностью

5.2. Валютная спекуляция, тариф на экспорт, экспортная субсидия, импортная квота, эмбарго валютная спекуляция так как она связана

от всего остального не связана с торговлей.

5.3. Федерация, унитарное государство, парламентское государство, конфедерация Парламентское государство, это не отдельный вид

вид государства как остальные (типа унитарное государство)

6. Логическая задача.

В одном храме было три внешне одинаковых бога: бог Правды, который никогда не лгал, бог Лжи, который никогда не говорил правду, и бог Дипломатии, который мог как сказать правду, так и солгать. Как узнать, кто из них кто? Один человек сделал это так:

«Кто стоит рядом с тобой?»-спросил он у бога слева. «Бог Правды». «А кто ты?»-спросил он у среднего бога. «Бог Дипломатии». «А кто стоит рядом с тобой?»-спросил он бога справа. «Бог Лжи». «Тогда все понятно»-сказал человек.

Что же понял этот человек из ответов богов? (по 3 балла за правильно указанного бога, всего 9 баллов)

Ответ:

Слева Бог - Дипломатии

Посередине Бог - Лжи

Справа Бог - Правды

7. Ознакомьтесь с инфографикой и приведенными на основании полученной из нее информации высказываниями. Выберите верные варианты. (По 1 баллу за правильный ответ)



4. Россияне указывают один и тот же подходящий возраст для вступления в брак для женщин и для мужчин.
5. Около половины россиян убеждены, что вступление в брак не является необходимым для создания семьи.
6. Больше трети россиян считают, что если пара решает развестись, то никаких действительных препятствий для этого не будет.
7. С 2015 года значительно выросло количество людей, называющих бедность, отсутствие работы и невозможность прокормить семью как причины развода.
8. По мнению россиян, невозможность решить, с кем из родителей будет жить ребенок после развода, скорее является препятствием для расторжения брака, чем сложности с разделом имущества.
9. Бедность семьи явилась причиной четверти разводов в 2015 году.
10. Данная инфографика не позволяет сделать вывод об отношении россиян к необходимости создания семьи и регистрации отношений.

8. Решите правовую задачу.

Гражданин Иванов обратился в суд с требованием признать недействительным сделку купли-продажи, совершённую его 17-летним сыном Андреем. В исковом заявлении гр. Иванов объяснил, что подарил Андрею на день рождения компьютер. Условием дарения являлось поступление Андрея в институт связи. Однако Андрей поступил в институт культуры, подаренный отцом компьютер в тайне от него продал, а на полученные деньги приобрёл синтезатор. Истцом были заявлены следующие исковые требования: отмена договора дарения компьютера, признание недействительными сделок купли-продажи компьютера и купли-продажи синтезатора. Ответчик исковые требования не признал, ссылаясь на то, что после дарения компьютер стал его собственностью, а значит, он мог распоряжаться по своему усмотрению как компьютером, так и средствами, вырученными от его продажи.

Какое решение должен вынести суд по исковым требованиям Иванова?

(Всего 10 баллов)

Если в условии дарения был прописан пункт об условии поступления в институт связи, то сделка недействительна, но с другой стороны, он сначала купил компьютер, а потом составил договор дарения, так что суд должен отклонить иск.

**ВСЕРОССИЙСКАЯ ОЛИМПИАДА ШКОЛЬНИКОВ
ПО ОБЩЕСТВОЗНАНИЮ
ШКОЛЬНЫЙ ЭТАП**

КОД 0908

9 класс

Время выполнения 90 минут

Максимальный балл – 100

1. Установите **верность** или **ложность** утверждений ("ДА" или "НЕТ") и **запишите** ответы в таблицу:

За **каждый** правильный ответ 1 балл, всего 10 баллов.

- + 1.1. Объективной материальной формой мышления является язык.
- + 1.2. Религия есть одна из собственных культурных форм приспособления человека к окружающему миру, удовлетворения его духовных потребностей.
- + 1.3. Доход – количество денежных поступлений индивида или семьи за определенный период времени.
- + 1.4. Ноосфера означает сферу взаимодействия природы и общества, в пределах которой разумная человеческая деятельность становится главным определяющим фактором развития.
- + 1.5. Авторитарно- уважение к занимаемому человеком социальному положению, сложившееся в общественном мнении.
- 1.6. Суверенитет государства подразделяется на внешний и внутренний.
- 1.7. Информация – это один из факторов производства в современном обществе.
- + 1.8. Различные способы порицания и поощрения называют санкциями.
- 1.9. Политика - это хозяйственная деятельность, а также совокупность общественных отношений, которые складываются в системе производства, распределения, обмена и потребления товаров и услуг
- 1.10. Холерик мелочлив, но, как правило очень основателен, отличается дотошностью в любом деле.

1.1.	1.2.	1.3.	1.4.	1.5.	1.6.	1.7.	1.8.	1.9.	1.10.
да	да	да	нет	да	нет	нет	да.	нет	нет

2. По какому **принципу** образованы рыбки? **Дайте КРАТКИЙ** ответ. За **правильный** ответ 2 балла. Всего 8 баллов

2.1. Президентство, парламентаризм, армия, суд, полиция, прокуратура.
власть

2.2. Муж, сын, отец, брат. брак банкир, инженер,

2.3. Врач, директор профессия

2.4. Запрещение гражданам пользоваться услугами филиалов иностранных банков, повышение таможенных пошлин на иностранные товары, ограничение на импорт иностранных изданий Субсидиями

3. Соотнесите понятия и их определения: к каждой позиции, данной в первом столбце, подберите соответствующую позицию из второго столбца. За **каждый** правильный ответ по 3 балла, всего 12 баллов

А) принятое в обществе правило, определяющее рамки поведения человека	1) Социальная дифференциация
Б) действия соответствующие его социальному статусу	2) Социальная норма
В) перемещение человека из одной социальной группы в другую	3) Социальная мобильность
Г) разделение общества на группы, занимающие разное социальное положение	4) Социальная роль

Запишите выбранные цифры под соответствующими буквами.

А	Б	В	Г
2	1	3	4

4. Дайте **юридическое** название правонарушению. (14 баллов), по 2 баллу за **верный** ответ.

4.1. Соля нацарапала свое имя на дворцовой колонне, являющейся памятником архитектуры XVIII века.
вандализм

4.2. Дмитрий тайно унес из магазина новый телефон
кража

4.3. Степан без разрешения сел в чужой автомобиль и поехал покататься
угоны

4.4. Старшеклассник заставил второклассника отдать ему 50 рублей.
Идентификация

4.5. Сергей отобрал в подъезде у девочки мобильный телефон.
Ограбление

4.6. Иван и Юрий, находясь в автобусе, громко кричали и приставали к пассажирам
хулиганство

4.7. Вооруженная группа людей завладела кораблем в море
терроризм

5. Что является лишним в каждом ряду? (по 2 балла за полный ответ, всего 6 баллов) (Лишнее выпишите и объясните, почему вы так решили.)

5.1. Верховенство закона, взаимная ответственность государства и личности, разделение властей, выборность органов государства – Верховенство закона, потому что это не признак демократии.


5.2. Валютная спекуляция, тариф на экспорт, экспортная субсидия, импортная квота, эмбарго Валютная спекуляция, так потому что это не относится к поставкам товара за границу.

5.3. Федерация, унитарное государство, парламентское государство, конфедерация Парламентское государство, т.к. это не относится к территориальному распределению власти на территории.

6. Логическая задача.

В одном храме было три внешне одинаковых бога: бог Правды, который никогда не лгал, бог Лжи, который никогда не говорил правду, и бог Дипломатии, который мог как сказать правду, так и солгать. Как узнать, кто из них кто? Один человек сделал это так:

«Кто стоит рядом с тобой?»-спросил он у бога слева. «Бог Правды». «А кто ты?»-спросил он у среднего бога. «Бог Дипломатии». «А кто стоит рядом с тобой?»-спросил он бога справа. «Бог Лжи». «Тогда все понятно»-сказал человек.



Что же понял этот человек из ответов богов? (по 3 балла за правильно указанного бога, всего 9 баллов)

Ответ:

Слева Бог - Дипломатии

Посередине Бог - Лжи

Справа Бог - Правды

ОТНОШЕНИЕ К БРАКАМ И РАЗВОДАМ: МОНИТОРИНГ

77% РОССИЯН ПРИДЕРЖИВАЕТСЯ
МНЕНИЯ О НЕОБХОДИМОСТИ СОЗДАНИЯ
СЕМЬИ И РЕГИСТРАЦИИ ОТНОШЕНИЙ



Как Вы считаете, какой возраст
для мужчины самый подходящий,
чтобы жениться?

(открытый вопрос, один ответ по ответам
тех, кто назвал определенную цифру (94%))

Как Вы считаете, какой возраст
для женщины самый подходящий,
чтобы выйти замуж?

(открытый вопрос, один ответ по ответам
тех, кто назвал определенную цифру (94%))

СРЕДНИЙ ВОЗРАСТ
(В ГОДАХ)

27




СРЕДНИЙ ВОЗРАСТ
(В ГОДАХ)

24

Представьте себе пару, которая решила развестись.
 На Ваш взгляд, что может им помешать это сделать?
 (закрытый вопрос, до семи ответов, % от всех опрошенных, ТОП-4 содержательных ответов)



Поговорим о разводах. Что, по Вашему мнению, чаще всего вынуждает людей к разводам?
 (открытый вопрос, любое число ответов, % ТОП-3 содержательных ответов)



- 1. Отсутствие взаимопонимания и неумение идти на компромиссы остается одной из самых главных причин разводов в России в 2019 году.
- 2. Большинство российских женщин стремятся вступить в брак до 24 лет.
- + 3. Четверть опрошенных считает, что материальная зависимость одного из супругов может помешать паре развестись.

- 4. Россияне указывают один и тот же подходящий возраст для вступления в брак для женщин и для мужчин.
- 5. Около половины россиян убеждены, что вступление в брак не является необходимым для создания семьи.
- + 6. Больше трети россиян считают, что если пара решает развестись, то никаких действительных препятствий для этого не будет.
- + 7. С 2015 года значительно выросло количество людей, называющих бедность, отсутствие работы и невозможность прокормить семью как причины развода.
- + 8. По мнению россиян, невозможность решить, с кем из родителей будет жить ребенок после развода, скорее является препятствием для расторжения брака, чем сложности с разделом имущества.
- + 9. Бедность семьи явилась причиной четверти разводов в 2015 году.
- 10. Данная инфографика не позволяет сделать вывод об отношении россиян к необходимости создания семьи и регистрации отношений.

8. Решите правовую задачу.

Гражданин Иванов обратился в суд с требованием признать недействительным сделку купли-продажи, совершённую его 17-летним сыном Андреем. В исковом заявлении гр. Иванов объяснил, что подарил Андрею на день рождения компьютер. Условием дарения являлось поступление Андрея в институт связи. Однако Андрей поступил в институт культуры, подаренный отцом компьютер в тайне он него продал, а на полученные деньги приобрёл синтезатор. Истцом были заявлены следующие исковые требования: отмена договора дарения компьютера, признание недействительными сделок купли-продажи компьютера и купли-продажи синтезатора. Ответчик исковые требования не признал, ссылаясь на то, что после дарения компьютер стал его собственностью, а значит, он мог распоряжаться по своему усмотрению как компьютером, так и средствами, вырученными от его продажи.

Какое решение должен вынести суд по исковым требованиям Иванова?

(Всего 10 баллов)

У гр. Иванова, скорее всего есть завещание (то есть имущество принадлежит ему), и нет доказательств дарения. Суд должен вынести решение, что об отмене обеих сделок купли-продажи.

КОД 0908

9. Составьте схему, используя все предложенные понятия и термины. (Всего 13 баллов)

В схеме отразите их соотношение.

1. Верховный суд. 2. Правительство РФ 3. Конституционный суд РФ.
4. Государственная Дума 5. Законодательная власть 6. Исполнительная власть
7. Совет Федерации 8. Судебная власть 9. Органы государственной власти
10. Арбитражный суд РФ 11. Президент 12. Министр

	Президент РФ	
Исполнительная власть	Исполнительная власть	Судебная власть
Государственная Дума	Правительство	Арбитражный суд РФ
Совет Федерации	Министерства	Верховный суд РФ
	Органы государственной власти	Коммунальные органы РФ

10. Решите обществоведческий кроссворд.

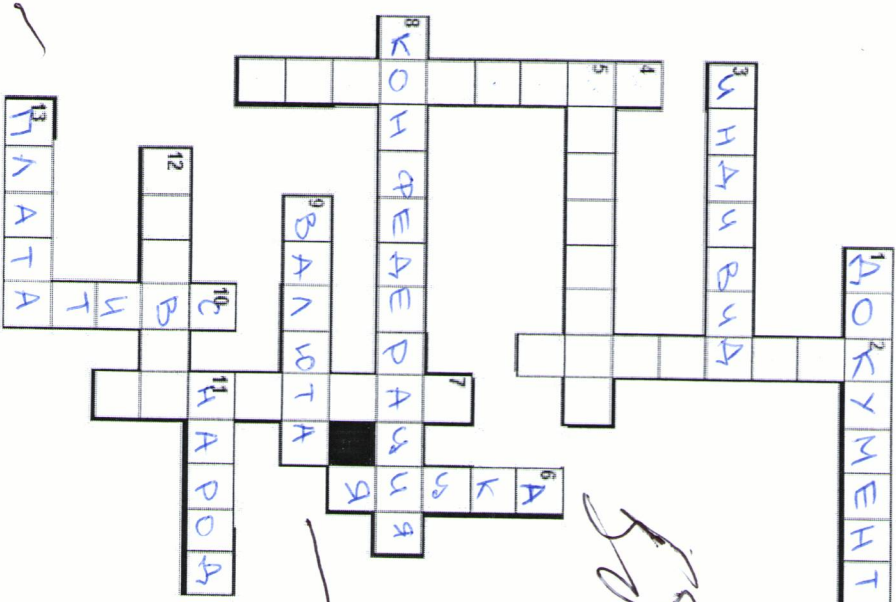
По горизонтали: 1. (в доиндустриальном обществе) - социальная страта в системе социальной стратификации, отличающаяся особым набором определенных законом прав и обязанностей. 3. Единичное как противоположность совокупности, массе; отдельное живое существо, особь, отдельный человек, в отличие от стада, группы, коллектива. 5. Метод познания, основанный на формально-логическом умозаключении, когда общий вывод делается на основе частных посылок. 8. Форма межгосударственного объединения, при которой государства-субъекты образуют постоянный союз в целях координации своей деятельности в тех или иных сферах. 9. Товар особого рода, используемый при обмене как эквивалент всех других товаров. 11. Широко распространенное в науке и политике понятие, которое обозначает совокупность граждан одного государства как политического сообщества. 12. Элемент социальной структуры. 13. Регулярно получаемый доход с имущества (в том числе земли) или с капитала, не требующий от владельца участия в предпринимательской деятельности.

По вертикали: 2. Результат мыслительного процесса, предполагающего, что субъект, констатируя некоторое положение дел, выражает свое отношение к

КОД 0908

содержанию высказанной мысли в форме знания, убеждения, сомнения, веры. 4. Любовь к мудрости. 6. Бесрочная ценная бумага, закрепляющая за совладельцем право на получение дивиденда и как минимум формальное право на участие в управлении компанией. 7. Человек, находящийся в промежуточном, пограничном положении между каким-либо социальными группами. 10. Область культуры, связанная со специализированной деятельностью по созданию (системы знания о природе, обществе и человеке).

(По 1 баллу за правильно написанное слово. Всего 13 баллов)



Список терминов: А) зарплата Б) отрасли В) специальности Г) труд Д) спрос Е) взаимодействие Ж) безработица З) товары И) работник

1	2	3	4	5	6	7	8
Г	З	И	Г	А	Д	Б	В

Максимум 8 баллов.

5. Решите логические задачи. Максимум 13 баллов.

5.1. Петеро школьников приехали из пяти различных городов Калужской области в Калугу для участия в региональной олимпиаде школьников по общественнознанию. «Откуда вы, ребята?» — спросили их. Вот что они ответили: Аристарх: «Я живу в Обнинске, а Геральд — в Тарусе». Бахтияр: «В Тарусе живёт Варлаам. Я же прибыл из Мещовска». Варлаам: «Из Обнинска прибыл я, а Бахтияр — из Малоярославца». Геральд: «Я прибыл из Тарусы, а Дорофей — из Кондрово». Дорофей: «Аристарх приехал из Мещовска, а я действительно живу в Кондрово». Когда удивились противоречивости их ответов, ребята объяснили: «Каждый высказал одно утверждение правильное, а другое — ложное. Но по нашим ответам вполне можно установить, откуда мы приехали». Откуда приехал каждый из школьников? Свой ответ обоснуйте (приведите свои рассуждения).

Отв.: Аристарх - Обиник; Б - Малоярославск; В - Тарус; Г - Мещовск; Д - Кондрово.

Предположим это А из Обиника:

Г.к. А. из Обиника, значит В. собрал это он из Обиника, значит Б. - Малоярославск. (подобравшись Б. собрал это от из Мещовска => В. собрал это он из Тарусы.

Из этого следует, что Г. собрал это он из Тарусы, значит Д. из Кондрова. (подобравшись, В. из Мещовска, Г. из Обиника, Г. же, наоборот из Мещовска)

5.2. Жюри составляет варианты олимпиады по общественнознанию для 6, 7, 8, 9, 10 и 11 классов (по одному для каждого класса). Члены жюри договорились, что в каждом 3 варианте должно быть семь задач, ровно четыре из которых не встречаются ни в одном другом варианте. Какое максимальное число задач можно включить в такую олимпиаду? Свой ответ обоснуйте (приведите свои рассуждения).

Отв.: 39 задач.

Г.к. у каждого 3 варианта должно быть 4 не повторяющихся задач, а всего их будет 2 у каждого и еще 3 повторяющихся задач. (т.к. всего задач 7).

Всего задач будет 36. 2. у каждого 4 задачи будет 7 задач. 4 задачи каждого варианта => 4 * 7 = 28 задач. Плюс 4 не повторяющихся задач у 2 вариантов (4 * 2 = 8 задач): 28 + 8 = 36 задач. У каждого 3 задачи, которые повторяются у двух вариантов: 8 * 2 = 16 задач.

6. Решите правовые задачи. Максимум 11 баллов.

6.1. 18-летний Увар Докужкин вместо службы в армии проходит альтернативную гражданскую службу в госпитале для ветеранов. 1) Укажите возможные причины, по которым Увару Докужкину разрешили заменить военную службу альтернативной. 2) Какими нормативно-правовыми актами регулируется его деятельность?

1) Увар может быть либо председателем некорыстных благотворительных организаций, либо председателем религиозных организаций, либо председателем общественных организаций, либо председателем общественных организаций, либо председателем общественных организаций.

2) Военный устав, наезд его воеводича, устав АПС

6.2. Рафаэль Курочкин является подозреваемым по делу об убийстве. Постановлением следователя к нему была применена мера пресечения в виде заключения под стражу. До заключения под стражу никакие меры пресечения к Рафаэлю Курочкину не применялись. Через 14 суток после заключения Рафаэля Курочкина под стражу ему было предьявлено обвинение в совершении преступления. Какие нарушения уголовно-процессуального права были допущены? Чем это можно объяснить, если предположить, что обвинение было предъявлено только 10 дней.

Нарушения заключаются в том, что обвинение было предъявлено только 10 дней, что является нарушением сроков предъявления обвинения.

7. Решите экономические задачи. Максимум 10 баллов.

7.1. Студент Казимир Флавянов, обучаясь очно в Институте истории и права КГУ им. К.Э. Циолковского по направлению подготовки «Публичная политика и социальные науки» платит 131 тыс. руб. за первый год обучения. Бросив учение, он мог бы зарабатывать 360 тыс. руб. в год. Одновременно работать и учиться не хватает ни сил, ни времени. Какова оптимальная выгода, если принять во внимание только первый год обучения? Дайте ответ и покажите, каким образом вы его просчитали.

Ответ: 36-139 тыс. рублей Ответ: 151 тыс. рублей.

7.2. Индивидуальный предприниматель Марианна Старательная изготавливает дома кондитерские изделия на заказ. За прошедший год, решив проуджинию, она получила выручку в размере 2 400 тыс. рублей, затратив на её производство 1 500 тыс. рублей. Определите рентабельность (или норму прибыли, не рентабельность основного капитала) производства индивидуального предпринимателя Марианны Старательной в прошедшем году. Приведите решение.

Матр Мс ЦП = 20% 2400000 - 20% = 1920000 -
 - 1.500.000 = 420000 руб.
 Ответ: 420 тыс. рублей

ИДРП = 20%
 360 - 72 = 288 тыс.
 Выгода = 96
 = 288 - 131 = 157 тыс. рублей

8.1. Соотнесите виды нанний левого столбца с утверждениями из правого столбца. Ответ запишите в таблицу.

Виды нанний	Утверждения
1 Лучшее	А Не ходи со своим уставом в чужой монастырь
2 Художественное	Б Квалитура компютера - устройство для ввода информации
3 Религиозное	В Человеческие возможности безграничны: при должной тренировке каждый из нас может научиться предсказывать будущее, переводить предметы взглядом и т.п.
4 Народная мудрость	Г «Новая физика» «отменяет» эфир, абсолютное пространство и абсолютное время, релятивизма механику Ньютона.
5 Паранаучное	Д Красота до вещей, а ум до конца
6 Практическое	Е Роман А.С. Пушкина - «описание жизни русской жизни»
	Ж Искус был рожден лесом и милостью Святого Духа.
	З Земля имеет два магнитных полюса
	И Легенда о Великом Никвизиторе есть откровение о человеке

1	+	+				
Г, 3		В, Е	А, Ж	А, Д	В	Б

Максимум 9 баллов.

9. Проанализируйте следующую информацию и ответьте на поставленные вопросы. Максимум 12 баллов.

При выборах в парламент страны Финляндия создается единый многоандатный избирательный округ. Избиратели подают свои голоса не за индивидуальное определенное кандидата, которые выступают «сами по себе», а за список кандидатов, начинающийся, как правило, с «паровоза». Количество мест в парламенте определяется числом голосов, отданных за соответствующий список: чем больше голосов, тем больше мест.

1) Какой тип избирательной системы утвердился в стране Финляндии при выборах в парламент? Вместительный (не провоз)







2) Назовите три его признака.

- 1) Абсолютное голосование
- 2) Народный выбор не за кандидата, а за список кандидатов
- 3) Места в парламенте не соразмерно заране, а в соответствии с количеством голосов

3) Что означает в данном контексте слово «паровоз»?

Может паровоз или поезд, железная дорога.

10. На изображенных представлены религиозные символы. Внимательно их рассмотрите и выполните задания. Максимум 16 баллов.

		
		
А	Б	В
Г	Д	Е

А - Иудаизм
 Б - Христианство
 В -
 Г - Ислам
 Д - индуизм
 Е - эзотерические религии

10.1. Назовите религии, символы которых вы видите на изображенных.

10.2. Распределите буквы, символизирующие религии, в две группы таблицы, самостоятельно обозначив название столбцов.

А	Б	В
Г	Д	Е
Иудаизм	Ислам	Христианство
Индуизм	Эзотерические религии	Иудаизм

ВСЕРОССИЙСКАЯ ОЛИМПИАДА ШКОЛЬНИКОВ ПО
ОБЩЕСТВОЗНАНИЮ ШКОЛЬНЫЙ ЭТАП

2025-2026 год (10--11 классы)

КОД участника 07004

Время выполнения олимпиадных заданий 90 минут.

Максимально возможное количество баллов за работу – 100.

1. «Да» или «нет»? Если вы согласны с тем, что данное утверждение верно, напишите «да», если считаете, что утверждение ошибочно, напишите «нет». Внесите свои ответы в таблицу.

- 1.1. Наука допускает применение художественного вымысла в исследованиях.
- 1.2. Традиционные культуры стремятся к целенаправленному преобразованию мира, обеспечению власти человека над природой.
- 1.3. Эзотерические потребности, согласно теории американского психолога А. Маслоу, относятся к вторичным потребностям человека.
- 1.4. Ограничение контактов девианта с другими людьми является одним из механизмов социального контроля.
- 1.5. Элита общества — это группа людей, стоящая на верхней ступени иерархии, способная создавать образцы потребностей и поведения.
- 1.6. Стенень влияния лидеров, результативность их деятельности связаны с характером среды, в которой они действуют.
- 1.7. Приобретение гражданства по рождению называется филиацией.
- 1.8. Лица без гражданства не могут быть субъектами гражданского права.
- 1.9. Правительство может планировать рост ВВП и проводить экономическую политику, обеспечивающую этот рост.
- 1.10. Укрепление рубля означает, что экспортные товары России становятся более дорогостоящими для иностранцев.

95

1 +	2 +	3	4 +	5 +	6 +	7 +	8 +	9 +	10 +
нет	нет	да	да	да	да	да	нет	да	да

За 10 правильных ответов – 10 баллов, по 1 баллу за каждый правильный ответ.

2. Предложите минимальное по объему обобщающее понятие, объединяющее в себя все нижеперечисленные. По 2 балла за правильный выбор. Всего 4 балла

2.1. Оберегательный сертификат, закладная, коносамент, вексель, фьючерс.

0 банк

2.2. Вещи, имущественные права, работы, услуги, результаты интеллектуальной деятельности, информация.

0 ~~Товар~~ Товар

3. Что является лишним в каждом ряду? Лишнее выпишите и объясните Ваш выбор. Максимум 8 баллов.

3.1. Республика, город федерального значения, автономный округ, автономная область. Город федерального значения, поскольку это не субъект

3.2. Квотирование, экспортный тариф, лицензирование, эмбарго.

15 Экспортный тариф

4. Прочитайте приведенный ниже текст, в котором пропущен ряд слов. Выберите из приведенного ниже списка слова, которые необходимо вставить вместо пропусков. Свой ответ запишите в таблицу.

«Рынок (1) похож на рынки других (2) и услуг. Его особенностью является то, что (3) сам определяет, сколько времени он хотел бы работать, а сколько – отдыхать. На конкурентных рынках рабочей силы цена (4), то есть (5) работница устанавливается как конкурентное предложение и (6) по различным категориям работников, по видам работ, по наличию и отсутствию профсоюзов и т.д. Существует множество рынков (7), на которых предлагается труд работников разных (8) в разных местностях».

Слова в списке даны в именительном падеже. Каждое слово может быть использовано несколько раз. Обратите внимание на то, что слов в списке больше, чем Вам требуется для заполнения пропусков.

Список терминов: А) зарплата Б) отрасль В) специальности Г) груз Д) спрос Е) взаимодействие Ж) безработица З) товары И) работник

1	2	3	4	5	6	7	8
Г	З	И	С	А	Д	Г	Б

Максимум 8 баллов.

5. Решите логические задачи. Максимум 13 баллов.

5.1. Пятеро школьников приехали из пяти различных городов Калужской области в Калугу для участия в региональной олимпиаде школьников по обществознанию. «Откуда вы, ребята?» — спросили их. Вот что они ответили: Аристарх: «Я живу в Обнинске, а Геральд — в Тарусе». Бахтияр: «В Тарусе живёт Варлаам. Я же прибыл из Мешовска». Варлаам: «Из Обнинска прибыл я, а Бахтияр — из Малоярославца». Геральд: «Я прибыл из Тарусы, а Дорофей — из Кондрово». Дорофей: «Аристарх приехал из Мешовска, а я действительно живу в Кондрово». Когда удивились противоречивости их ответов, ребята объяснили: «Каждый высказал одно утверждение правильно, а другое — ложное. Но по нашим ответам вполне можно установить, откуда мы приехали». Откуда приехал каждый из школьников? Свой ответ обоснуйте (приведите свои рассуждения).

Аристарх едет в Тарусу, что Геральд живет в Тарусе, но Геральд не живет в Мешовске (откуда Геральд), но Геральд не может жить в Мешовске (откуда Геральд), Бахтияр из Малоярославца, Геральд из Тарусы, Бахтияр из Мешовска, а Дорофей из Кондрово, Дорофей приехал из Кондрово

5.2. Жюри составляет варианты олимпиады по обществознанию для 6, 7, 8, 9, 10 и 11 классов (по одному для каждого класса). Члены жюри договорились, что в каждом 3 варианте должно быть семь задач, ровно четыре из которых не встречаются ни в одном другом варианте. Какое максимальное число задач можно включить в такую олимпиаду? Свой ответ обоснуйте (приведите свои рассуждения).

6. Решите правовые задачи. Максимум 11 баллов.

6.1. 18-летний Увар Докужкин вместо службы в армии проходит альтернативную гражданскую службу в госпитале для ветеранов. 1) Укажите возможные причины, по которым Увару Докужкину разрешили заменить военную службу альтернативной. 2) Какими нормативно-правовыми актами регулируется его деятельность?

1) Возмещение Увар Докужкин имеет определенные интересы, поэтому он должен служить в армии, поэтому он призван в армию. 2) Федеральный закон от 28.02.2002 № 27-ФЗ "О альтернативной гражданской службе"

- 1) Аристарх - Обнинск
- 2) Бахтияр - Малоярославск
- 3) Варлаам - Тарусе
- 4) Геральд - Мешовск
- 5) Дорофей - Кондрово

6.2. Рафаэль Курочкин является подозреваемым по делу об убийстве. Постановлением следователя к нему была применена мера пресечения в виде заключения под стражу. До заключения под стражу никакие меры пресечения к Рафаэлю Курочкину не применялись. Через 14 суток после заключения Рафаэля Курочкина под стражу ему было предъявлено обвинение в совершении преступления. Какие нарушения уголовно-процессуального права были допущены? До заключения под стражу никакие меры пресечения к Рафаэлю не применялись, а только через 14 суток после заключения под стражу ему было предъявлено обвинение в совершении преступления.

7. Решите экономические задачи. Максимум 10 баллов.

7.1. Студент Казимир Флавианов, обучаясь очно в Институте истории и права КГУ им. К.Э. Циолковского по направлению подготовки «Публичная политика и социальные науки» платит 131 тыс. руб. за первый год обучения. Бросив учение, он мог бы зарабатывать 360 тыс. руб. в год. Одновременно работать и учиться не хватает ни сил, ни времени. Какова оптимальная выгода, если принять во внимание только первый год обучения? Дайте ответ и покажите, каким образом вы это просчитали.

*Решение: за 5 лет обучения в институте у Казимира бы учено всего 655 тысяч, но если бы Казимир бросился, у него было бы денег, зарабатывая 210 тысяч руб. в год. И за 5 лет надо работать он бы стал учить в высшей школе - 360 * 5 = 1800 тысяч*

7.2. Индивидуальный предприниматель Марианна Старательная изготавливает дома кондитерские изделия на заказ. За прошедший год, реализуя продукцию, она получила выручку в размере 2 400 тыс. рублей, затратив на её производство 1 500 тыс. рублей. Определите рентабельность (или норму прибыли, не рентабельность основного капитала) производства индивидуального предпринимателя Марианны Старательной в прошедшем году. Приведите решение задачи.

2400 - 1500 = 900 руб

8.1. Сопоставьте виды знаний левото столбца с утверждениями из правого столбца. Ответ запишите в таблицу.

Виды знаний		Утверждения	
1	Научное	А	Не ходи со своим уставом в чужой монастырь.
2	Художественное	Б	Квадратура круга - устройство для ввода информации
3	Религиозное	В	Человеческие возможности безграничны: при должной тренировке каждый из нас может научиться преисказывать будущее, переворачивать предметы взглядом и т.п.
4	Народная мудрость	Г	«Новая физика» «отменяла» эфир, абсолютное пространство и абсолютное время, релятивизма механику Ньютона.
5	Парадунное	Д	Красота до вешца, а ум до конца
6	Практическое	Е	Роман А.С. Пушкина «эпикопоения русской жизни»
		Ж	Нисусе был рожден деном и мнлостью Святого Духа.
		З	Земля имеет два магнитных полюса
		И	Легенда о Великом Нинвигиторе сть откровение о человеке

Максимум 9 баллов.

1	-	2	+	3	+	4	+	5	-	6	+
Ж	З	Е	Д	Ж	В	И	Г	Б	А	К	Е

9. Проанализируйте следующую информацию и ответьте на поставленные вопросы. Максимум 12 баллов.

При выборах в парламент страны Финляндия создается единый многомандатный избирательный округ. Избиратели подают свои голоса не за индивидуального определенных кандидатов, которые выступают «сами по себе», а за список кандидатов, начинающийся, как правило, с «паровоза». Количество мест в парламенте определяется числом голосов, отданных за соответствующий список: чем больше голосов, тем больше мест.

1) Какой тип избирательной системы утвердился в стране Финляндии при выборах в парламент? *Голосование*







2) Назовите три его признака.

Общности, свобода выбора, право тайны

3) Что означает в данном контексте слово «паровоз»?

символ, означающий, что не надо бояться

10. На изображенных предметах представлены религиозные символы. Внимательно их рассмотрите и выполните задания. Максимум 16 баллов.

		
А	Б	В
		
Г	Д	Е

10.1. Назовите религии, символы которых вы видите на изображениях.

Друидизм, буддизм, ислам

10.2. Распределите буквы, символизирующие религии, в две группы таблицы, самостоятельно обозначив название столбцов.

<i>Б</i>	<i>А</i>
<i>Г</i>	<i>Е</i>