

Всероссийский олимпиада школьников по труду (технологии) (школьный этап)  
2025-2026 учебный год  
направление «Кулинария дома, дизайн и технологии»  
5-6 класс

Шифр участника ТД52

**Уважаемый участник!**

**Школьный этап олимпиады по труду (технологии) проходит в 2 тура:**

- 1 тур – теоретический (вопросы и тесты, творческое задание);
- 2 тур – практическая работа: ручная обработка швейного изделия или узла;

**Время на выполнение олимпиадных заданий:**

- тестирование участников в течение - 40 мин.;
- выполнение практической работы - 90 мин.;

**Общая максимальная сумма баллов, которую может набрать конкурсант - 55 баллов.**

Эта сумма распределяется в следующих величинах по турам конкурса:

- I тур. Теоретические задания (20 баллов)**
  - тестирование (проверка теоретических знаний) - 14 баллов;
  - творческое задание (используя цветные карандаши) - 6 баллов.
- II тур. Практическая работа (35 баллов)**
  - выполнение практического задания

Комплект для первого тура олимпиады включает 15 заданий, из которых 14 заданий теоретические и одно задание творческое.

Вам необходимо внимательно прочитать текст каждого задания и выполнить его в строгом соответствии с формулировкой, то есть дать на каждый из вопросов как можно более полный ответ и выполнить все необходимые расчеты.

Каждое правильно выполненное задание № 1-14 оценивается в 1 балл, полностью правильно выполненное задание № 15 оценивается в 6 баллов.

Максимальное количество баллов, которое участник может набрать в первом туре, составляет 20 баллов.

Продолжительность первого (теоретического) тура составляет 40 минут.

Всероссийская олимпиада школьников по труду (технологии) (школьный этап)  
2025-2026 учебный год  
направление «Кулинария дома, дизайн и технологии»  
5-6 класс

Шифр участника ТД52


**I тур. Теоретические задания**

**Общая часть**

- 1. Вставьте в текст пропущенное слово, слово выберите из предложенных. (1 балл)**

Список слов: *водоотталкивающие, светоотражающие,*

*воздухонепроницаемые.*



«*В моем рюкзаке* элемент стали часто присутствуют на детской одежде. Эта деталь теперь считается очень важной, и она входит в дизайн моделей многих популярных марок. Присутствие *светоотражающих* элементов на детской одежде может значительно снизить детский травматизм на дорогах.

В России требование носить *теплые* года».

Ответ: *светоотражающие*

- 2. Отгадайте загадку, назовите название фрукта. (1 балл)**

«Загляни в осенний сад  
Чудо-мячики висят.  
Красноватый, спелый бок  
Резьтишкам на зубок».

Ответ: *яблоко*

10 баллов

17

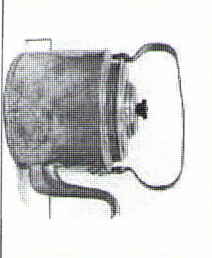


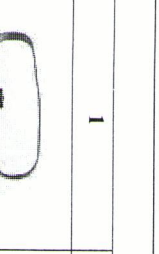
3. Марина собрала малину на даче и хочет её заморозить в морозильной камере, где достаточно места. Как ей следует поступить, чтобы сделать это самым быстрым способом? (1 балл)

Выберите один правильный ответ.

1	Положить в большой контейнер для хранения в морозильной камере в несколько слоев	2	Выложить в один слой, заморозить, затем пересыпать в порционные контейнеры для хранения	3	Положить в небольшие полиэтиленовые пакеты	4	Положить в несколько маленьких контейнеров для хранения в морозильной камере в несколько слоев
---	--	---	---	---	--	---	--

Ответ: 1

4. Установите соответствие между старинными и современными приборами, выполняющими одну и ту же функцию. (1 балл)

		Старина	
1		2	
Современность			
A		B	

3

5. Выберите, к какому виду художественной росписи относится изображение на рисунке (1 балл)

Ответ: 1 - д 2 - в 3 - а.




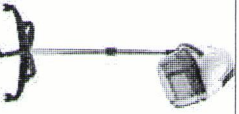

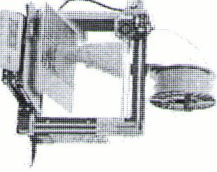


- а) гжельская роспись
- б) мезенская роспись
- в) городецкая роспись
- г) хохломская роспись

Ответ: б

6. Из предложенных рисунков выберите тот, на котором изображён 3D-принтер. (1 балл)

4

Ответ: 8E

14

7. Какое максимальное возможное количество заготовок длиной 350 мм можно сделать из капроновой ленты длиной 2 метра? Запишите решение и ответ. (1 балл)

Решение:  
 $2000 : 6 = 450 (4)$   
 Ответ: 450 (4)




8. Расположите средства связи в порядке их появления.

Запишите соответствующие цифры (например, 123). (1 балл)

1	2	3
готовый телефон	почта	телеграф

Ответ: 2,1,3

9. Установите соответствие между изображениями и названиями рукоделний (1 балл)

Изображение	Названия
	<p>A оригами</p>
	<p>Б вышивка гладью</p>
	<p>В бисероплетение</p>

Ответ: 1 - б, 2 - в, 3 - а.

14


10. (1 балл) Из предложенного списка выберите блюдо, в рецепт которого входят только пищевые продукты растительного происхождения.

- а) омлет
- б) какао
- в) суп харчо
- г) винегрет

Ответ: 2

+1

11. Рассмотрите приведенный рисунок. Определите, какая сельскохозяйственная культура изображена на нём. (1 балл)



- а) киви
- б) банан
- в) груша
- г) кокос
- д) слива
- е) яблоко
- ж) ананас
- з) виноград

+1

Ответ: з

7

12. Из предложенного списка выберите продукты растительного происхождения (1 балл)

- а) мясо
- б) дайкон
- в) яйцо
- г) масло подсолнечное
- д) рыба
- е) картофель

Ответ: 2

+1


13. Из предложенного списка выберите слово, чтобы получить известную поговорку: «Каково волокно, таково и ...». (1 балл)

- а) толотно б) полотно в) домино

Ответ: б

+1

14. Выберите фотографию из чего производят шёлк: (1 балл)



8




Ответ: в

+1

15. ТВОРЧЕСКОЕ ЗАДАНИЕ (6 баллов)

Подготовьте праздник по мотивам народной сказки «ТРИ МЕДВЕДЯ». Для этого выполните следующее:



а. Нарисуйте открытку-приглашение. (2 балла)

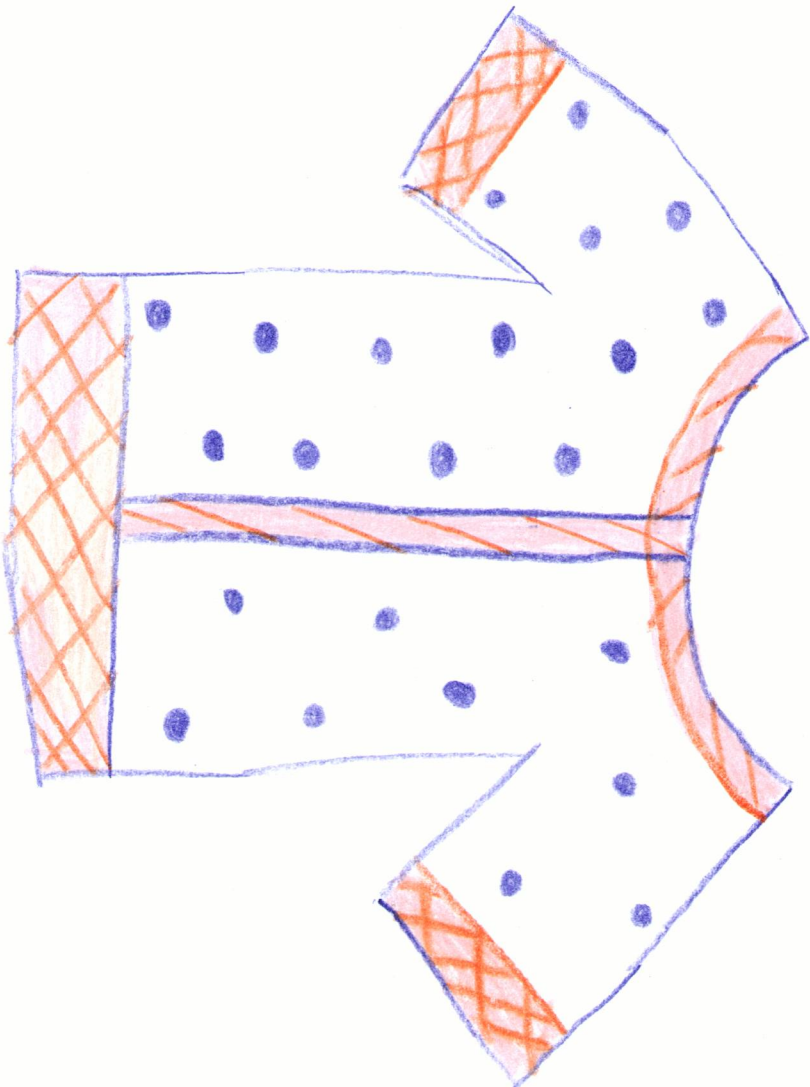


6. Придумайте текст приглашения на праздник. (1 балл)

Приглашаем вас на праздник всех мам, бабушек и дедушек, а также всех родившихся в год медведя и котика.

+1

в. Нарисуйте рубаху для этого праздника (3 балла)



+3

Шифр участника ТД 51 5-6 класс

**Уважаемый участник!**

**Школьный этап олимпиады по труду (технологии) проходит в 2 тура:**

- 1 тур – теоретический (вопросы и тесты, творческое задание);
- 2 тур – практическая работа: ручная обработка швейного изделия или узла;

**Время на выполнение олимпиадных заданий:**

- тестирование участников в течение - 40 мин.;
- выполнение практической работы - 90 мин.;

**Общая максимальная сумма баллов, которую может набрать конкурсант - 55 баллов.**

Эта сумма распределяется в следующих величинах по турам конкурса:

- I тур. Теоретические задания (20 баллов)**
- тестирование (проверка теоретических знаний) - 14 баллов;
- творческое задание (используя цветные карандаши) - 6 баллов.
- II тур. Практическая работа (35 баллов)**
- выполнение практического задания

Комплект для первого тура олимпиады включает 15 заданий, из которых 14 заданий теоретические и одно задание творческое.

Вам необходимо внимательно прочитать текст каждого задания и выполнить его в строгом соответствии с формулировкой, то есть дать на каждый из вопросов как можно более полный ответ и выполнить все необходимые расчеты.

Каждое правильно выполненное задание № 1-14 оценивается в 1 балл, полностью правильно выполненное задание № 15 оценивается в 6 баллов.

Максимальное количество баллов, которое участник может набрать в первом туре, составляет 20 баллов.

Продолжительность первого (теоретического) тура составляет 40 минут.


Шифр участника ТД 51 5-6 класс

**I тур. Теоретические задания**

**Общая часть**

1. Вставьте в текст пропущенное слово, слово выберите из предложенных. (1 балл)

Список слов: водоотталкивающие, светоотражающие, воздухопроницаемые.



«Водоотталкивающие» элементы стали часто присутствовать на детской одежде. Эта деталь теперь считается очень важной, и она входит в дизайн моделей многих популярных марок.

Присутствие Водоотталкивающие элементов на детской одежде может значительно снизить детский травматизм на дорогах.

В России требование носить Водоотталкивающие при движении в тёмное время суток введено с 2006 года».

Ответ: Водоотталкивающие

2. Отгадайте загадку, получите название фрукта. (1 балл)

«Загляни в осенний сад  
Чудо-мачики висят.  
Красноватый, спелый бок  
Ребятишкам на зубок».

Ответ: Яблоко

17 баллов



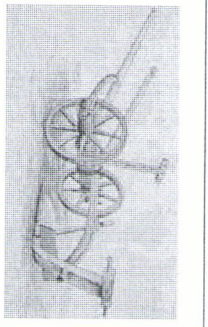

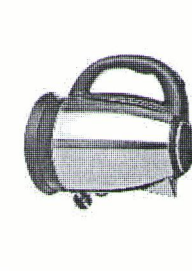

3. Марина собрала малину на даче и хочет её заморозить в морозильной камере, где достаточно места. Как ей следует поступить, чтобы сделать это самым быстрым способом? (1 балл)

Выберите один правильный ответ.

1	Положить в большой контейнер для хранения в морозильной камере в несколько слоев	2	Выложить в один слой, заморозить, затем пересыпать в порционные контейнеры для хранения	3	Положить в небольшие полиэтиленовые пакеты	4	Положить в несколько маленьких контейнеров для хранения в морозильной камере в несколько слоев
---	--	---	---	---	--	---	--

Ответ: 3

4. Установите соответствие между старинными и современными приборами, выполняющими одну и ту же функцию. (1 балл)

		Старинна	
1	2	3	
			
Современность			
A	B		B
			

Ответ: 1 - Б 2 - В 3 - А.

41







5. Выберите, к какому виду художественной росписи относится изделие, изображённое на рисунке (1 балл)



- а) гжельская роспись
- б) мезенская роспись
- в) городецкая роспись
- г) хохломская роспись

Ответ: 2

6. Из предложенных рисунков выберите тот, на котором изображён 3D-принтер. (1 балл)

Ответ: Е

7. Какое максимально возможное количество заготовок длиной 350 мм можно сделать из капроновой ленты длиной 2 метра? Запишите решение и ответ. (1 балл)




Решение:  
 $2000 : 350 = 5 (г.) (ост. 250 мм)$   
 Ответ: 5 заготовок (ост. 250 мм) +1

8. Расположите средства связи в порядке их появления.  
 Запишите соответствующие цифры (например, 123). (1 балл)

1	2	3
сотовый телефон	почта	телеграф

Ответ: 2 1 3

9. Установите соответствие между изображениями и названиями рукоделгий (1 балл)

Изображение	Названия
	А ОРИГАМИ
	Б вышивка гладью
	В бисероплетение

Ответ: 1 - Б, 2 - В, 3 - А.

10. (1 балл) Из предложенного списка выберите блюдо, в рецепт которого входят только пищевые продукты растительного происхождения.

- а) омлет
- б) какао
- в) суп харчо
- г) винегрет

Ответ: 2

+1

11. Рассмотрите приведённый рисунок. Определите, какая сельско-хозяйственная культура изображена на нём. (1 балл)



- а) киви
- б) банан
- в) груша
- г) кокос
- д) слива
- е) яблоко
- ж) ананас
- з) виноград

+1

Ответ: 3

7

12. Из предложенного списка выберите продукты растительного происхождения (1 балл)

- а) мясо
- б) дайкон
- в) яйцо
- г) масло подсолнечное
- д) рыба
- е) картофель

Ответ: е

+1


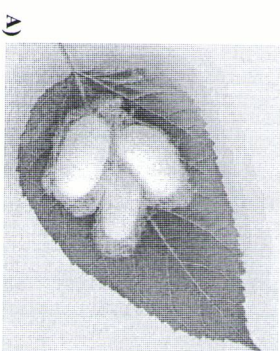
13. Из предложенного списка выберите слово, чтобы получить известную поговорку: «Каково волокно, таково и ...». (1 балл)

- а) толлокно б) полотно в) домино

Ответ: б

+1

14. Выберите фотографию из чего производят шёлк: (1 балл)



8




В) \_\_\_\_\_  
 Ответ: a

+1

15. ТВОРЧЕСКОЕ ЗАДАНИЕ (6 баллов)

Подготовьте праздник по мотивам народной сказки «ТРИ МЕДВЕДЯ». Для этого выполните следующее:



а. Нарисуйте открытку-приглашение. (2 балла)



2

6. Придумайте текст приглашения на праздник. (1 балл)  
 Приглашаем вас на праздник в гости семьи медведя и. Там будет много вкусных и полезных блюд для мам!

1

Всероссийская олимпиада школьников по труду (технологии) (школьный этап)  
2025-2026 учебный год  
направление «Культура дома, дизайн и технологии»  
5-6 класс

Шифр участника

1051

в. Нарисуйте рубаху для этого праздника (3 балла)



3

Шифр участника 7053 5-6 класс

Уважаемый участник!

Школьный этап олимпиады по труду (технологии) проходит в 2 тура:

- 1 тур – теоретический (вопросы и тесты, творческое задание);
- 2 тур – практическая работа: ручная обработка швейного изделия или узла;

Время на выполнение олимпиадных заданий:

- тестирование участников в течение - 40 мин.;
- выполнение практической работы - 90 мин.;

Общая максимальная сумма баллов, которую может набрать конкурсант - 55 баллов.

Эта сумма распределяется в следующих величинах по турам конкурса:

**I тур. Теоретические задания (20 баллов)**

- тестирование (проверка теоретических знаний) - 14 баллов;

- творческое задание (используя цветные карандаши) - 6 баллов.

**II тур. Практическая работа (35 баллов)**

- выполнение практического задания

Комплект для первого тура олимпиады включает 15 заданий, из которых 14 заданий теоретические и одно задание творческое.

Вам необходимо внимательно прочитать текст каждого задания и выполнить его в строгом соответствии с формулировкой, то есть дать на каждый из вопросов как можно более полный ответ и выполнить все необходимые расчеты.

Каждое правильно выполненное задание № 1-14 оценивается в 1 балл, полностью правильно выполненное задание № 15 оценивается в 6 баллов.

Максимальное количество баллов, которое участник может набрать в первом туре, составляет 20 баллов.

Продолжительность первого (теоретического) тура составляет 40 минут.

165611066

Шифр участника 7053 5-6 класс


I тур. Теоретические задания

Общая часть

1. Вставьте в текст пропущенное слово, слово выберите из предложенных. (1 балл)

Список слов: *водоотталкивающие, светоотражающие, водоупорнивающие,*

*воздухонепроницаемые.*



«*светоотражающие*» элементы стали часто присутствовать на детской одежде. Эта деталь теперь считается очень важной, и она входит в дизайн моделей многих популярных марок.

Присутствие *светоотражающих* элементов на детской одежде может значительно снизить детский травматизм на дорогах.

В России требование носить *светоотражающие* года».

2. Отгадайте загадку, получите название фрукта. (1 балл)

«Загляни в осенний сад

Чудо-мячики висят.

Красноватый, спелый бок

Ребятишкам на зубок».

Ответ: яблоко

Шифр участника 7053

5-6 класс

3. Марина собрала малину на даче и хочет её заморозить в морозильной камере, где достаточно места. Как ей следует поступить, чтобы сделать это самым быстрым способом? (1 балл)



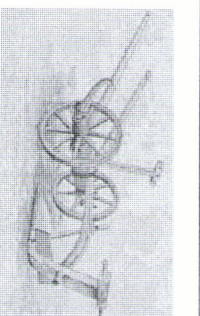

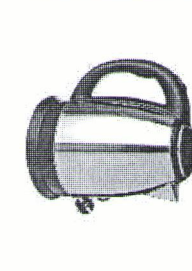

Выберите один правильный ответ.

1	2	3	4
Положить в большой контейнер для хранения в морозильной камере в несколько слоев	Выложить в один слой, заморозить, затем пересыпать в порционные контейнеры для хранения	Положить в небольшие полиэтиленовые пакеты	Положить в несколько маленьких контейнеров для хранения в морозильной камере в несколько слоев

Ответ: \_\_\_\_\_

11

4. Установите соответствие между старинными и современными приборами, выполняющими одну и ту же функцию. (1 балл)

Старина		
1	2	3
		
Современность		
А	Б	В
		

3

Шифр участника 7053

5-6 класс

Ответ: 1 - В 2 - Б 3 - А.

1

5. Выберите, к какому виду художественной росписи относится изделие, изображённое на рисунке (1 балл)









- а) Гжельская роспись
- б) Мезенская роспись
- в) Городецкая роспись
- г) Хохломская роспись

Ответ: а

6. Из предложенных рисунков выберите тот, на котором изображён 3D-принтер. (1 балл)

4

 <p>A</p>	 <p>B</p>
 <p>V</p>	 <p>Г</p>
 <p>Д</p>	 <p>E</p>

Ответ: Е

7. Какое максимально возможное количество заготовок длиной 350 мм можно сделать из капроновой ленты длиной 2 метра? Запишите решение и ответ. (1 балл)

Решение:  
 $2000 : 6 = 250$   
 Ответ: 6




8. Расположите средства связи в порядке их появления.

Запишите соответствующие цифры (например, 123). (1 балл)

1	2	3
сотовый телефон	почта	телеграф

Ответ: 2,3,1

9. Установите соответствие между изображениями и названиями рукоделний (1 балл)

Изображение	Название
 <p>1</p>	<p>A</p> <p>оригами</p>
 <p>2</p>	<p>Б</p> <p>вышивка гладью</p>
 <p>3</p>	<p>В</p> <p>бисероплетение</p>

Ответ: 1 - А, 2 - Б, 3 - В.


10. (1 балл) Из предложенного списка выберите блюдо, в рецепт которого входят только пищевые продукты растительного происхождения.

- а) омлет
- б) какао
- в) суп харчо
- г) винегрет

Ответ: г

+1

11. Рассмотрите приведённый рисунок. Определите, какая сельскохозяйственная культура изображена на нём. (1 балл)



- а) киви
- б) банан
- в) груша
- г) кокос
- д) слива
- е) яблоко
- ж) ананас
- з) виноград

Ответ: з

7

12. Из предложенного списка выберите продукты растительного происхождения (1 балл)

- а) мясо
- б) дايкон
- в) яйцо
- г) масло подсолнечное
- д) рыба
- е) картофель

Ответ: е


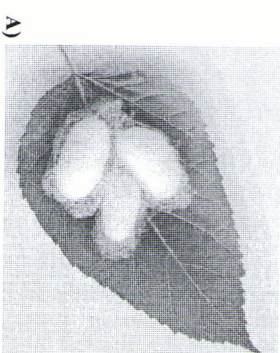
+1

13. Из предложенного списка выберите слово, чтобы получить известную поговорку: «Каково волокно, таково и ...». (1 балл)

- а) толотно б) полотно в) домино

Ответ: б

14. Выберите фотографию из чего производят шёлк: (1 балл)



8



Ответ: а


15. ТВОРЧЕСКОЕ ЗАДАНИЕ (6 баллов)

Подготовьте праздник по мотивам народной сказки «ТРИ МЕДВЕДЯ». Для этого выполните следующее:



71

а. Нарисуйте открытку-приглашение. (2 балла)




72

6. Придумайте текст приглашения на праздник. (1 балл)  
 Приглашаем вас на праздник  
 по мотивам сказки про медведя.  
 Приглашаем вас прийти  
 в 15:40. Ждем всех с радостью

71

в. Нарисуйте рубаху для этого праздника (3 балла)



3

**Уважаемый участник!**

**Школьный этап олимпиады по труду (технологии) проходит в 2 тура:**

- 1 тур – теоретический (вопросы и тесты, творческое задание);
- 2 тур – практическая работа: ручная обработка швейного изделия или узла.

**Время на выполнение олимпиадных заданий:**

- тестирование участников в течение - 40 мин.;
- выполнение практической работы - 90 мин.;

**Общая максимальная сумма баллов, которую может набрать конкурсант - 55 баллов.**

Эта сумма распределяется в следующих величинах по турам конкурса:

- I тур. Теоретические задания (20 баллов)**
  - тестирование (проверка теоретических знаний) - 14 баллов;
  - творческое задание (используя цветные карандаши) - 6 баллов.
- II тур. Практическая работа (35 баллов)**
  - выполнение практического задания

Комплект для первого тура олимпиады включает 15 заданий, из которых 14 заданий теоретические и одно задание творческое.

Вам необходимо внимательно прочитать текст каждого задания и выполнить его в строгом соответствии с формулировкой, то есть дать на каждый из вопросов как можно более полный ответ и выполнить все необходимые расчеты.

Каждое правильно выполненное задание № 1-14 оценивается в 1 балл, полностью правильно выполненное задание № 15 оценивается в 6 баллов.

Максимальное количество баллов, которое участник может набрать в первом туре, составляет 20 баллов.


Продолжительность первого (теоретического) тура составляет 40 минут.

**I тур. Теоретические задания**

**Общая часть**

**1. Вставьте в текст пропущенное слово, слово выберите из предложенных. (1 балл)**

Список слов: *водоотталкивающие, светоотражающие, водоупорнивающие.*



«Светоотражающие элементы стали часто присутствовать на детской одежде. Эта деталь теперь считается очень важной, и она входит в дизайн моделей многих популярных марок.

Присутствие водоотражающих элементов на детской одежде может значительно снизить детский травматизм на дорогах.

В России требование носить

светоотражающие при движении в тёмное время суток введено с 2006 года».

Ответ: Светоотражающие

**2. Отгадайте загадку, получите название фрукта. (1 балл)**

- «Загляни в осенний сад  
Чудо-мячики висят.  
Красноватый, спелый бок  
Робятишкам на зубок».

Ответ: Яблоки

135

Шифр участника **ТД 68** 5-6 класс



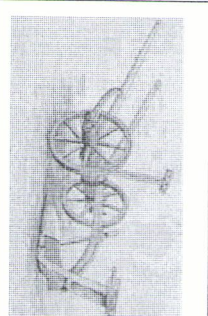



3. Марина собрала малину на даче и хочет её заморозить в морозильной камере, где достаточно места. Как ей следует поступить, чтобы сделать это самым быстрым способом? (1 балл)

Выберите один правильный ответ.

1	2	3	4
Положить в большой контейнер для хранения в морозильной камере в несколько слоев	Выложить в один слой, заморозить, затем пересыпать в порционные контейнеры для хранения	Положить в небольшие полиэтиленовые пакеты	Положить в несколько маленьких контейнеров для хранения в морозильной камере в несколько слоев

Ответ: 2

4. Установите соответствие между старинными и современными приборами, выполняющими одну и ту же функцию. (1 балл)

Старинна		
1	2	3
		
Современность		
А	Б	В
		

3

Шифр участника **ТД 68** 5-6 класс

Ответ: 1 - Б 2 - В 3 - А.

5. Выберите, к какому виду художественной росписи относится изделие, изображённое на рисунке (1 балл)









- а) гжельская роспись
- б) мезенская роспись
- в) городецкая роспись
- г) хохломская роспись

Ответ: а)

6. Из предложенных рисунков выберите тот, на котором изображён 3D-принтер. (1 балл)

4

	
А	Б
	
В	Г
	
Д	Е

Ответ: Е

7. Какое максимальное возможное количество заготовок длиной 350 мм можно сделать из капроновой ленты длиной 2 метра? Запишите решение и ответ. (1 балл)




Решение:  
 1)  $2 м = 2000 мм$  2)  $2000 : 350 = 5$  (ост 250)  
 Ответ: 5

8. Расположите средства связи в порядке их появления. Запишите соответствующие цифры (например, 123). (1 балл)

1	2	3
сотовый телефон	почта	телеграф

Ответ: 2, 3, 1

9. Установите соответствие между изображениями и названиями рукоделний (1 балл)

Изображение	Название
	А оригами
	Б вышивка гладью
	В бисероплетение

Ответ: 1 - А, 2 - Б, 3 - В.

10. (1 балл) Из предложенного списка выберите блюдо, в рецепт которого входят только пищевые продукты растительного происхождения.

- а) омлет
- б) какао
- в) суп харчо
- г) винегрет


Ответ: а)

12. Из предложенного списка выберите продукты растительного происхождения (1 балл)

- а) мясо
- б) дайкон
- в) яйцо
- г) масло подсолнечное
- д) рыба
- е) картофель

Ответ: а), б) г)

11. Рассмотрите приведённый рисунок. Определите, какая сельскохозяйственная культура изображена на нём. (1 балл)



- а) киви
- б) банан
- в) груша
- г) кокос
- д) слива
- е) яблоко
- ж) ананас
- з) виноград



Ответ: з)

13. Из предложенного списка выберите слово, чтобы получить известную поговорку: «Каково волокно, таково и ...». (1 балл)

- а) толокно б) полотно в) домино

Ответ: б)

14. Выберите фотографию из чего производят шёлк: (1 балл)







Ответ:  В)  Г)

### 15. ТВОРЧЕСКОЕ ЗАДАНИЕ (6 баллов)

Подготовьте праздник по мотивам народной сказки «ТРИ МЕДВЕДЯ». Для этого выполните следующее:



а. Нарисуйте открытку-приглашение. (2 балла)



6. Придумайте текст приглашения на праздник. (1 балл)


Дорогие друзья! Приглашаем вас посетить наш праздник. Ваши  
друзья ждут вас под вывеской «Праздник».  
Пригласительная открытка и вкусный обед. В конце  
очень ждем вас.

Маша Медведица.


Шифр участника 19 68

5-6 класс

в. Нарисуйте рубаху для этого праздника (3 балла)



1+1



Уважаемый участник!

Школьный этап олимпиады по труду (технологии) проходит в 2 тура:

- 1 тур – теоретический (вопросы и тесты, творческое задание);
- 2 тур – практическая работа: ручная обработка швейного изделия или узла.

Время на выполнение олимпиадных заданий:

- тестирование участников в течение - 40 мин.;
- выполнение практической работы - 90 мин.;

Общая максимальная сумма баллов, которую может набрать конкурсант - 55 баллов.

Эта сумма распределяется в следующих величинах по турам конкурса:

- I тур. Теоретические задания (20 баллов)**
  - тестирование (проверка теоретических знаний) - 14 баллов;
  - творческое задание (используя цветные карандаши) - 6 баллов.
- II тур. Практическая работа (35 баллов)**
  - выполнение практического задания

Комплект для первого тура олимпиады включает 15 заданий, из которых 14 заданий теоретические и одно задание творческое.

Вам необходимо внимательно прочитать текст каждого задания и выполнить его в строгом соответствии с формулировкой, то есть дать на каждый из вопросов как можно более полный ответ и выполнить все необходимые расчеты.

Каждое правильно выполненное задание № 1-14 оценивается в 1 балл, полностью правильно выполненное задание № 15 оценивается в 6 баллов.

Максимальное количество баллов, которое участник может набрать в первом туре, составляет 20 баллов.


Продолжительность первого (теоретического) тура составляет 40 минут.

I тур. Теоретические задания

Общая часть

- 1. Вставьте в текст пропущенное слово, слово выберите из предложенных. (1 балл)

Список слов: водоотталкивающие, светоотражающие, водоупорная, водоотталкивающие.



«Водоотталкивающие» элементы стали часто присутствовать на детской одежде. Эта деталь теперь считается очень важной, и она входит в дизайн моделей многих популярных марок. Присутствие светоотражающих элементов на детской одежде может значительно снизить детский травматизм на дорогах.

В России требование носить светоотражающие при движении в тёмное время суток введено с 2006 года».

Ответ: светоотражающие

- 2. Отгадайте загадку, получите название фрукта. (1 балл)

- «Загляни в осенний сад  
Чудо-мячики висят.  
Красноватый, спелый бок  
Рябтышкам на зубок».

Ответ: мандарин



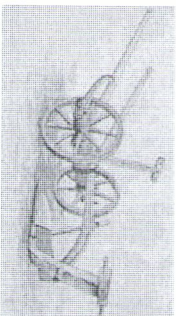


3. Марина собрала малину на даче и хочет её заморозить в морозильной камере, где достаточно места. Как ей следует поступить, чтобы сделать это самым быстрым способом? (1 балл)

Выберите один правильный ответ.

1	Положить в большой контейнер для хранения в морозильной камере в несколько слоев	2	Выложить в один слой, заморозить, затем пересыпать в порционные контейнеры для хранения	3	Положить в небольшие полиэтиленовые пакеты	4	Положить в несколько малярных контейнеров для хранения в морозильной камере в несколько слоев
---	--	---	---	---	--	---	---

Ответ: 2

4. Установите соответствие между старинными и современными приборами, выполняющими одну и ту же функцию. (1 балл)

		Старина			
1		2		3	
Современность					
A		B			

3

Ответ: 1 - Б 2 - В 3 - А.

5. Выберите, к какому виду художественной росписи относится изделие, изображённое на рисунке (1 балл)









- а) Гжельская роспись
- б) мезенская роспись
- в) городецкая роспись
- г) хохломская роспись

Ответ: г) хохломская роспись

6. Из предложенных рисунков выберите тот, на котором изображён 3D-принтер. (1 балл)

4

Шифр участника ТД65

 <p>A</p>	 <p>B</p>
 <p>B</p>	 <p>Г</p>
 <p>Д</p>	 <p>E</p>

Ответ: Е

7. Какое максимально возможное количество заготовок длиной 350 мм можно сделать из капроновой ленты длиной 2 метра? Запишите решение и ответ. (1 балл)

Шифр участника ТД65

Решение: 2000 : 350 = 5, 250




Ответ: 5

8. Расположите средства связи в порядке их появления.  
 Запишите соответствующие цифры (например, 123). (1 балл)

1	2	3
сотовый телефон	почта	телеграф

Ответ: 2, 3, 1.

9. Установите соответствие между изображениями и названиями рукоделий (1 балл)

Изображение	Названия
 <p>1</p>	<p>A</p> <p>оригами</p>
 <p>2</p>	<p>B</p> <p>вышивка гладью</p>
 <p>3</p>	<p>B</p> <p>бисероплетение</p>

Ответ: 1 - B, 2 - B, 3 - A.


Шифр участника ТД65 5-6 класс

10. (1 балл) Из предложенного списка выберите блюдо, в рецепт которого входят только пищевые продукты растительного происхождения.

- а) омлет
- б) какао
- в) суп харчо
- г) винегрет

Ответ: г) винегрет

11. Рассмотрите приведённый рисунок. Определите, какая сельскохозяйственная культура изображена на нём. (1 балл)



- а) киви
- б) банан
- в) груша
- г) кокос
- д) слива
- е) яблоко
- ж) ананас
- з) виноград

Ответ: з) виноград 7

Шифр участника ТД65 5-6 класс

12. Из предложенного списка выберите продукты растительного происхождения (1 балл)

- а) мясо
- б) дайкон
- в) яйцо
- г) масло подсолнечное
- д) рыба
- е) картофель


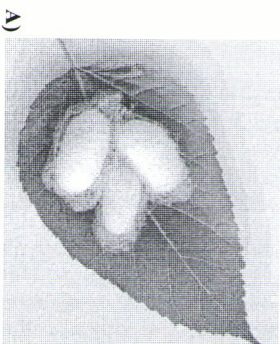
Ответ: в) яйцо

13. Из предложенного списка выберите слово, чтобы получить известную поговорку: «Каково волокно, таково и ...». (1 балл)

- а) толокно б) полотно в) домино

Ответ: б) полотно

14. Выберите фотографию из чего производят шёлк: (1 балл)





В)

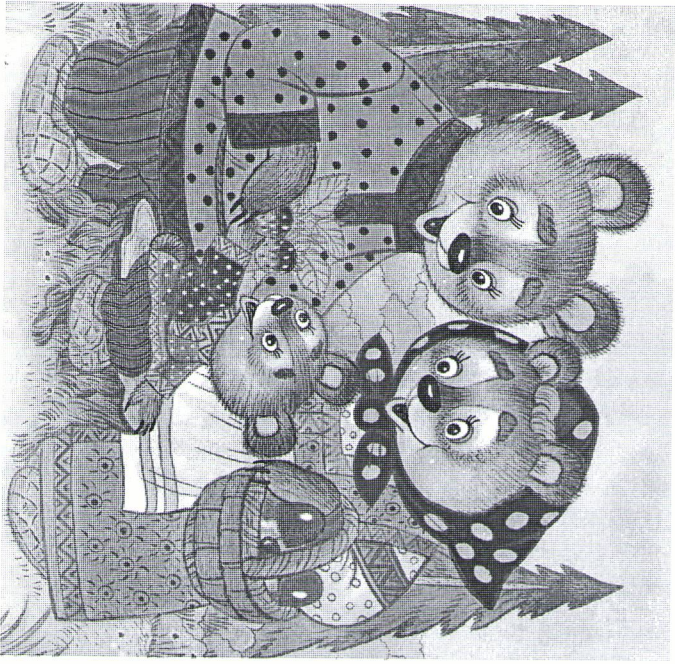


Д)

Ответ: Б

15. ТВОРЧЕСКОЕ ЗАДАНИЕ (6 баллов)

Подготовьте праздник по мотивам народной сказки «ТРИ МЕДВЕДЯ». Для этого выполните следующее:



а. Нарисуйте открытку-приглашение. (2 балла)

Приглашение  
 Праздника  
 на медвежий  
 день  
 11:00  
 09.10.25  
 Приглашаем  
 всех желающих  
 друзей  
 и родных  
 на медвежий  
 день  
 11:00  
 09.10.25

6. Придумайте текст приглашения на праздник. (1 балл)

Приглашаем вы на медвежий праздник  
 медвежий день  
 11:00  
 09.10.25  
 Приглашаем  
 всех желающих  
 друзей  
 и родных

в. Нарисуйте рубаху для этого праздника (3 балла)



2

Шифр участника ТД 64 5-6 класс

**Уважаемый участник!**

**Школьный этап олимпиады по труду (технологии) проходит в 2 тура:**

- 1 тур – теоретический (вопросы и тесты, творческое задание);
- 2 тур – практическая работа: ручная обработка швейного изделия или узла;

**Время на выполнение олимпиадных заданий:**

- тестирование участников в течение - 40 мин.;
- выполнение практической работы - 90 мин.;

**Общая максимальная сумма баллов, которую может набрать конкурсант - 55 баллов.**

Эта сумма распределяется в следующих величинах по турам конкурса:

- I тур. Теоретические задания (20 баллов)**
  - тестирование (проверка теоретических знаний) - 14 баллов;
  - творческое задание (используя цветные карандаши) - 6 баллов.
- II тур. Практическая работа (35 баллов)**
  - выполнение практического задания

Комплект для первого тура олимпиады включает 15 заданий, из которых 14 заданий теоретические и одно задание творческое.

Вам необходимо внимательно прочитать текст каждого задания и выполнить его в строгом соответствии с формулировкой, то есть дать на каждый из вопросов как можно более полный ответ и выполнить все необходимые расчеты.

Каждое правильно выполненное задание № 1-14 оценивается в 1 балл, полностью правильно выполненное задание № 15 оценивается в 6 баллов.

Максимальное количество баллов, которое участник может набрать в первом туре, составляет 20 баллов.

Продолжительность первого (теоретического) тура составляет 40 минут.

Шифр участника ТД 64 5-6 класс


**I тур. Теоретические задания**

**Общая часть**

1. Вставьте в текст пропущенное слово, слово выберите из предложенных. (1 балл)

Список слов: *водоотталкивающие, светоотражающие, водоупорощивающие.*

*воздухопроницаемые.*



*Ветсонкрасящиеся*  
«~~Светоотражающие~~» элементы стали часто присутствовать на детской одежде. Эта деталь теперь считается очень важной, и она входит в дизайн моделей многих популярных марок.

Присутствие *ветсонкрасящиеся* элементов на детской одежде может значительно снизить детский травматизм на дорогах.

*Ветсонкрасящиеся* При движении в тёмное время суток введено с 2006 года».

Ответ: *ветсонкрасящиеся*

2. Отгадайте загадку, получите название фрукта. (1 балл)

«Загляни в осенний сад  
Чудо-мечики висят.  
Красноватый, спелый бок  
Ребятишкам на зубок».

Ответ: *яблоко*

148

Шифр участника ТД 64



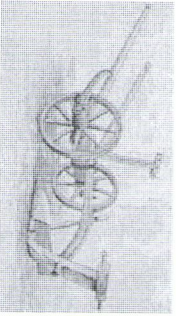



3. Марина собрала малину на даче и хочет её заморозить в морозильной камере, где достаточно места. Как ей следует поступить, чтобы слезать это самым быстрым способом? (1 балл)

Выберите один правильный ответ.

1	Положить в большой контейнер для хранения в морозильной камере в несколько слоёв	2	Выложить в один слой, заморозить, затем пересыпать в порционные контейнеры для хранения	3	Положить в небольшие полиэтиленовые пакеты	4	Положить в несколько маленьких контейнеров для хранения в морозильной камере в несколько слоёв
---	--	---	---	---	--	---	--

Ответ: 3

4. Установите соответствие между старинными и современными приборами, выполняющими одну и ту же функцию. (1 балл)

		Старина	
1		2	
3			
Современность			
А		Б	
			

3

Шифр участника ТД 64

Ответ: 1 - ~~АБ~~ 2 - Б 3 - А.

5. Выберите, к какому виду художественной росписи относится изделие, изображённое на рисунке (1 балл)

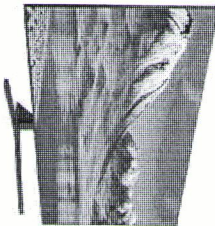







- а) гжельская роспись
- б) мезенская роспись
- в) городецкая роспись
- г) хохломская роспись

Ответ: а

6. Из предложенных рисунков выберите тот, на котором изображён 3D-принтер. (1 балл)

4

	
А	Б
	
В	Г
	
Д	Е

Ответ: Е

7. Какое максимально возможное количество заготовок длиной 350 мм можно сделать из канцеровой ленты длиной 2 метра? Запишите решение и ответ. (1 балл)




Решение: 0  
 Ответ: 250:35

8. Расположите средства связи в порядке их появления.  
 Запишите соответствующие цифры (например, 123). (1 балл)

1	2	3
сотовый телефон	почта	телеграф

Ответ: 2,3,1

9. Установите соответствие между изображениями и названиями рукоделний (1 балл)

Изображение	Вышивка	Названия
	А	оригами
	Б	вышивка гладью
	В	бисероплетение

Ответ: 1 - Б, 2 - В, 3 - А.


Шифр участника 19064

10. (1 балл) Из предложенного списка выберите блюдо, в рецепт которого входят только пищевые продукты растительного происхождения.

- а) омлет
- б) какао
- в) суп харчо
- г) винегрет

Ответ: 2

11. Рассмотрите приведённый рисунок. Определите, какая сельскохозяйственная культура изображена на нём. (1 балл)



- а) киви
- б) банан
- в) груша
- г) кокос
- д) слива
- е) яблоко
- ж) ананас
- з) виноград

Ответ: 3

Шифр участника 19064

12. Из предложенного списка выберите продукты растительного происхождения (1 балл)

- а) мясо
- б) дايкон
- в) яйцо
- г) масло подсолнечное
- д) рыба
- е) картофель

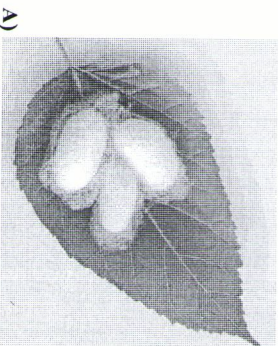
Ответ: 2, 3, 4

13. Из предложенного списка выберите слово, чтобы получить известную поговорку: «Какое волокно, такое и ...». (1 балл)

- а) толлокно б) полотно в) домино

Ответ: б

14. Выберите фотографию из чего производят шёлк: (1 балл)



Шифр участника ТД 64


0



Ответ: Б


15. ТВОРЧЕСКОЕ ЗАДАНИЕ (6 баллов)

Подготовьте праздник по мотивам народной сказки «ТРИ МЕДВЕДЯ». Для этого выполните следующее:



Шифр участника ТД 64

а. Нарисуйте открытку-приглашение. (2 балла)




6. Придумайте текст приглашения на праздник. (1 балл)

Пришел приглашение на праздник  
пришел приглашение на праздник  
пришел приглашение на праздник  
пришел приглашение на праздник  
пришел приглашение на праздник

Шифр участника

1964

в. Нарисуйте рубаху для этого праздника (3 балла)



**Уважаемый участник олимпиады!**

Вам предстоит выполнить теоретические и тестовые задания.

Время выполнения заданий теоретического тура **2 академических часа (90 минут)**.

Выполнение теоретических (письменных, творческих) заданий целесообразно организовать следующим образом:

– не спеша, внимательно прочитайте задание и определите, наиболее верный и полный ответ;

– отвечая на теоретический вопрос, обдумайте и сформулируйте конкретный ответ только на поставленный вопрос;

– если Вы выполняете задание, связанное с заполнением таблицы или схемы, не старайтесь детализировать информацию, выписывайте только те сведения или данные, которые указаны в вопросе;

– особое внимание обратите на задания, в выполнении которых требуется выразить Ваше мнение с учетом анализа ситуации или поставленной проблемы. Внимательно и вдумчиво определите смысл вопроса и логику ответа (последовательность и точность изложения). Отвечая на вопрос, предлагайте свой вариант решения проблемы, при этом ответ должен быть кратким, но содержать необходимую информацию;

– после выполнения всех предложенных заданий еще раз удостоверьтесь в правильности выбранных Вами ответов и решений.

Выполнение тестовых заданий целесообразно организовать следующим образом:

- не спеша, внимательно прочитайте тестовое задание;
- определите, какой из предложенных вариантов ответа наиболее верный и полный;
- напишите букву, соответствующую выбранному Вами ответу;
- продолжайте, такая работа до завершения выполнения тестовых заданий;
- после выполнения всех предложенных заданий еще раз удостоверьтесь в правильности ваших ответов;

– если требуется корректировка выбранного Вами варианта ответа, то неправильный вариант ответа зачеркните крестиком, и рядом напишите новый.

Предупреждаем Вас, что:

– при оценке тестовых заданий, где необходимо определить один правильный ответ, 0 баллов выставляется за неверный ответ и в случае, если участником отмечены несколько ответов (в том числе правильный), или все ответы;

– при оценке тестовых заданий, где необходимо определить все правильные ответы, 0 баллов выставляется, если участником отмечены неверные ответы, большее количество ответов, чем предусмотрено в задании (в том числе правильные ответы) или все ответы. Задание теоретического тура считается выполненным, если Вы вовремя сдадите его членам жюри. *Максимальная оценка – 25 баллов.*

**ОСНОВНАЯ ЧАСТЬ**

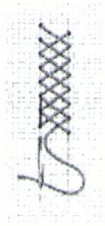


**1. Найдите соответствие между названиями определений и их характеристиками**

В настоящее время широко используются два определения технологии, традиционное и современное, которые кратко можно изложить следующим образом:

Названия определений	Краткое содержание
А. современное	1. Технология - это наука о преобразовании материалов (вещств), информации по плану и в интересах человека
Б. традиционное	2. Технология - это знания о последовательности действий человека и оборудованием при преобразовании материалов (вещств), энергии и информации по плану и в интересах человека

Ответ: 1 – «А», 2 – «Б».

**2. Соедините изображения ручных стежков с их названиями.**

	1	Шов «шипорок»
	2	Стебельчатый шов
	3	Тамбурный шов

Код участника 1449


Г	4	Бархатный шов
---	---	---------------

- А) А-4, Б-3, В-2, Г-1  
 Б) А-4, Б-3, В-1, Г-2  
 В) А-3, Б-1, В-4, Г-2  
 Г) А-1, Б-2, В-3, Г-4

Ответ: В

3. Прочитайте текст, в котором пропущены некоторые термины. Выберите нужные термины из пронумерованного списка и вставьте вместо пропусков (А-В). Вставьте термины в нужном падеже и числе.

Итак, какие же необычные способы обработки продуктов любознательный турист может увидеть в процессе ознакомления с кухней народов севера?



Например, крайне распространены здесь (А) 1 и (Б) 4 которым может подвергаться практически все из сырья: мясо и рыба, их внутренности, грибы, ягоды, травы. (А) 3 под солнцем, над костром, даже на морозе, получая в итоге компактную и калорийную пищу, которую и хранить можно сколь угодно долго, и в дальнюю экспедицию удобно взять. А иногда такой продукт даже измельчают в труху, приправляя им затем любую горячую пищу.

Пронумерованный список:

- 1 Сушка
- 2 Копчение
3. Маринование
4. Валение

4. Отгадайте мансийскую загадку:

На болотистой местности сидят девушки в ярких платках!

Ответ: \_\_\_\_\_

5. Выберете правильный ответ:

Какие действия в цепочке приготовления салата из сырых овощей необходимо пропустить местами?

3

Код участника 1449

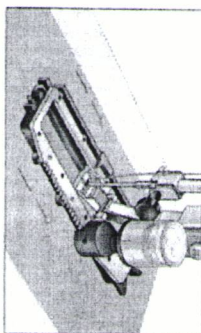
1. Взять овощи; 2. Перебрать; 3. Нарезать; 4. Промыть; 5. Перемешать; 6. Заправить; 7. Украсить

- а) 3-4, 6-7  
 б) 2-4, 5-6  
 в) 3-4, 5-6  
 г) 2-3, 6-7

Ответ: в

Машинное

6. Какое приспособление к швейной машине изображено ниже?



- А) лапка для пришивания пуговиц  
 Б) лапка для обметывания петель  
 В) лапка для потайного подшивания  
 Г) лапка для пришивания потайной застежки-молнии

Ответ: Б

7. Соотнесите название ткани и ее описание:

1 - Лыжная ткань	А - Особенностью этой ткани является наличие длинного нитяного ворса на одной или двух сторонах полотна. Этот ворс образуется с помощью вытягивания на поверхность петель из неплотно натянутой нити основы. Петли могут быть неразрезанными, стрижеными и даже образовывать рельефный орнамент. Из ткани изготавливают домашние халаты и полотенца.
2 - Шотландка	Б - Ткань из хлопка, на лицевой стороне которой видны прямые рубчики по всей длине отреза, параллельные кромке.
3 - Фланель	В - Натуральная ткань имеет сероватый оттенок, который исчезает при воздействии влаги и солнечных лучей. По старинной технологии для отбеливания новые полотна расстилали так, чтобы их достаточно долгое время смачивала роса, затем высушивали солнце.

4

ВСЕРОССИЙСКАЯ ОЛИМПИАДА ШКОЛЬНИКОВ ПО ТЕХНОЛОГИИ (девушки)


ШКОЛЬНЫЙ ЭТАП  
 Направление «Культура дома, дизайн и технологии»  
 Теоретический тур  
 7 – 8 класс  
 2025 - 2026 учебный год

Код участника **Т449**

4 – Махровая ткань	Г - Мягкая ткань с начесом, сделанная из хлопка, шерсти или полушерсти. Хорошо сохраняет тепло, обладает потрясающей гигроскопичностью. Материал имеет разное назначение: от домашней одежды для взрослых и детей до пеленок.
5 - Вельвет	Д - Ткань в клеточку, чье название прямо указывает на страну ее происхождения. Изготавливается способом саржевого переплетения из заранее окрашенных нитей, расположенных крестообразно. Цвета и сложность узора прямо указывали на статус человека.

Ответ: 1 – «\_\_\_», 2 – «\_\_\_», 3 – «\_\_\_», 4 – «\_\_\_», 5 – «\_\_\_».

8. Если сравнивать одежду по особенностям конструкции, то её можно разделить на 2 группы: изделия, которые крепятся на пояс (повислые), и изделия, которые крепятся на плечах (плечевые). Какое изделие относится к повислым?



Ответ: **CD**

9. Определите, что является прототипом данного жакета?

- а) польский контуш,
- б) гусарский ментик,
- в) казачий чекмень,
- г) кавказский архадук,
- д) гренадерский мундир

Ответ: \_\_\_\_\_



5

ВСЕРОССИЙСКАЯ ОЛИМПИАДА ШКОЛЬНИКОВ ПО ТЕХНОЛОГИИ (девушки)

ШКОЛЬНЫЙ ЭТАП  
 Направление «Культура дома, дизайн и технологии»  
 Теоретический тур  
 7 – 8 класс  
 2025 - 2026 учебный год

Код участника **Т449**

10. Что такое dress-code (dress code)?

- а) требования к офисной одежде сотрудников;
- б) форма одежды, требуемая при посещении определенных мероприятий, организаций, заведений;
- в) комплект одежды, обуви и аксессуаров, подобранных из вещей одного бренда;
- г) манера одеваться в определенной социальной группе.

Ответ: **Б**

11. Тринтих – это.....

- а) ковер;
- б) трехстворчатая картина;
- в) композиция из трех частей, связанных единым идейно-художественным содержанием;
- г) занавес из тяжелой материи на дворах;
- д) текстиль для мебели.

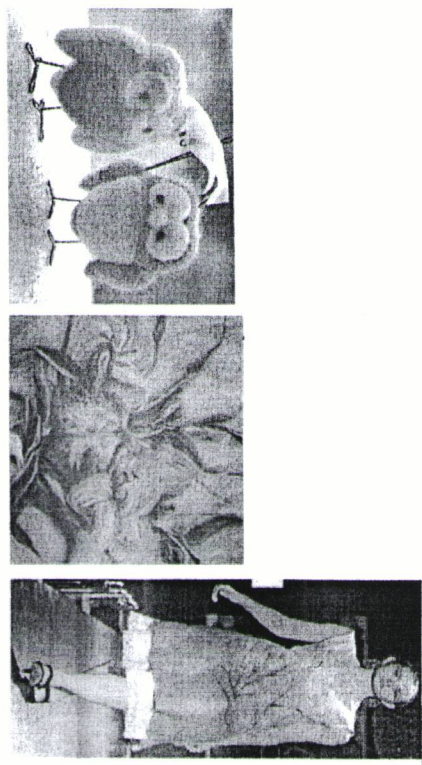
Ответ: **Б**

12. Вставьте в предложение пропущенное слово:

Технология, используемая в одном из популярных сегодня видов декоративно-прикладного творчества, который называется \_\_\_\_\_ основана на особом свойстве шерсти. С помощью этой технологии можно изготовить декоративные панно, аксессуары, игрушки, другие изделия.

6

Код участника Т449



13. Подпишите названия конструкций юбок по их покрою:

а)	б)	в)	г)
----	----	----	----

14. При раскрое изделия в первую очередь на ткани размещают:

- а) Большие детали (полочки, рукава, подолнища юбки);
- б) маленькие детали (клапана, обтачки, манжеты).

Ответ А

15. Что отличает морской стиль от других?

- а) Бело-синие-красное сочетание цветов;

Код участника Т449

16. Изделие, показанное на рисунке, изготовлено в технике плетения

а) фиволите  
 б) макраме  
 в) на коклюшках  
 г) на бердышке (берде)

Ответ Г

17. Выбери из представленных изображений главные элементы зоны приготовления пищи

а)	б)	в)	г)
----	----	----	----

Ответ: \_\_\_\_\_

Экономика

18. Дополните определение:

Ситуация, при которой несколько производителей одинаковых товаров борются за внимание потребителей с помощью улучшения качества товаров или снижения цены, называется конкуренция

Слова для выбора: бизнес, реклама, конкуренция.

19. Профессия человека, являющегося специалистом в области создания стиля (инициал) человека с помощью одежды, прически, макияжа и т.д.

ВСЕРОССИЙСКАЯ ОЛИМПИАДА ШКОЛЬНИКОВ ПО ТЕХНОЛОГИИ (девушки)

ШКОЛЬНЫЙ ЭТАП  
Направление «Культура дома, дизайн и технологии»  
Теоретический тур

7 – 8 класс  
2025 - 2026 учебный год

Код участника Т449

- а) модельер;
- б) визажист;
- в) парикмахер;
- г) стилист;
- д) дизайнер;
- е) кутюрье.

Ответ г

20. ТВОРЧЕСКОЕ ЗАДАНИЕ (6 баллов)

Худи — разновидность свитера из мягкого хлопчатобумажного трикотажа или флиса с капюшоном, по российской классификации его связывают с толстовкой. Выступите в роли дизайнера и внесите свои модельные особенности и декорируйте изделие.


№	Критерии оценки	Баллы max
1	Внесены модельные особенности	2
2	Внесены элементы декора	2
3	Выдержано стиливое направление	1
4	Чистота выполнения задания	1
<b>Итого</b>		<b>6</b>

ВСЕРОССИЙСКАЯ ОЛИМПИАДА ШКОЛЬНИКОВ ПО ТЕХНОЛОГИИ (девушки)

ШКОЛЬНЫЙ ЭТАП  
Направление «Культура дома, дизайн и технологии»  
Теоретический тур

7 – 8 класс  
2025 - 2026 учебный год

Код участника Т449



6

ВСЕРОССИЙСКАЯ ОЛИМПИАДА ШКОЛЬНИКОВ ПО ТЕХНОЛОГИИ (Левушкин)

ШКОЛЬНЫЙ ЭТАП

Направление «Культура дома, дизайн и технология»

Теоретический тур

7 – 8 класс

2025 - 2026 учебный год

Код участника

ТД 78

Уважаемый участник олимпиады!

Вам предстоит выполнить теоретические и тестовые задания.

Время выполнения заданий теоретического тура 2 академических часа (90 минут).

Выполнение теоретических (письменных, творческих) заданий целесообразно организовать следующим образом:

– не спеша, внимательно прочитайте задание и определите, наиболее верный и полный ответ;

– отвечая на теоретический вопрос, обдумайте и сформулируйте конкретный ответ только на поставленный вопрос;

– если Вы выполняете задание, связанное с заполнением таблицы или схемы, не старайтесь детализировать информацию, выписывайте только те сведения или данные, которые указаны в вопросе;

– особое внимание обратите на задания, в выполнении которых требуется выразить Ваше мнение с учетом анализа ситуации или поставленной проблемы. Внимательно и вдумчиво определите смысл вопроса и логику ответа (последовательность и точность изложения). Отвечая на вопрос, предлагайте свой вариант решения проблемы, при этом ответ должен быть кратким, но содержать необходимую информацию;

– после выполнения всех предложенных заданий еще раз удостоверьтесь в правильности выбранных Вами ответов и решений.

Выполнение тестовых заданий целесообразно организовать следующим образом:

- не спеша, внимательно прочитайте тестовое задание;
- определите, какой из предложенных вариантов ответа наиболее верный и полный;
- напишите букву, соответствующую выбранному Вами ответу;
- продолжайте, таким образом, работу до завершения выполнения тестовых заданий;
- после выполнения всех предложенных заданий еще раз удостоверьтесь в правильности ваших ответов;

– если требуется корректировка выбранного Вами варианта ответа, то неправильный вариант ответа зачеркните крестиком, и рядом напишите новый.

Предупреждаем Вас, что:

– при оценке тестовых заданий, где необходимо определить один правильный ответ, 0 баллов выставляется за неверный ответ и в случае, если участником отмечены несколько ответов (в том числе правильный), или все ответы;

– при оценке тестовых заданий, где необходимо определить все правильные ответы, 0 баллов выставляется, если участником отмечены неверные ответы, большее количество ответов, чем предусмотрено в задании (в том числе правильные ответы) или все ответы. Задание теоретического тура считается выполненным, если Вы вовремя сласте его членам жюри. *Максимальная оценка – 25 баллов.*

ВСЕРОССИЙСКАЯ ОЛИМПИАДА ШКОЛЬНИКОВ ПО ТЕХНОЛОГИИ (Левушкин)

ШКОЛЬНЫЙ ЭТАП

Направление «Культура дома, дизайн и технология»

Теоретический тур

7 – 8 класс

2025 - 2026 учебный год

Код участника

ТД 78

ОСНОВНАЯ ЧАСТЬ

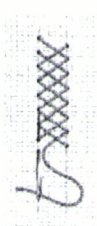


1. Найдите соответствие между названиями определенных и их характеристиками

В настоящее время широко используются два определения технологии, традиционное и современное, которые кратко можно изложить следующим образом:

Названия определенных	Краткое содержание
А. современное	1. Технология - это наука о преобразовании материалов (веществ), информации по плану и в интересах человека
Б. традиционное	2. Технология - это знания о последовательности действий человека и необходимом оборудовании при преобразовании материалов (веществ), энергии и информации по плану и в интересах человека.

Ответ: 1 – «А», 2 – «Б».

2. Соедините изображение ручных стежков с их названиями.

A		1	Шов «шишурок»
Б		2	Стебельчатый шов
В		3	Тамбурный шов

Код участника

ТД78

Г	4	Бархатный шов
---	---	---------------

- А) А-4, Б-3, В-2, Г-1  
 Б) А-4, Б-3, В-1, Г-2  
 В) А-3, Б-1, В-4, Г-2  
 Г) А-1, Б-2, В-3, Г-4

Ответ: В

3. Прочитайте текст, в котором пропущены некоторые термины. Выберите нужные термины из пронумерованного списка и вставьте вместо пробелов (А-В). Вставьте термины в нужном падеже и числе.

Итак, какие же необычные способы обработки продуктов любознательный турист может увидеть в процессе ознакомления с кухней народов севера?



Например, крайне распространены здесь (А) СУШКА и (Б) СОУЩАНИЕ, которым может подвергаться практически все из сырья: мясо и рыба, их внутренности, грибы, ягоды, травы. (А) Маринование в отличие от обычного, даже на морозе, подучая в итоге компактную и калорийную пинну, которую и хранить можно сколь угодно долго, и в дальнюю экспедицию удобно взять. А иногда такой продукт даже измельчают в ТРУХУ, приправляя им затем любую горячую пищу.

Пронумерованный список:

- 1 Сушка
- 2 Копчение
- 3 Маринование
4. Валение
4. Отгадайте мансийскую загадку:

На болотистой местности сидят девушки в ярких платках!

Ответ: \_\_\_\_\_

5. Выберете правильный ответ:

Какие действия в цепочке приготовления салата из сырых овощей необходимо поменять местами?

Код участника

ТД78


1. Взять овощи; 2. Перебрать; 3. Нарезать; 4. Промыть; 5. Перемешать; 6. Заправить; 7. Украсить

- а) 3-4, 6-7  
 б) 2-4, 5-6  
 в) 3-4, 5-6  
 г) 2-3, 6-7

Ответ: б

Машинное

6. Какое приспособление к швейной машине изображено ниже?



- А) лапка для пришивания пуговиц  
 Б) лапка для обметывания петель  
 В) лапка для потайного подшивания  
 Г) лапка для пригачивания потайной застежки-молнии

Ответ: ВА

7. Соотнесите название ткани и ее описание:

1 - Льняная ткань	А - Особенностью этой ткани является наличие длинного нитяного ворса на одной или двух сторонах полотна. Этот ворс обрывается с помощью вытягивания на поверхности петлей из неплотно натянутой нити основы. Петли могут быть неразъемными, стрижеными и даже образовывать рельефный орнамент. Из ткани изготавливают домашние халаты и пологенца.
2 - Шотландка	Б - Ткань из хлопка, на лицевой стороне которой видны прямые рубчики по всей длине отреза, направленные кромке.
3 - Фланель	В - Натуральная ткань имеет сероватый оттенок, который исчезает при воздействии влаги и солнечных лучей. По старинной технологии для отбеливания новые полотна расплавали так, чтобы их достаточно долгое время смачивала роса, затем высушивали солнце.

4 – Махровая ткань	Г - Мягкая ткань с начесом, сложенная из хлопка, шерсти или полушерсти. Хорошо сохраняет тепло, обладает потрясающей гигроскопичностью. Материал имеет разное назначение: от домашней одежды для взрослых и детей до пеленок.
5 - Вельвет	Д - Ткань в клеточку, чье название прямо указывает на страну ее происхождения. Изготавливается способом саржевого переплетения из заранее окрашенных нитей, расположенных крестообразно. Цвета и сложность узора прямо указывали на статус человека.

Ответ: 1 – «3», 2 – «2», 3 – «5», 4 – «4», 5 – «1».

8. Если сравнивать одежду по особенностям конструкции, то её можно разделить на 2 группы: изделия, которые крепятся на носы (повязки), и изделия, которые крепятся на плечах (плечевые). Какое изделие относится к повязкам?

- A)  B)  C)  D) 

Ответ: C, D

9. Определите, что является прототипом данного жакета?

- а) польский контуш,  
б) гусарский ментик,  
в) казачий чекмень,  
г) кавказский архалук,  
д) гренадерский мундир

Ответ: Г



10. Что такое dress-code (dress code)?

- а) требования к офисной одежде сотрудников;  
б) форма одежды, требуемая при посещении определенных мероприятий, организации, заведений;  
в) комплект одежды, обуви и аксессуаров, подобранных из вещей одного бренда;  
г) манера одеваться в определенной социальной группе.

Ответ: б

11. Триптих – это.....

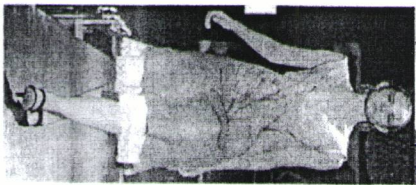
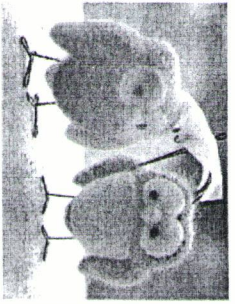
- а) ковер;  
б) трехстворчатая картина;  
в) композиция из трёх частей, связанных единым идейно-художественным содержанием;  
г) занавес из тяжелой материи на дверях;  
д) текстиль для мебели.

Ответ: б





12. Вставьте в предложение пропущенное слово:

Технология, используемая в одном из популярных сегодня видов декоративно-прикладного творчества, который называется \_\_\_\_\_ основана на особом свойстве шерсти. С помощью этой технологии можно изготовить декоративные панно, аксессуары, игрушки, другие изделия.

Код участника 10278



13. Подпишите названия конструкций юбок по их покрою:

а) _____	б) _____	в) _____	г) <u>шаровая</u>
			

14. При раскрое изделия в первую очередь на ткани размещают:

- а) большие детали (полочки, рукава, подолница юбки);
- б) маленькие детали (клапана, обтачки, манжеты).

Ответ Б


15. Что отличает морской стиль от других?

- а) бело-синие-красное сочетание цветов;

Код участника 10278





а) фривольите  
 б) макраме  
 в) на коклюшках  
 г) на бердышке (берде)

Ответ Б



16. Изделие, показанное на рисунке, изготовлено в технике плетения

17. Выбери из представленных изображений главные элементы зоны приготовления пищи

а	б	в	г
			

Ответ Б

Экономика

18. Дополните определение:

Ситуация, при которой несколько производителей одинаковых товаров борются за внимание потребителей с помощью улучшения качества товаров или снижения цены, называется конкуренция.

Слова для выбора: бизнес, реклама, конкуренция.

19. Профессия человека, выполняющего специалистом в области создания стиля (имиджа) человека с помощью одежды, прически, макияжа и т.д.

Код участника 1048

- а) модельер;
- б) вязажист;
- в) парикмахер;
- г) стилист;
- д) дизайнер;
- е) кутюрье.

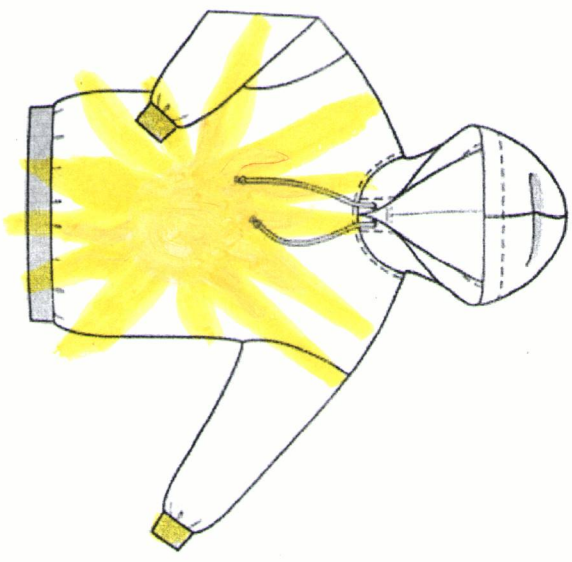
Ответ г

**20. ТВОРЧЕСКОЕ ЗАДАНИЕ (6 баллов)**

Худи — разновидность свитера из мягкого хлопчатобумажного трикотажа или флиса с капюшоном; по российской классификации его связывают с толстовкой. Выступите в роли дизайнера и внесите свои модельные особенности и декорируйте изделие.

№	Критерии оценки	Баллы макс
1	Внесены модельные особенности	2
2	Внесены элементы декора	2
3	Выдержано стилевое направление	1
4	Чистота выполнения задания	1
<b>Итого</b>		<b>6</b>

Код участника 1048



6

ВСЕРОССИЙСКАЯ ОЛИМПИАДА ШКОЛЬНИКОВ ПО ТЕХНОЛОГИИ (левущик)

Направление «Культура дома, дизайн и технологии»  
ШКОЛЬНЫЙ ЭТАП

Теоретический тур  
7 – 8 класс  
2025 - 2026 учебный год

Код участника

ТД 16

**Уважаемый участник олимпиады!**

Вам предстоит выполнить теоретические и тестовые задания.

Время выполнения заданий теоретического тура **2 академических часа (90 минут)**.

Выполнение теоретических (письменных, творческих) заданий целесообразно организовать следующим образом:

– не спеша, внимательно прочитайте задание и определите, наиболее верный и полный ответ;

– отвечая на теоретический вопрос, обдумайте и сформулируйте конкретный ответ только на поставленный вопрос;

– если Вы выполняете задание, связанное с заполнением таблицы или схемы, не старайтесь детализировать информацию, вписывайте только те сведения или данные, которые указаны в вопросе;

– особое внимание обратите на задания, в выполнении которых требуется выразить Ваше мнение с учетом анализа ситуации или поставленной проблемы. Внимательно и вдумчиво определите смысл вопроса и логику ответа (последовательность и точность изложения). Отвечая на вопрос, предлагайте свой вариант решения проблемы, при этом ответ должен быть кратким, но содержать необходимую информацию;

– после выполнения всех предложенных заданий еще раз удостоверьтесь в правильности выбранных Вами ответов и решений.

Выполнение тестовых заданий целесообразно организовать следующим образом:

– не спеша, внимательно прочитайте тестовое задание;

– определите, какой из предложенных вариантов ответа наиболее верный и полный;

– напишите букву, соответствующую выбранному Вами ответу;

– продолжайте, таким образом, работу до завершения выполнения тестовых заданий;

– после выполнения всех предложенных заданий еще раз удостоверьтесь в правильности ваших ответов;

– если требуется корректировка выбранного Вами варианта ответа, то неправильный вариант ответа зачеркните крестиком, и рядом напишите новый.

Предупреждаем Вас, что:

– при оценке тестовых заданий, где необходимо определить один правильный ответ, 0 баллов выставляется за неверный ответ и в случае, если участником отмечены несколько ответов (в том числе правильный), или все ответы;

– при оценке тестовых заданий, где необходимо определить все правильные ответы, 0 баллов выставляется, если участником отмечены неверные ответы, большее количество ответов, чем предусмотрено в задании (в том числе правильные ответы) или все ответы. Задание теоретического тура считается выполненным, если Вы вовремя сдадите его членам жюри. *Максимальная оценка – 25 баллов.*

ВСЕРОССИЙСКАЯ ОЛИМПИАДА ШКОЛЬНИКОВ ПО ТЕХНОЛОГИИ (левущик)

Направление «Культура дома, дизайн и технологии»  
ШКОЛЬНЫЙ ЭТАП

Теоретический тур  
7 – 8 класс  
2025 - 2026 учебный год

Код участника

ТД 16

*14 баллов*

**ОСНОВНАЯ ЧАСТЬ**




**1. Найдите соответствие между названиями определений и их характеристиками**

В настоящее время широко используются два определения технологии, традиционное и современное, которые кратко можно изложить следующим образом:

Названия определений	Краткое содержание
А. современное	1. Технология - это наука о преобразовании материалов (веществ), информации по плану и в интересах человека
Б. традиционное	2. Технология - это знания о последовательности действий человека и необходимым оборудованием при преобразовании материалов (веществ), энергии и информации по плану и в интересах человека.

Ответ: 1 – «Б», 2 – «А».

**2. Соедините изображения ручных стежков с их названиями.**

A		1	Шов «шипорок»
B		2	Стебельчатый шов
B		3	Тамбурный шов

Г	4	Бархатный шов
---	---	---------------

- А) А-4, Б-3, В-2, Г-1  
Б) А-4, Б-3, В-1, Г-2  
В) А-3, Б-1, В-4, Г-2  
Г) А-1, Б-2, В-3, Г-4

Ответ: Г

3. Прочитайте текст, в котором пропущены некоторые термины. Выберите нужные термины из пронумерованного списка и вставьте вместо пропусков (А-В). Вставьте термины в нужном падеже и числе.

Итак, какие же необычные способы обработки продуктов любознательный турист может узнать в процессе ознакомления с кухней народов севера?



Например, крайне распространены здесь (А) Сушка и (Б) Копчение, которым может подвергаться практически все из сырья: мясо и рыба, их внутренности, грибы, ягоды, травы. (А) Сушка под солнцем, над костром, даже на морозе, получая в итоге компактную и калорийную пищу, которую и хранить можно сколь угодно долго, и в дальнюю экспедицию удобно взять. А иногда такой продукт даже измельчают в труху, приправляя им затем любую горячую пищу.

Пронумерованный список:

- 1 Сушка
- 2 Копчение
- 3 Маринование
- 4 Вяление

4. Отгадайте мансийскую загадку:

На болотистой местности сидят девушки в ярких платках!

Ответ: \_\_\_\_\_

5. Выберете правильный ответ:

Какие действия в печенке приготовления салата из сырых овощей необходимо поменять местами?

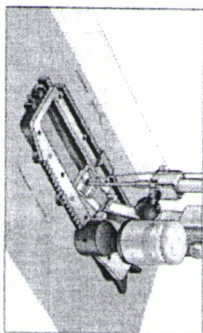
1. Взять овощи; 2. Перебрать; 3. Нарезать; 4. Промыть; 5. Перемешать; 6. Заправить; 7. Украсить

- а) 3-4, 6-7  
б) 2-4, 5-6  
в) 3-4, 5-6  
г) 2-3, 6-7

Ответ: а, в, г

Машиноведение

6. Какое приспособление к швейной машине изображено ниже?



- А) лапка для пришивания пуговиц  
Б) лапка для обметывания петель  
В) лапка для потайного подшивания  
Г) лапка для пришивания потайной застежки-молнии

Ответ: В

7. Соотнесите название ткани и ее описание:

1 - Лыжная ткань	А - Особенностью этой ткани является наличие длинного нитяного ворса на одной или двух сторонах полотна. Этот ворс образуется с помощью вытравливания на поверхности петель из неплотно натянутой нити основы. Петли могут быть неразрывными, стрижеными и даже образовывать рельефный орнамент. Из ткани изготавливают домашние халаты и полотенца.
2 - Шотландка	Б - Ткань из хлопка, на лицевой стороне которой видны прямые рубчики по всей длине отреза, параллельные кромке.
3 - Фланель	В - Натуральная ткань имеет сероватый оттенок, который исчезает при воздействии влаги и солнечных лучей. По старинной технологии для отбеливания новые полотна расстилали так, чтобы их достаточно долгое время омывала роса, затем высушивали солнце.

4 – Махровая ткань	Г - Мягкая ткань с начесом, сложенная из хлопика, шерсти или полушерсти. Хорошо сохраняет тепло, обладает потрясающей гигроскопичностью. Материал имеет разное назначение: от домашней одежды для взрослых и детей до пеленок.
5 - Вельвет	Д - Ткань в клеточку, чье название прямо указывает на страну ее происхождения. Изготавливается способом саржавого переплетения из заранее окрашенных нитей, расположенных крестообразно. Цвета и сложность узора прямо указывали на статус человека.

Ответ: 1 – «В», 2 – «Г», 3 – «Д», 4 – «А», 5 – «Е».

8. Если сравнивать одежду по особенностям конструкции, то её можно разделить на 2 группы: изделия, которые крепятся на пояс (повязые), и изделия, которые крепятся на плечах (плечевые). Какое изделие относится к повязым?

- А)  В)  С)  Д) 

Ответ: В

9. Определите, что является прототипом данного жакета?

- а) польский конгуш,  
б) гусарский ментик,  
в) казачий чекмень,  
г) кавказский архалук,  
д) гренадерский мундир

Ответ: г



10. Что такое dress-code (dress code)?

- а) требования к офисной одежде сотрудников;  
б) форма одежды, требуемая при посещении определенных мероприятий, организаций, заведений;  
в) комплект одежды, обуви и аксессуаров, подобранных из вещей одного бренда;  
г) манера одеваться в определенной социальной группе.

Ответ: б

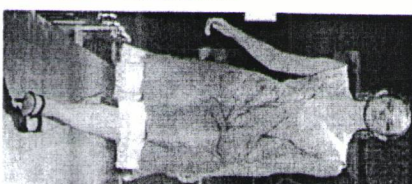
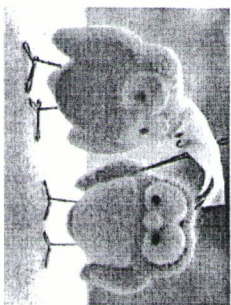
11. Триптих – это.....

- а) ковер;  
б) трехстворчатая картина;  
в) композиция из трёх частей, связанных единым идейно-художественным содержанием;  
г) занавес из тяжёлой материи на дверях;  
д) текстиль для мебели.





Ответ: в

12. Вставьте в предложение пропущенное слово:

Технология, используемая в одном из популярных сегодня видов декоративно-прикладного творчества, который называется \_\_\_\_\_, основана на особом свойстве шерсти. С помощью этой технологии можно изготовить декоративные панно, аксессуары, игрушки, другие изделия.



13. Подпишите названия конструкций юбок по их покрою:

а) _____	б) _____	в) _____	г) _____
			

14. При раскрое изделия в первую очередь на ткани размещают:

- а) большие детали (полоочки, рукава, подолнища юбки);
- б) маленькие детали (клапана, обтачки, манжеты).


Ответ: б

15. Что отличает морской стиль от других?

- а) бело-синее-красное сочетание цветов;

а) фривольте  
б) макраме  
в) на коклопках  
г) на бердышке (берде)





Ответ: б



16. Изделие, показанное на рисунке, изготовлено в технике плетения

- б) кружева и рюши;
  - в) основной рисунок – полоска;
  - г) украшения с изображением якорей, цепей, морских звезд.
- Ответ: в

17. Выбери из представленных изображений главные элементы зоны приготовления пищи

а	б	в	г
			

Ответ: б

Экономика

18. Дополните определение:

Ситуация, при которой несколько производителей одинаковых товаров борются за внимание потребителей с помощью улучшения качества товаров или снижения цены, называется конкуренция.

Слова для выбора: бизнес, реклама, конкуренция.

19. Профессия человека, являющегося специалистом в области создания стиля (инициал) человека с помощью одежды, прически, макияжа и т.д.

ВСЕРОССИЙСКАЯ ОЛИМПИАДА ШКОЛЬНИКОВ ПО ТЕХНОЛОГИИ (девушки)

ШКОЛЬНЫЙ ЭТАП  
Направление «Культура дома, дизайн и технологии»

Теоретический тур  
7 – 8 класс

2025 - 2026 учебный год

Код участника ТД №6

- а) модельер;
- б) вязажист;
- в) парикмахер;
- г) стилист;
- д) дизайнер;
- е) кутюрье.

Ответ а, в, г

20. ТВОРЧЕСКОЕ ЗАДАНИЕ (6 баллов)

Худи — разновидность свитера из мягкого хлопчатобумажного трикотажа или флиса с капюшоном, по российской классификации его связывают с толстовкой. Выступите в роли дизайнера и внесите свои модельные особенности и декорируйте изделие.

№	Критерии оценки	Баллы макс
1	Внесены модельные особенности	2
2	Внесены элементы декора	2
3	Выдержано стилизовое направление	1
4	Чистота выполнения задания	1
	Итого	6

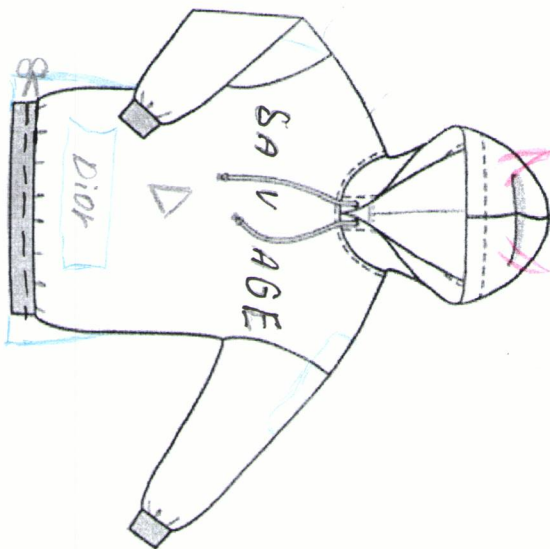
ВСЕРОССИЙСКАЯ ОЛИМПИАДА ШКОЛЬНИКОВ ПО ТЕХНОЛОГИИ (девушки)

ШКОЛЬНЫЙ ЭТАП  
Направление «Культура дома, дизайн и технологии»

Теоретический тур  
7 – 8 класс

2025 - 2026 учебный год

Код участника ТД №6



22 М  
6

**Уважаемый участник олимпиады!**

Вам предстоит выполнить теоретические и тестовые задания.

Время выполнения заданий теоретического тура 2 академических часа (90 минут).

Выполнение теоретических (письменных, творческих) заданий целесообразно организовывать следующим образом:

– не спеша, внимательно прочитайте задание и определите, наиболее верный и полный ответ;

– отвечая на теоретический вопрос, обдумайте и формулируйте конкретный ответ только на поставленный вопрос;

– если Вы выполняете задание, связанное с заполнением таблицы или схемы, не старайтесь детализировать информацию, вписывайте только те сведения или данные, которые указаны в вопросе;

– особое внимание обратите на задания, в выполнении которых требуется выразить Ваше мнение с учетом анализа ситуации или поставленной проблемы. Внимательно и вдумчиво определите смысл вопроса и логику ответа (последовательность и точность изложения). Отвечая на вопрос, предлагайте свой вариант решения проблемы, при этом ответ должен быть кратким, но содержать необходимую информацию;

– после выполнения всех предложенных заданий еще раз удостоверьтесь в правильности выбранных Вами ответов и решений.

Выполнение тестовых заданий целесообразно организовать следующим образом:

- не спеша, внимательно прочитайте тестовое задание;
- определите, какой из предложенных вариантов ответа наиболее верный и полный;
- напишите букву, соответствующую выбранному Вами ответу;
- продолжайте, таким образом, работу до завершения выполнения тестовых заданий;
- после выполнения всех предложенных заданий еще раз удостоверьтесь в правильности ваших ответов;

– если потребуется корректировка выбранного Вами варианта ответа, то неправильный вариант ответа зачеркните крестиком, и рядом напишите новый.

Предупреждаем Вас, что:

– при оценке тестовых заданий, где необходимо определить один правильный ответ, 0 баллов выставляется за неверный ответ и в случае, если участником отмечены несколько ответов (в том числе правильный), или все ответы;

– при оценке тестовых заданий, где необходимо определить все правильные ответы, 0 баллов выставляется, если участником отмечены неверные ответы, большее количество ответов, чем предусмотрено в задании (в том числе правильные ответы) или все ответы. Задание теоретического тура считается выполненным, если Вы вовремя сдадите его членам жюри. *Максимальная оценка – 25 баллов.*

**ОСНОВНАЯ ЧАСТЬ**

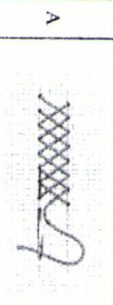


**1. Найдите соответствие между названиями определений и их характеристиками**

В настоящее время широко используются два определения технологии, традиционное и современное, которые кратко можно изложить следующим образом:

Названия определений	Краткое содержание
А. современное	1. Технология - это наука о преобразовании материалов (вещств), информации по плану и в интересах человека
Б. традиционное	2. Технология - это знания о последовательности действий человека и необходимом оборудовании при преобразовании материалов (вещств), энергии и информации по плану и в интересах человека.

Ответ: 1 – «Б», 2 – «А».

**2. Соедините изображения ручных стежков с их названиями.**

А		1	Шов «шнурок»
Б		2	Стебельчатый шов
В		3	Тамбурный шов

Код участника ТД 77

Г	4	Бархатный шов
---	---	---------------

- А) А-4, Б-3, В-2, Г-1  
 Б) А-3, Б-1, В-4, Г-2  
 В) А-4, Б-3, В-1, Г-2  
 Г) А-1, Б-2, В-3, Г-4

Ответ: В

3. Прочитайте текст, в котором пропущены некоторые термины. Выберите нужные термины из пронумерованного списка и вставьте вместо пропусков (А-В). Вставьте термины в нужном падеже и числе.

Итак, какие же необычные способы обработки продуктов любознательный турист может узнать в процессе ознакомления с кухней народов севера?



Например, крайне распространены здесь (А) чирок и (Б) чирок которым может подвергаться практически все из сырья: мясо и рыба, их внутренности, грибы, ягоды, травы. (А) чирок под солнцем, над костром, даже на морозе, получая в итоге компактную и калорийную пищу, которую и хранить можно сколь угодно долго, и в дальнюю экспедицию удобно взять. А иногда такой продукт даже измельчают в труху, приправляя им затем любую горячую пищу.

Пронумерованный список:

- 1 Сушка
- 2 Копчение
- 3 Маринование
- 4 Вяление

4. Отгадайте мансийскую загадку:

На болотистой местности сидят девушки в ярких платках!

Ответ: КИНОКВА

5. Выберите правильный ответ:

Какие действия в цепочке приготовления салата из сырых овощей необходимо поменять местами?

Код участника ТД 77


1. Взять ошени; 2. Перебрать; 3. Нарезать; 4. Промыть; 5. Перемешать; 6. Заправить; 7. Украсить

- а) 3-4, 6-7  
 б) 2-4, 5-6  
 в) 3-4, 5-6  
 г) 2-3, 6-7

Ответ: В

Машинное

6. Какое приспособление к швейной машине изображено ниже?



- А) лапка для пришивания пуговиц  
 Б) лапка для обметывания петель  
 В) лапка для потайного подшивания  
 Г) лапка для пришивания потайной застежки-молнии

Ответ: В

7. Соотнесите название ткани и ее описание:

1 - Льняная ткань	А - Особенностью этой ткани является наличие длинного нитяного ворса на одной или двух сторонах полотна. Этот ворс образуется с помощью вытягивания на поверхности петель из неплотно натянутой нити основы. Петли могут быть неравными, стрижеными и даже образовывать рельефный орнамент. Из ткани изготавливают домашние халаты и полотенца.
2 - Шотландка	Б - Ткань из хлопка, на лицевой стороне которой видны прямые рубчики по всей длине отреза, параллельные кромке.
3 - Фланель	В - Нагруженная ткань имеет сероватый оттенок, который исчезает при воздействии влаги и солнечных лучей. По старинной технологии для отбеливания новые полотна расстилали так, чтобы их достаточно долгое время смачивала роса, затем высушивали солнце.



4 – Махровая ткань	Г - Мягкая ткань с начесом, сделанная из хлопка, шерсти или полушерсти. Хорошо сохраняет тепло, обладает повышенной гигроскопичностью. Материал имеет разное назначение: от домашней одежды для взрослых и детей до пеленок.
5 - Вельвет	Д - Ткань в клеточку, чье название прямо указывает на страну ее происхождения. Изготавливается способом саржевого переплетения из заранее окрашенных нитей, расположенных крестообразно. Цвета и сложность узора прямо указывают на статус человека.

Ответ: 1 – «Б», 2 – «Д», 3 – «Г», 4 – «А», 5 – «В».

+

8. Если сравнивать одежду по особенностям конструкции, то её можно разделить на 2 группы: изделия, которые крепятся на поясе (повязке), и изделия, которые крепятся на плечах (плечевые). Какое изделие относится к повязкам?

- А)  В)  С)  D) 



Ответ: С

9. Определите, что является прототипом длинного жакета?

- а) польский контуш,  
б) гусарский ментик,  
в) казачий чекмень,  
г) кавказский архалук,  
д) гренадерский мундир

Ответ: б



10. Что такое дресс-код (dress code)?

- а) требования к офисной одежде сотрудников;  
б) форма одежды, требуемая при посещении определенных мероприятий, организаций, заведений;  
в) комплект одежды, обуви и аксессуаров, подобранных из вещей одного бренда;  
г) манера одеваться в определенной социальной группе.

Ответ: б

+

11. Триптих – это.....

- а) ковер;  
б) трехстворчатая картина;  
в) композиция из трёх частей, связанных единым идейно-художественным содержанием;  
г) занавес из тяжелой материи на дверях;  
д) текстиль для мебели.

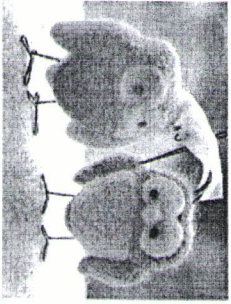
Ответ: в

+

12. Вставьте в предложение пропущенное слово:

Технология, используемая в одном из популярнейших сегодня видов декоративно-прикладного творчества, который называется ВАЯНИЕ основана на особом свойстве шерсти. С помощью этой технологии можно изготовить декоративные панно, аксессуары, игрушки, другие изделия.

+



13. Подпишите названия конструкций юбок по их покрою:

а) <u>МЮССАДИНА</u>	б) _____	в) <u>ТРЕУГОЛЬНАЯ</u>	г) <u>КАРАИДАШ</u>

14. При раскрое изделия в первую очередь на ткани размещают:

- а) большие детали (полочки, рукава, подолница юбки);
- б) маленькие детали (клапана, обтачки, манжеты).

Ответ А

15. Что отличает морской стиль от других?

- а) бело-синее-красное сочетание цветов;

- а) фривольите
- б) макраме
- в) на коклюшках
- г) на бердышке (берде)

Ответ Г



16. Изделие, показанное на рисунке, изготовлено в технике плетения

- б) кружева и роши;
- в) основной рисунок – полоска;
- г) украшения с изображением якорей, цепей, морских звезд.

Ответ Б

17. Выберите из представленных изображений главные элементы зоны приготовления пищи

а	б	в	г

Ответ: а, б

Экономика

18. Дополните определение:

Ситуация, при которой несколько производителей одинаковых товаров борются за внимание потребителей с помощью улучшения качества товаров или снижения цены, называется конкуренция

Слова для выбора: бизнес, реклама, конкуренция.

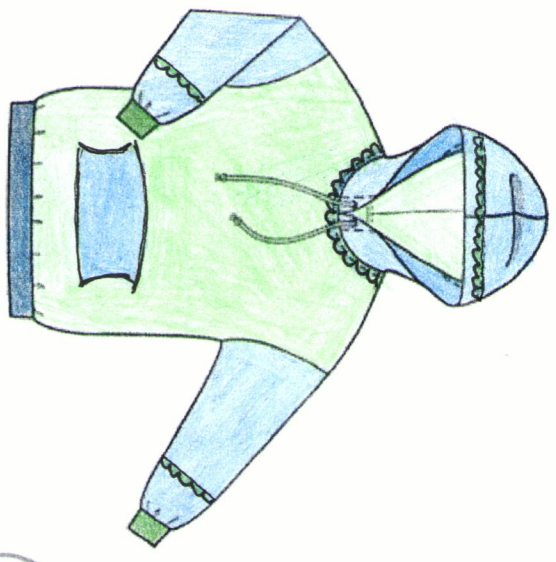
19. Профессия человека, являющегося специалистом в области создания стиля (имиджа) человека с помощью одежды, причёски, макияжа и т.д.

- а) модельер;
  - б) вязажист;
  - в) парикмахер;
  - г) стилист;
  - д) дизайнер;
  - е) кутюрье.
- Ответ б

**20. ТВОРЧЕСКОЕ ЗАДАНИЕ (6 баллов)**

Худи — разновидность свитера из мягкого хлопчатобумажного трикотажа или флиса с капюшоном, по российской классификации его связывают с толстовкой. Выступите в роли дизайнера и внесите свои модельные особенности и декорируйте изделие.

№	Критерии оценки	Баллы max
1	Внесены модельные особенности	2
2	Внесены элементы декора	2
3	Выдержано стиливое направление	1
4	Чистота выполнения задания	1
Итого		6



6

**Уважаемый участник олимпиады!**

Вам предстоит выполнить теоретические и тестовые задания.

Время выполнения заданий теоретического тура **2 академических часа (90 минут)**.

Выполнение теоретических (письменных, творческих) заданий целесообразно организовать следующим образом:

– не спеша, внимательно прочитайте задание и определите, наиболее верный и полный ответ;

– отвечая на теоретический вопрос, обдумайте и сформулируйте конкретный ответ только на поставленный вопрос;

– если Вы выполняете задание, связанное с заполнением таблицы или схемы, не старайтесь детализировать информацию, вписывайте только те сведения или данные, которые указаны в вопросе;

– особое внимание обратите на задания, в выполнении которых требуется выразить Ваше мнение с учетом анализа ситуации или поставленной проблемы. Внимательно и вдумчиво определите смысл вопроса и логику ответа (последовательность и точность изложения). Отвечая на вопрос, предлагайте свой вариант решения проблемы, при этом ответ должен быть кратким, но содержать необходимую информацию;

– после выполнения всех предложенных заданий еще раз удостоверьтесь в правильности выбранных Вами ответов и решений.

Выполнение тестовых заданий целесообразно организовать следующим образом:

- не спеша, внимательно прочитайте тестовое задание;
- определите, какой из предложенных вариантов ответа наиболее верный и полный;
- напишите букву, соответствующую выбранному Вами ответу;
- продолжайте, таким образом, работу до завершения выполнения тестовых заданий;
- после выполнения всех предложенных заданий еще раз удостоверьтесь в правильности ваших ответов;

– если требуется корректировка выбранного Вами варианта ответа, то неправильный вариант ответа зачеркните крестиком, и рядом напишите новый.

Предупреждаем Вас, что:

– при оценке тестовых заданий, где необходимо определить один правильный ответ, 0 баллов выставляется за неверный ответ и в случае, если участником отмечены несколько ответов (в том числе правильный), или все ответы;

– при оценке тестовых заданий, где необходимо определить все правильные ответы, 0 баллов выставляется, если участником отмечены неверные ответы, большее количество ответов, чем предусмотрено в задании (в том числе правильные ответы) или все ответы. Задание теоретического тура считается выполненным, если Вы вовремя сдадите его членам жюри. *Максимальная оценка – 25 баллов.*

**ОСНОВНАЯ ЧАСТЬ**

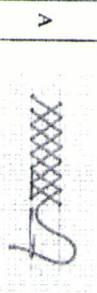


**1. Найдите соответствие между названиями определений и их характеристиками**

В настоящее время широко используются два определения технологии, традиционное и современное, которые кратко изложены следующим образом:

Названия определений	Краткое содержание
А. современное	1. Технология - это наука о преобразовании материалов (веществ), информации по плану и в интересах человека
Б. традиционное	2. Технология - это знания о последовательности действий человека и необходимом оборудовании при преобразовании материалов (веществ), энергии и информации по плану и в интересах человека.

Ответ: 1 – «А», 2 – «Б».

**2. Соедините изображения ручных стежков с их названиями.**

А 	1 Шов «шпурок»
Б 	2 Стебельчатый шов
В 	3 Тамбурный шов


Г	4	Бархатный шов
---	---	---------------

- А) А-4, Б-3, В-2, Г-1  
Б) А-4, Б-3, В-1, Г-2  
В) А-3, Б-1, В-4, Г-2  
Г) А-1, Б-2, В-3, Г-4

Ответ: Б

3. Прочитайте текст, в котором пропущены некоторые термины. Выберите нужные термины из пронумерованного списка и вставьте вместо пропусков (А-В). Вставьте термины в нужном падеже и числе.

Итак, какие же необычные способы обработки продуктов любознательный турист может узнать в процессе ознакомления с кухней народов севера?



Например, крайне распространены здесь (А) Сушка и (Б) Вячение, который может подвергаться практически все из сырья: мясо и рыба, их внутренности, грибы, ягоды, травы. (А) Сушка под солнцем, над костром, даже на морозе, получая в итоге компактную и калорийную пищу, которую и хранить можно сколько угодно долго, и в дальнюю экспедицию удобно взять. А иногда такой продукт даже измельчают в труху, приправляя им затем любую горячую пищу.

Пронумерованный список:

- 1 Сушка
- 2 Кончение
3. Маринование
4. Вяление
4. Отгадайте мансийскую загадку:

На болотистой местности сидят девушки в ярких платках!

Ответ: Морщина / Ягель


5. Выберете правильный ответ:

Какие действия в печенье при изготовлении салата из сырых овощей необходимо поменять местами?

1. Взять овощи; 2. Перебрать; 3. Нарезать; 4. Промыть; 5. Перемешать; 6. Заправить; 7. Украсить
- а) 3-4, 6-7  
б) 2-4, 5-6  
в) 3-4, 5-6  
г) 2-3, 6-7

Машинное

6. Какое приспособление к швейной машине изображено ниже?



- А) лапка для пришивания пуговиц
- Б) лапка для обметывания петель
- В) лапка для потайного подшивания
- Г) лапка для пришивания потайной застежки-молнии

Ответ: Б

7. Соотнесите название ткани и ее описание:

1 - Лыжная ткань	А - Особенностью этой ткани является наличие длинного нитяного ворса на одной или двух сторонях полотна. Этот ворс образуется с помощью вытягивания на поверхность петель из плотно натянутой нити основы. Петли могут быть неразрезанными, стрижеными и даже образовывать рельефный орнамент. Из ткани изготавливают домашние халаты и полотенца.
2 - Шотландка	Б - Ткань из хлопка, на лицевой стороне которой видны прямые рубчики по всей длине отреза, параллельные кромке.
3 - Фланель	В - Натуральная ткань имеет сероватый оттенок, который исчезает при воздействии влаги и солнечных лучей. По старинной технологии для отбеливания новые полотна расстилали так, чтобы их достаточно долгое время смачивала роса, затем высушивали солнце.

4 - Махровая ткань	Г - Мягкая ткань с начесом, сбитая из хлопка, шерсти или полушерсти. Хорошо сохраняет тепло, обладает повышенной гигроскопичностью. Материал имеет разное назначение: от домашней одежды для взрослых и детей до пеленок.
5 - Вельвет	Д - Ткань в клеточку, чье название прямо указывает на страну ее происхождения. Изготавливается способом саржевого переплетения из заранее окрашенных нитей, расположенных крестообразно. Цвета и сложность узора прямо указывали на статус человека.

Ответ: 1 – «B», 2 – «A», 3 – «Г», 4 – «A», 5 – «B».

8. Если сравнивать одежду по особенностям конструкции, то её можно разделить на 2 группы: изделия, которые крепятся на пояс (поясные), и изделия, которые крепятся на плечах (плечевые). Какое изделие относится к поясным?

- А) 
- В) 
- С) 
- Д) 

Ответ: с; D

9. Определите, что является прототипом данного жакета?

- а) польский контуш,
- б) гусарский ментик,
- в) казачий чекмень,
- г) кавказский архадук,
- д) гренадерский мунидир

Ответ: в



10. Что такое дресс-код (dress code)?

- а) требования к офисной одежде сотрудников;
- б) форма одежды, требуемая при посещении определенных мероприятий, организуемых заведениями;
- в) комплект одежды, обуви и аксессуаров, подобранных из вещей одного бренда;
- г) манера одеваться в определенной социальной группе.

Ответ: б

11. Тринтих – это.....


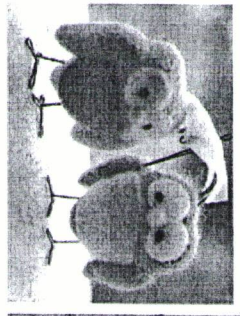
- а) ковер;
- б) трёхстворчатая картина;
- в) композиция из трёх частей, связанных длинным идиомно-художественным содержанием;
- г) занавес из тяжелой материи на дверях;
- д) текстиль для мебели.

Ответ: в





12. Вставьте в предложение пропущенное слово:

Технология, используемая в одном из популярных сегодня видов декоративно-прикладного творчества, который называется Веллинг основана на особом свойстве шерсти. С помощью этой технологии можно изготовить декоративные панно, аксессуары, игрушки, другие изделия.

Код участника 7285



13. Подпишите названия конструкций юбок по их покрою:

а) 	б) 	в) 	г) 
--	--	--	---

14. При раскрое изделия в первую очередь на ткани размещают:  
 а) большие детали (половочки, рукава, подолница юбки);  
 б) маленькие детали (клапана, обтачки, манжеты).

Ответ А


15. Что отличает морской стиль от других?  
 а) бело-синее-красное сочетание цветов.

7

Код участника 7285





- а) фривольите  
 б) макраме  
 в) на коклюшках  
 г) на бердышке (берде)

Ответ б



16. Изделие, показанное на рисунке, изготовлено в технике плетения

17. Выберите из представленных изображений главные элементы зоны приготовления пищи

а) 	б) 	в) 	г) 
--	--	--	--

Ответ: б, г

Экономика

18. Дополните определение:  
 Ситуация, при которой несколько производителей одинаковых товаров борются за внимание потребителей с помощью улучшения качества товаров или снижения цен, называется конкуренция

Слова для выбора: бизнес, реклама, конкуренция.

19. Профессия человека, являющегося специалистом в области создания стиля (модель) человека с помощью одежды, причёски, макияжа и т.п.

8

Код участника Т985

- а) модельер;
- б) вязажист;
- в) парикмахер;
- г) стилист;
- д) дизайнер;
- е) кутюрье.

Ответ \_\_\_\_\_

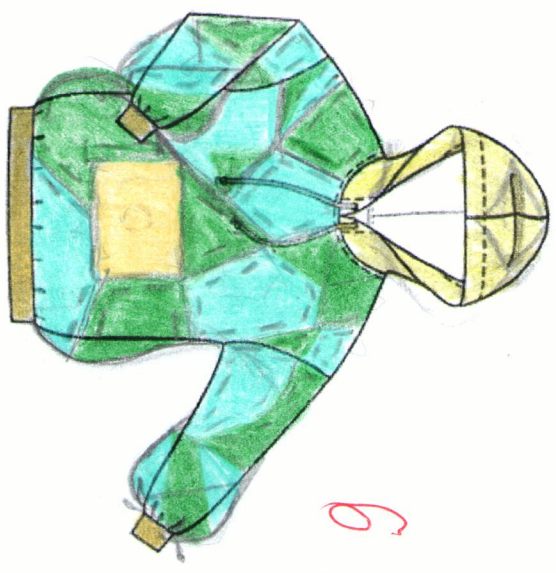
05

**20. ТВОРЧЕСКОЕ ЗАДАНИЕ (6 баллов)**

Худи — разновидность свитера из мягкого хлопчатобумажного трикотажа или флиса с капюшоном, по российской классификации его связывают с толстовкой. Выступите в роли дизайнера и внесите свои модельные особенности и декорируйте изделие.

№	Критерии оценки	Баллы max
1	Внесены модельные особенности	2
2	Внесены элементы декора	2
3	Выдержано стилевое направление	1
4	Чистота выполнения задания	1
<b>Итого</b>		<b>6</b>

Код участника Т985



6

**Уважаемый участник олимпиады!**

Вам предстоит выполнить теоретические и тестовые задания.

Время выполнения заданий теоретического тура 2 академических часа (90 минут).

Выполнение теоретических (письменных, творческих) заданий целесообразно организовать следующим образом:

– не спеша, внимательно прочитайте задание и определите, наиболее верный и полный ответ;

– отвечая на теоретический вопрос, обдумайте и сформулируйте конкретный ответ только на поставленный вопрос;

– если Вы выполняете задание, связанное с заполнением таблицы или схемы, не старайтесь детализировать информацию, вписывайте только те сведения или данные, которые указаны в вопросе;

– особое внимание обратите на задания, в выполнении которых требуется выразить Ваше мнение с учетом анализа ситуации или поставленной проблемы. Внимательно и вслух определите смысл вопроса и логику ответа (последовательность и точность изложения). Отвечая на вопрос, предлагайте свой вариант решения проблемы, при этом ответ должен быть кратким, но содержать необходимую информацию;

– после выполнения всех предложенных заданий еще раз удостоверьтесь в правильности выбранных Вами ответов и решений.

Выполнение тестовых заданий целесообразно организовать следующим образом:

- не спеша, внимательно прочитайте тестовое задание;
- определите, какой из предложенных вариантов ответа наиболее верный и полный;
- напишите букву, соответствующую выбранному Вами ответу;
- продолжайте, таким образом, работу до завершения выполнения тестовых заданий;
- после выполнения всех предложенных заданий еще раз удостоверьтесь в правильности ваших ответов;

– если потребуется корректировка выбранного Вами варианта ответа, то неправильный вариант ответа зачеркните крестиком, и рядом напишите новый.

Предупреждаем Вас, что:

– при оценке тестовых заданий, где необходимо определить один правильный ответ, 0 баллов выставляется за неверный ответ и в случае, если участником отмечены несколько ответов (в том числе правильный), или все ответы;

– при оценке тестовых заданий, где необходимо определить все правильные ответы, 0 баллов выставляется, если участником отмечены неверные ответы, большее количество ответов, чем предусмотрено в задании (в том числе правильные ответы) или все ответы. Задание теоретического тура считается выполненным, если Вы вовремя сдадите его членам жюри. *Максимальная оценка – 25 баллов.*

**ОСНОВНАЯ ЧАСТЬ**




1. Найдите соответствие между названиями определений и их характеристиками

В настоящее время широко используются два определения технологии, традиционное и современное, которые кратко можно изложить следующим образом:

Названия определений	Краткое содержание
А. современное	1. Технология - это наука о преобразовании материалов (веществ), информации по плану и в интересах человека
Б. традиционное	2. Технология - это знания о последовательности действий человека и необходимом оборудовании при преобразовании материалов (веществ), энергии и информации по плану и в интересах человека.

Ответ: 1 – «А», 2 – «Б».

2. Соедините изображения ручных стежков с их названиями.

А		1	Шов «шнурок»
Б		2	Стебельчатый шов
В		3	Тамбурный шов

ВСЕРОССИЙСКАЯ ОЛИМПИАДА ШКОЛЬНИКОВ ПО ТЕХНОЛОГИИ (девушки)

Направление «Культура дома, дизайн и технология»  
Теоретический тур  
7 – 8 класс  
2025 - 2026 учебный год

Код участника 7284

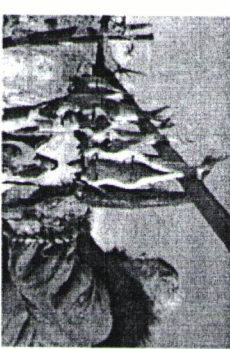
Г	4	Бархатный шов
---	---	---------------

- А) А-4, Б-3, В-2, Г-1  
Б) А-4, Б-3, В-1, Г-2  
В) А-4, Б-3, В-1, Г-2  
Г) А-1, Б-2, В-3, Г-4

Ответ: Б

3. Прочитайте текст, в котором пропущены некоторые термины. Выберите нужные термины из пронумерованного списка и вставьте вместо пропусков (А-В). Вставьте термины в нужном падеже и числе.

Итак, какие же необычные способы обработки продуктов любознательный турист может узнать в процессе ознакомления с кухней народов севера?



Например, крайне распространены здесь (А) сушки и (Б) кал-тукки которым может подвергаться практически все из сырья: мясо и рыба, их внутренности, грибы, ягоды, травы. (А) кал-тукки под солнцем, над костром, даже на морозе, получая в итоге компактную и калорийную пинту, которую и хранить можно сколь угодно долго, и в дальнейшем экспедицию удобно взять. А иногда такой продукт даже измельчают в труху, приправляя им затем любую горячую пинту.

Пронумерованный список:

- 1 Сушка
- 2 Колпачие
- 3 Маринование
- 4 Вяление

4. Отгадайте мансийскую загадку:

На болотистой местности сидят девушки в ярких платках!

Ответ: Рыбачихи и ваши

5. Выберите правильный ответ:

Какие действия в цепочке приготовления салата из сырых овощей необходимо поменять местами?

3

ВСЕРОССИЙСКАЯ ОЛИМПИАДА ШКОЛЬНИКОВ ПО ТЕХНОЛОГИИ (девушки)


Направление «Культура дома, дизайн и технология»  
Теоретический тур  
7 – 8 класс  
2025 - 2026 учебный год

Код участника 7284

1. Взять овощи; 2. Перебрать; 3. Нарезать; 4. Промыть; 5. Перемешать; 6. Заправить; 7. Украсить.
- а) 3-4, 6-7  
б) 2-4, 5-6  
в) 3-4, 5-6  
г) 2-3, 6-7
- Ответ: б) 3-4, 5-6

Машинное

6. Какое приспособление к швейной машине изображено ниже?



- А) лапка для пришивания пуговиц  
Б) лапка для обметывания петель  
В) лапка для потайного подшивания  
Г) лапка для пришивания потайной застежки-молнии

Ответ: А

7. Соотнесите название ткани и ее описание:

1 - Леняная ткань	А - Особенностью этой ткани является наличие длинного жгучего ворса на одной или двух сторонах полотна. Этот ворс обрабатывается с помощью выглаживания на поверхность петель из вельветно наткнутой нити основы. Петли могут быть неразрезанными, стрижеными и даже образовывать рельефный орнамент. Из ткани изготавливают домашние халаты и подолочника.
2 - Шотландка	Б - Ткань из хлопка, на лицевой стороне которой видны прямые рубчики по всей длине отреза, параллельные кромке.
3 - Фланель	В - Натуральная ткань имеет сероватый оттенок, который исчезает при воздействии влаги и солнечных лучей. По старинной технологии для обеспечения новых полотен растительными так, чтобы их достаточно долгое время свачивала роса, затем высушивало солнце.

4

ВСЕРОССИЙСКАЯ ОЛИМПИАДА ШКОЛЬНИКОВ ПО ТЕХНОЛОГИИ (девушки)

ШКОЛЬНЫЙ ЭТАП

Направление «Культура дома, дизайн и технология»

Теоретический тур

7 – 8 класс


2025 - 2026 учебный год

Код участника 1284

4 – Махровая ткань	Г - Мягкая ткань с начесом, сделанная из хлопка, шерсти или полушерсти. Хорошо сохраняет тепло, обладает потрясающей гигроскопичностью. Материал имеет разные назначения: от домашней одежды для взрослых и детей до пеленок.
5 - Вельвет	Д - Ткань в клеточку, чье название прямо указывает на страну ее происхождения. Изготавливается способом саржевого переплетения из заранее окрашенных нитей, расположенных крестообразно. Цвета и сложность узора прямо указывали на статус человека.

Ответ: 1 – «А», 2 – «Г», 3 – «А», 4 – «Д», 5 – «Б».

8. Если сравнивать одежду по особенностям конструкции, то её можно разделить на 2 группы: изделия, которые крепятся на пояс (поясные), и изделия, которые крепятся на плечах (плечевые). Какое изделие относится к поясным?



Ответ: CD

9. Определите, что является прототипом данного жакета?

- а) польский контуш.
- б) гусарский ментик.
- в) казачий чекмень.
- г) кавказский архалук.
- д) гренадерский мундир

Ответ: б



ВСЕРОССИЙСКАЯ ОЛИМПИАДА ШКОЛЬНИКОВ ПО ТЕХНОЛОГИИ (девушки)

ШКОЛЬНЫЙ ЭТАП

Направление «Культура дома, дизайн и технология»

Теоретический тур

7 – 8 класс

2025 - 2026 учебный год

Код участника 1284

10. Что такое dress-code (dress code)?

- а) требования к офисной одежде сотрудников;
- б) форма одежды, требуемая при посещении определенных мероприятий, организации, заведений;
- в) комплект одежды, обуви и аксессуаров, подобранных из вещей одного бренда;
- г) манера одеваться в определенной социальной группе.

Ответ: б

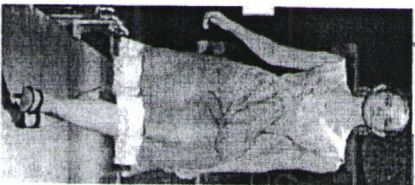
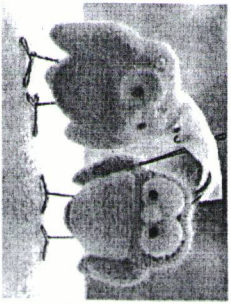
11. Тринтих – это.....

- а) ковер;
- б) трехстворчатая картина;
- в) композиция из трех частей, связанных длинным идиомо-художественным содержанием;
- г) занавес из тяжелой материи на дверях;
- д) текстиль для мебели.

Ответ: а

12. Вставьте в предложение пропущенное слово:

Технология, используемая в одном из популярных сегодня видов декоративно-прикладного творчества, который называется Веллинг основана на особом свойстве шерсти. С помощью этой технологии можно изготовить декоративные панно, аксессуары, игрушки, другие изделия



13. Подпишите названия конструкций юбок по их покрою:

а) <u>Юбка-пачка</u>	б) <u>Юбка</u>	в) _____	г) <u>Юбка-карандаш</u>

14. При раскрое изделия в первую очередь на ткани размещают:

- а) большие детали (полоочки, рукава, подолница юбки);
- б) маленькие детали (клапана, обтачки, манжеты).

Ответ а

15. Что отличает морской стиль от других?

- а) бело-синие-красное сочетание цветов;

а) фривольте  
 б) макраме  
 в) на коклюшках  
 г) на бердышке (берде)

Ответ б

16. Изделие, показанное на рисунке, изготовлено в технике плетения

17. Выберите из представленных изображений главные элементы зоны приготовления пищи

а	б	в	г

Ответ: б в

Экономика

18. Дополните определение:

Ситуация, при которой несколько производителей одинаковых товаров борются за внимание потребителей с помощью улучшения качества товаров или снижения цен, называется конкуренция

Слова для выбора: бизнес, реклама, конкуренция.

19. Профессия человека, являющегося специалистом в области создания стиля (имиджа) человека с помощью одежды, прически, макияжа и т.д.

Код участника 14 24

0,5

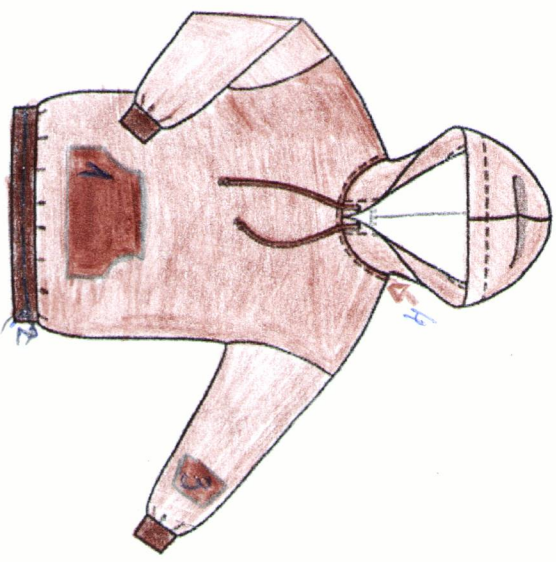
- а) модельер;
  - б) вязажист;
  - в) парикмахер;
  - г) стилист;
  - д) дизайнер;
  - е) кутюрье.
- Ответ б) Вязажист

**20. ТВОРЧЕСКОЕ ЗАДАНИЕ (6 баллов)**

Худи — разновидность свитера из мягкого хлопчатобумажного трикотажа или флиса с капюшоном, по российской классификации его связывают с толстовкой. Выступите в роли дизайнера и внесите свои модельные особенности и декорируйте изделие.

№	Критерии оценки	Баллы макс
1	Внесены модельные особенности	2
2	Внесены элементы декора	2
3	Выдержано стилевое направление	1
4	Чистота выполнения задания	1
Итого		6

Код участника 14 24



- 1 - Карман на шее и спереди
- 2 - Застежка (застежка-молния и т.д.)
- 3 - Карман для хранения вещей (т.е. карман)
- 4 - Две кармана спереди

6

**Уважаемый участник олимпиады!**

Вам предстоит выполнить теоретические и тестовые задания.

Время выполнения заданий теоретического тура **2 академических часа (90 минут)**.

Выполнение теоретических (письменных, творческих) заданий целесообразно организовывать следующим образом:

– не спеша, внимательно прочитайте задание и определите, наиболее верный и полный ответ;

– отвечая на теоретический вопрос, обдумайте и сформулируйте конкретный ответ только на поставленный вопрос;

– если Вы выполняете задание, связанное с заполнением таблицы или схемы, не старайтесь детализировать информацию, вписывайте только те сведения или данные, которые указаны в вопросе;

– особое внимание обратите на задания, в выполнении которых требуется выразить Ваше мнение с учетом анализа ситуации или поставленной проблемы. Внимательно и вдумчиво определите смысл вопроса и логику ответа (последовательность и точность изложения). Отвечая на вопрос, предлагайте свой вариант решения проблемы, при этом ответ должен быть кратким, но содержать необходимую информацию;

– после выполнения всех предложенных заданий еще раз удостоверьтесь в правильности выбранных Вами ответов и решений.

Выполнение тестовых заданий целесообразно организовать следующим образом:

- не спеша, внимательно прочитайте тестовое задание;
- определите, какой из предложенных вариантов ответа наиболее верный и полный;
- напишите букву, соответствующую выбранному Вами ответу;
- продолжайте, таким образом, работу до завершения выполнения тестовых заданий;
- после выполнения всех предложенных заданий еще раз удостоверьтесь в правильности ваших ответов;

– если требуется корректировка выбранного Вами варианта ответа, то неправильный вариант ответа зачеркните крестиком, и рядом напишите новый.

Предупреждаем Вас, что:

– при оценке тестовых заданий, где необходимо определить один правильный ответ, 0 баллов выставляется за неверный ответ и в случае, если участником отмечены несколько ответов (в том числе правильный), или все ответы;

– при оценке тестовых заданий, где необходимо определить все правильные ответы, 0 баллов выставляется, если участником отмечены неверные ответы, большее количество ответов, чем предусмотрено в задании (в том числе правильные ответы) или все ответы. Задание теоретического тура считается выполненным, если Вы вовремя сдадите его членам жюри. **Максимальная оценка – 25 баллов.**

**ОСНОВНАЯ ЧАСТЬ**

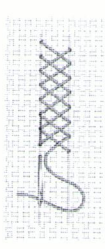

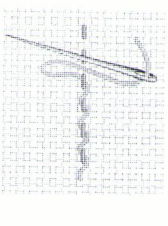
**1. Найдите соответствие между названиями определений и их характеристиками**

В настоящее время широко используются два определения технологии, традиционное и современное, которые кратко можно изложить следующим образом:

Названия определений	Краткое содержание
А. современное	1. Технология - это наука о преобразовании материалов (веществ), информации по плану и в интересах человека 2. Технология - это знания о последовательности действий человека и необходимом оборудовании при преобразовании материалов (веществ), энергии и информации по плану и в интересах человека.
Б. традиционное	

Ответ: 1 – «Б», 2 – «А».

**2. Сопишите изображения ручных стежков с их названиями.**

А		1	Шов «шишук»
Б		2	Стебельчатый шов
В		3	Тамбурный шов

ВСЕРОССИЙСКАЯ ОЛИМПИАДА ШКОЛЬНИКОВ ПО ТЕХНОЛОГИИ (девочки)

Направление «Культура дома, дизайн и технологии»

ШКОЛЬНЫЙ ЭТАП

Теоретический тур

7 – 8 класс

2025 - 2026 учебный год

Код участника

7083


Г	4	Бархатный шов
---	---	---------------

- А) А-4, Б-3, В-2, Г-1  
 Б) А-4, Б-3, В-1, Г-2  
 В) А-3, Б-1, В-4, Г-2  
 Г) А-1, Б-2, В-3, Г-4

Ответ: Г

3. Прочитайте текст, в котором пропущены некоторые термины. Выберите нужные термины из пронумерованного списка и вставьте вместо пропусков (А-В). Вставьте термины в нужном падеже и числе.

Итак, какие же необычные способы обработки продуктов любознательный турист может увидеть в процессе ознакомления с кухней народов севера?



Например, крайне распространены здесь (А) Валяние и (Б) копчение, которым может подвергаться практически все из сырья: мясо и рыба, их внутренности, грибы, ягоды, травы. (В) рубка под солнцем, над костром, даже на морозе, получая в итоге компактную и калорийную пищу, которую и хранить можно сколь угодно долго, и в дальнюю экспедицию удобно взять. А иногда такой продукт даже используют в трюху, приправляя им затем любую горячую пищу.

Пронумерованный список:

- 1 Сушка
- 2 Копчение
3. Маринование
4. Валяние

4. Отгадайте мансийскую загадку:

На болотистой местности сидят девушки в ярких платках!

Ответ:

Клюква

5. Выберите правильный ответ:

Какие действия в цепочке приготовления салата из сырых овощей необходимо поменять местами?

3

ВСЕРОССИЙСКАЯ ОЛИМПИАДА ШКОЛЬНИКОВ ПО ТЕХНОЛОГИИ (девочки)

Направление «Культура дома, дизайн и технологии»

ШКОЛЬНЫЙ ЭТАП

Теоретический тур

7 – 8 класс

2025 - 2026 учебный год

Код участника

7083

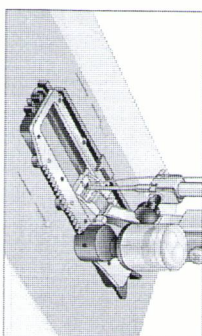
1. Взять овощи; 2. Пересорять; 3. Нарезать; 4. Промыть; 5. Перемешать; 6. Заправить; 7. Украсить

- а) 3-4, 6-7  
 б) 2-4, 5-6  
 в) 3-4, 5-6  
 г) 2-3, 6-7

Ответ: б)

Машинное шение

6. Какое приспособление к швейной машине изображено ниже?



- А) лапка для пришивания пуговиц  
 Б) лапка для обметывания петель  
 В) лапка для потайного подшивки  
 Г) лапка для притачивания потайной застежки-молнии

Ответ: Б)

7. Соотнесите название ткани и ее описание:

1 - Льняная ткань	А - Особенностью этой ткани является наличие длинного нитяного ворса на одной или двух сторонах полотна. Этот ворс образуется с помощью вытягивания на поверхность петель из неплотно натянутой нити основы. Петли могут быть неразрывными, стрижеными и даже образовывать рельефный орнамент. Из ткани изготавливают домашние халаты и полотенца.
2 - Шотландка	Б - Ткань из хлопка, на лицевой стороне которой видны прямые рубчики по всей длине отреза, параллельные кромке.
3 - Фланель	В - Натуральная ткань имеет сероватый оттенок, который исчезает при воздействии влаги и солнечных лучей. По старинной технологии для отбеливания новые полотна распинали так, чтобы их достаточно долгое время свививала роса, затем высушивали солнце.

4

4 – Махровая ткань	Г - Мягкая ткань с начесом, сделанная из хлопка, шерсти или полушерсти. Хорошо сохраняет тепло, обладает потрясающей гигроскопичностью. Материал имеет разное назначение: от домашней одежды для взрослых и детей до пеленок.
5 - Вельвет	Д - Ткань в клеточку, чье название прямо указывает на страну ее происхождения. Изготавливается способом переплетения из заранее окрашенных нитей, расположенных в крестообразно. Цвета и сложность узора прямо указывали на статус человека.

Ответ: 1 – «A», 2 – «B», 3 – «B», 4 – «G», 5 – «B».

8. Если сравнивать одежду по особенностям конструкции, то её можно разделить на 2 группы: изделия, которые крепятся на поясе (поясные), и изделия, которые крепятся на плечах (плечевые). Какое изделие относится к поясным?

- А)  Б)  В)  Д) 

Ответ:

Д)

9. Определите, что является прототипом данного жакета?

- а) польский конгуш,  
б) гусарский ментик,  
в) казачий чекмень,  
г) кавказский архалук,  
д) гренадерский мундир

Ответ:

Б)



10. Что такое dress-code (dress code)?

- а) требования к офисной одежде сотрудников;  
б) форма одежды, требуемая при посещении определенных мероприятий, организации, заведений;  
в) комплект одежды, обуви и аксессуаров, подобранных из вещей одного бренда;  
г) манера одеваться в определенной социальной группе.

Ответ: Б)

11. Триптих – это.....

- а) ковер;  
б) трёхстворчатая картина;  
в) композиция из трёх частей, связанных единым идейно-художественным содержанием;  
г) занавес из тяжёлой материи на дверях;  
д) текстиль для мебели.

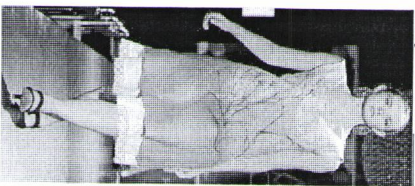
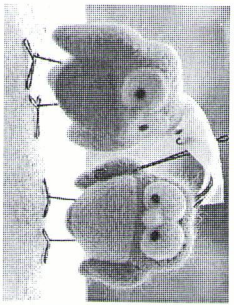
Ответ: Б)

12. Вставьте в предложение пропущенное слово:





Технология, используемая в одном из популярных сегодня видов декоративно-прикладного творчества, который называется \_\_\_\_\_ основана на особом свойстве лерсти. С помощью этой технологии можно изготовить декоративные панно, аксессуары, игрушки, другие изделия.

Код участника

TR83



13. Подпишите названия конструкторной юбок по их покрою:

а) 	б) 	в) 	г) 
--	--	--	---

14. При раскрое изделия в первую очередь на ткани размещают:  
 а) большие детали (полочки, рукава, подгибка юбки);  
 б) маленькие детали (клапана, обтачки, манжеты).  
 Ответ а)


15. Что отличает морской стиль от других?  
 а) бело-синее-красное сочетание цветов;

Код участника





TR83

б) кружева и рюши;  
 в) основной рисунок – логоска;  
 г) украшения с изображением якорей, цепей, морских звезд.  
 Ответ в)

16. Изделие, показанное на рисунке, изготовлено в технике плетения  
 а) фризолите  
 б) макраме  
 в) на коклюшках  
 г) на бердышке (берде)  
 Ответ б)



17. Выбери из представленных изображений главные элементы зоны приготовления пищи

а) 	б) 	в) 	г) 
--	--	--	--

Ответ: а) б)

Экономика

18. Дополните определение:  
 Ситуация, при которой несколько производителей одинаковых товаров борются за внимание потребителей с помощью улучшения качества товаров или снижения цены, называется \_\_\_\_\_  
 Слова для выбора: бизнес, реклама, конкуренция.

19. Профессия человека, являющегося специалистом в области создания стиля (имиджа) человека с помощью одежды, причёски, макияжа и т.п.

- а) модельер;
  - б) вязкист;
  - в) парикмахер;
  - г) стилист;
  - д) дизайнер;
  - е) кутюрье;
- Ответ в) b

**20. ТВОРЧЕСКОЕ ЗАДАНИЕ (6 баллов)**

Худи — разновидность свитера из мягкого хлопчатобумажного трикотажа или флиса с капюшоном, по российской классификации его связывают с толстовкой. Выступите в роли дизайнера и внесите свои модельные особенности и декорируйте изделие.

№	Критерии оценки	Баллы макс
1	Внесены модельные особенности	2
2	Внесены элементы декора	2
3	Выдержано стилевое направление	1
4	Чистота выполнения задания	1
Итого		6

48

