

ИД № 157

ШИФР

ИД № 165

Задания для участников 5 класса  
**Инструкция по выполнению работ**  
Время выполнения работы – 45 минут.  
Максимальное количество баллов – 59 баллов

Вам предлагается выполнить 10 заданий. Внимательно прочитайте каждое задание. Если отвечаете на теоретический вопрос или решаете ситуационную задачу, обдумайте и сформулируйте конкретный ответ (ответ должен быть кратким, и его содержание следует вписать в отведённое поле: записывайте четко и разборчиво).

**1. Ответьте на вопросы и выполните задания.**

Царь начал править в 30 г. до н.э., а умер в 12 г. н.э. Сколько лет он правил?

42 года

Какой год был раньше – 75 г. до н.э. или 40 г. н.э.? На сколько?

115 г. до н.э. на 65 лет

Какой год был раньше – 200 г. н.э. или 200 г. до н.э.? На сколько?

2002 года н.э. на 400 лет

Укажите, к какому веку относятся даты.

532 г. до н.э. 533 годы

20 г. н.э. 21 годы

1995 г. 20 годы

753 г. до н.э. 754 годы

Запишите века арабскими цифрами.

III в. 3 век

XII в. 12 век

XIX в. 19 век

За верный ответ – 1 балл. Максимум – 10 баллов.

**2. Решите кроссворд «Первобытное общество» и укажите ключевое слово. По горизонтали:**

				1	Ш	р	у	ч	к	а			
				2	л								
	3	0	2	0	н	ь							
		4	0	х	о	м	а						
		5	д	у	ш	а							
		6	ж	а	ш	д	к	м					
		7	о	у	з	о	м						
		8	у	а	р	н	и	ч					
9	с	о	д	и	р	а	м	е	л	ь	с	м	ь

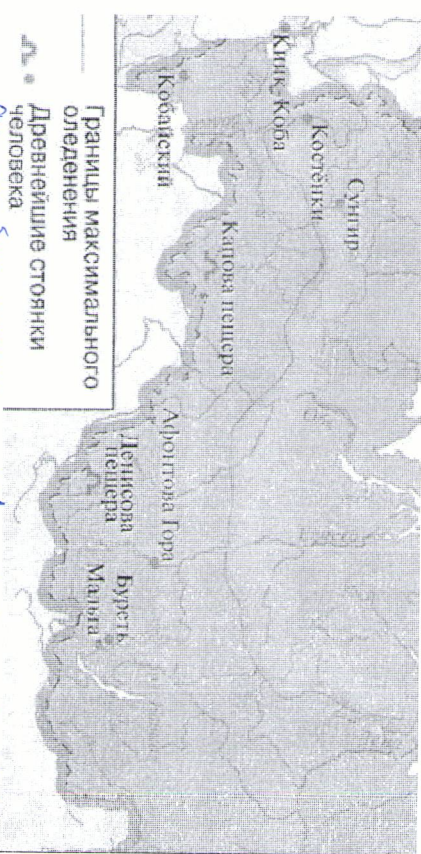
до

- Материк, где по предположениям ученых, жили древнейшие люди.
- Оружие охотников, которым можно поразить цель на большом расстоянии.
- Первая сила природы, которой овладели первобытные люди.
- Занятие первобытных людей, позволявшее добыть мясную пищу.
- Сверхъестественное существо, в которое верили первобытные люди, обитает в каждом человеке.
- Самое крупное из животных, на которое охотились древние люди.
- Рогатый зверь, которого часто изображали первобытные художники.
- Орудие, которым ловили рыбу.
- Занятие, позволявшее добыть в основном растительную пищу.

Ключевое слово – Материк

За верный ответ – 1 балл. Максимум – 10 баллов.

3. На карте размещены стоянки первобытного человека. Запишите, на какой стоянке они были.




Ответ: Они жили вблизи неолитных стоянок на северном берегу моря, но море был. Должно был у северных берегов моря. Вероятно шире.

20

За верный ответ – 3 балла. За определение стоянки – 1 балл. За описание местной стоянки – 2 балла.

4. Внимательно рассмотрите изображения. (всего 5 баллов)



4.1. Выберите иллюстрацию, на которой изображен памятник, относящийся к так называемым «Семи чудесам света».

Ответ: 7

За верный ответ – 1 балл

10

4.2. Выберите иллюстрацию, связанную с государством, в котором был создан приведённый объект культуры.



Ответ: 1. Египет

За верный ответ – 1 балл. Максимум – 3 балла.

15

4.3. Прочитайте текст и выберите изображение, на котором запечатлен памятник, о повреждении которого идёт речь в тексте.

Дополнительно неизвестно, когда, когда были нанесены «увечья» данному памятнику культуры. По одной из версий, виной всему французский император Наполеон, приказавший расстрелять памятник из пушки. Впрочем, сохранились изображения памятника с «повреждениями», созданные ещё задолго до времён Наполеона. По версии авторов фильма Астерикс и Обелиск: Миссия Клеопатра, «повреждения» нанёс Обелиск, когда неюжно задел часть памятника. Впрочем, последнее – лишь художественная интерпретация одной из загадок истории.

Ответ: Клеопатра

За верный ответ – 1 балл

—

20

5. Прочтите описание древнего учреждения и выберите термин, обозначающий учреждение с такими же функциями в наши дни.

Ассирийское царство известно не только за счёт большого числа успешных военных походов, но и за внимательное отношение к культуре. В столице царства, городе Ниневии, одним из царей было создано поистине выдающееся собрание глиняных табличек более 20 тысяч. В таблицах содержались сведения по медицине, астрономии, математике и о многом другом. Таблички хранились в строгом порядке в соответствии с темой и областью древнего знания. В греческом языке такое собрание получило название, включившее слово «местопись».

1. Библиотека
2. Музей
3. Склад
4. Древлехранитель
5. Галерея

Ответ: 1.

15

За верный ответ – 1 балл

6. Согласны ли вы со следующими утверждениями? Ответы укажите в таблице.

Утверждение	Да	Нет
Нил был главной водной артерией Египта.	<input checked="" type="checkbox"/>	<input type="checkbox"/>
Египетские письменные знаки назывались пиктограммами.	<input type="checkbox"/>	<input checked="" type="checkbox"/>
Материалом для письма в Междуречье была бумага.	<input type="checkbox"/>	<input checked="" type="checkbox"/>
Ворота богини Иштар находились в Вавилоне.	<input checked="" type="checkbox"/>	<input type="checkbox"/>
Ассирийские воины считались лучшими в Древнем мире.	<input checked="" type="checkbox"/>	<input type="checkbox"/>
В Персеполе находилась глиняная табличка.	<input type="checkbox"/>	<input checked="" type="checkbox"/>
Ассирийцам были прекрасными мореплавателями.	<input checked="" type="checkbox"/>	<input type="checkbox"/>
Финикийцам принадлежат открытые алфавиты.	<input checked="" type="checkbox"/>	<input type="checkbox"/>
Персы основали колонии по берегам Средиземного моря.	<input type="checkbox"/>	<input checked="" type="checkbox"/>
Иерусалим стал столицей при царе Давиде.	<input checked="" type="checkbox"/>	<input type="checkbox"/>
Главным пророком персов был Зороастра.	<input type="checkbox"/>	<input checked="" type="checkbox"/>
Буддизм является одной из мировых религий.	<input checked="" type="checkbox"/>	<input type="checkbox"/>
Главные реки Китая – Инд и Ганг.	<input checked="" type="checkbox"/>	<input type="checkbox"/>
В Индии был открыт порох.	<input type="checkbox"/>	<input checked="" type="checkbox"/>
Китайцы использовали шелковые ткани.	<input checked="" type="checkbox"/>	<input type="checkbox"/>

За верный ответ – 1 балл. Максимум – 15 баллов.

7. Выберите из списка название памятника культуры, о котором идет речь в тексте.

По легенде, строительство этого памятника архитектуры началось в III в. до н.э., а отдельные части этого объекта были построены в XVII в. н.э. В строительстве памятника участвовало около 1 млн человек, десятки тысяч из которых погибли при строительстве. В настоящее время данный памятник является крупнейшим из созданных руками человека. В 2023 г. памятник пострадал от рук рабочих, решивших снести часть объекта, чтобы сократить путь до работы и избавиться от необходимости обходить постройку.

1. Коллизей
2. Пирамида Хеопса
3. Зимний дворец
4. Большой сфинкс
5. Великая Китайская стена
6. Терракотовая армия

Ответ: 5

За верный ответ – 1 балл.

8. Ознакомьтесь с текстом и выберите верные суждения.

Когда царь подошёл к городу, вавилоняне бросились в бой, но, потерпев поражение, были оттеснены в город. Вавилонянам было уже заранее известно, что Кир теперь не будет бездействовать: они видели вель, как персидский царь напал на один народ за другим. Поэтому, запасшись продовольствием на очень много лет, они не обращали никакого внимания на осаду. Между тем Кир оказался в затруднительном положении, так как прошло уже много времени, а дело [осады] нисколько не подвигалось вперёд.


Наконец - другой ли кто подав совет в затруднении или же сам Кир соорудил, как ему поступать, – но следовало бы вот что. Он поставил часть своего войска в том месте, где река входит в город, а другую часть – ниже по течению, к её выходу из города. Затем он приказал воинам, как только увидят, что русло стало проходимым вброд, вступать по этому руслу в город. После этого сам царь с частью войск отступил. По прибытии к озеру, расположенному выше Вавилона, персидский царь отвёл реку с помощью канала в озеро, которое собственно, было боготом, а таким образом старое русло стало проходить. После того как вода в реке стала настолько, что доходила людям приблизительно до колена, персы по старому руслу вошли в Вавилон. Теперь персы внезапно напали на вавилонян. Так-то Вавилон был взят тогда в первый раз.

1. Согласно тексту, осада города продолжалась несколько лет.
2. В тексте упоминается правитель, прозванный Великим.
3. Согласно тексту, в первом сражении вавилоняне одержали победу над персами.
4. В тексте упоминается город, в котором, согласно легенде, жители пытались построить огромную башню до небес.
5. Согласно тексту, вавилоняне не ожидали нападения персов по старому руслу реки.
6. Захват Вавилона произошёл в результате первого военного похода под командованием Кира.
7. Жители Вавилона были заранее готовы к длительной осаде.
8. В тексте упоминается столица Ассирии.
9. Согласно тексту, в войске персов не было всадников.
10. Одержав победу персам удалось благодаря смелости царя Кира.

Ответ: 1, 2, 4, 5, 7, 10.

За каждый верный выбор – 2 балла. Максимум за задание – 10 баллов.

9. Рассмотрите герб Ханты-Мансийского автономного округа – Югры и выполните задание.



Животных-символов Ханты-Мансийского автономного округа — Югры несколько. На гербе Югры изображена мифическая двуглавая птица «Кат ухул вой», а самими животными, символизирующими регион, являются \_\_\_\_\_ и \_\_\_\_\_.

Ответ: Медведь и \_\_\_\_\_

За верный ответ – 1 балл.

10. Рассмотрите плакат и дайте развёрнутый ответ на вопрос.




900 дней продолжалась блокада этого города. 8 мая 1965 года этот город получил статус города-героя, хотя впервые он был упомянут как город-герой в приказе от 1 мая 1945 года. Назовите город. Укажите название войны, когда этот город находился в блокаде. Укажите годы войны.

Ответ: Ленинград. Великая Отечественная война. 1941 – 1945.

За каждый верный ответ – 1 балл. Максимум за задание – 3 балла.



4. Внимательно рассмотрите изображения. (всего 5 баллов)



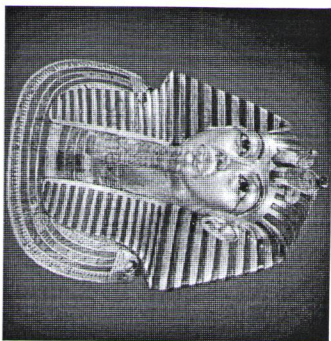
4.1. Выберите иллюстрацию, на которой изображен памятник, относящийся к так называемым «Семи чудесам света».

Ответ: 7

За верный ответ – 1 балл

10

4.2. Выберите иллюстрацию, связанную с государством, в котором был создан приведённый объект культуры.



Ответ: 1, 2, 3, 4

За верный ответ – 1 балл. Максимум – 3 балла.

10

4.3. Прочитайте текст и выберите изображение, на котором запечатлён памятник, о повреждении которого идёт речь в тексте.

Дополненно неизвестно, когда, когда были нанесены «увечья» данному памятнику культуры. По одной из версий, виной всему французский император Наполеон, приказавший расстрелять памятник из пушки. Впрочем, сохранились изображения памятника с «повреждениями», созданные ещё задолго до времён Наполеона. По версии авторов фильма Астерикс и Обеликс: Миссия Клеопатра; «повреждения» нанёс Обеликс, когда неловко задел часть памятника. Впрочем, последнее – лишь художественная интерпретация одной из заглавок истории.

Ответ: 7

За верный ответ – 1 балл

10

5. Прочтите описание древнего учреждения и выберите термин, обозначающий учреждение с такими же функциями в наши дни.

Ассирийское царство известно не только за счёт большого числа успешных военных походов, но и за внимательное отношение к культуре. В столице царства, городе Ниневии, одним из царей было создано поистине выдающееся собрание глиняных табличек, более 20 тысяч. В таблицах содержались сведения по медицине, астрономии, математике и о многом другом. Таблички хранились в строгом порядке в соответствии с темой и областью древнего знания. В греческом языке такое собрание получило название, включавшее слово «вместитель».

1. Библиотека
2. Музей
3. Склад
4. Древлехранилище
5. Галерея

Ответ: 4

10

За верный ответ – 1 балл

6. Согласны ли вы со следующими утверждениями? Ответы укажите в таблице.

Утверждение	Да	Нет
Нил был главной водной артерией Египта.	✓	
Египетские письменные знаки назывались пиктограммами.	✓	
Материалом для письма в Междуречье была бумага.	✓	
Ворота Богини Иштар находились в Вавилоне.		✓
Ассирийские воины считались лучшими в Древнем мире.	✓	✓
В Персеполе находилась библиотека глиняных табличек.		✓
Ассирийцам принадлежат открытые асфальта.	✓	
Персы основали колонии по берегам Средиземного моря.	✓	
Иерусалим стал столицей при царе Давиде.	✓	✓
Главным пророком персов был Заратустра.		✓
Буддизм является одной из мировых религий.		✓
Главные реки Китая – Иди и Ганг.		✓
В Индии был открыт порох.		✓
Китайцы использовали шелковые ткани.		✓

За верный ответ – 1 балл. Максимум – 15 баллов.

7. Выберите из списка название памятника культуры, о котором идёт речь в тексте.

По легенде, строительство этого памятника архитектуры началось в III в. до н.э., а отдельные части этого объекта были построены в XVII в. н.э. В строительстве памятника участвовало около 1 млн человек, десятки тысяч из которых погибли при строительстве. В настоящее время данный памятник является крупнейшим из созданных руками человека. В 2023 г. памятник пострадал от рук рабочих, решивших снести часть объекта, чтобы сократить путь до работы и избавиться от необходимости обходить постройку.

1. Коллизей
2. Пирамида Хеопса
3. Зимний дворец
4. Большой сфинкс
5. Великая Китайская стена
6. Терракотовая армия.

Ответ: 2

За верный ответ – 1 балл.

8. Ознакомьтесь с текстом и выберите верные суждения.

Когда царь подошёл к городу, вавилоняне бросились в бой, но, потерпев поражение, были оттеснены в город. Вавилонянам было уже заранее известно, что Кир теперь не будет бездействовать: они видели вель, как персидский царь напал на один народ за другим. Поэтому, запасшись продовольствием на очень много лет, они не обрадовали никакого внимания на осаду. Между тем Кир оказался в затруднительном положении, так как прошло уже много времени, а дело [осады] несколько не подвигалось вперёд.


Наконец - другой ли кто поды совет в затруднении или же сам Кир соорудил, как ему поступать, – но следов он вот что. Он поставил часть своего войска в том месте, где река вводит в город, а другую часть – ниже по течению, к её выходу из города. Затем он приказал воннам, как только увидят, что русло стало проходимым вброд, вступать по этому руслу в город. После этого сам царь с частью войск отступил. По прибытии к озеру, расположенному выше Вавилона, персидский царь отвёл реку с помощью канала в озеро, которое собственно, было болотом, а таким образом старое русло сделало проходным. После того как вода в реке спала настолько, что доходила людям приблизительно до колена, персы по старому руслу вошли в Вавилон. Теперь персы внезапно напали на вавилонян. Так-то Вавилон был взят тогда в первый раз.

1. Согласно тексту, осада города продолжалась несколько лет.
2. В тексте упоминается правитель, прозванный Великим.
3. Согласно тексту, в первом сражении вавилоняне одержали победу над персами.
4. В тексте упоминается город, в котором, согласно легенде, жители пытались построить опромлную башню до небес.
5. Согласно тексту, вавилоняне не ожидали нападения персов по старому руслу реки.
6. Захват Вавилона произошёл в результате первого военного похода под командованием Кира.
7. Жители Вавилона были заранее готовы к длительной осаде.
8. В тексте упоминается столица Ассирии.
9. Согласно тексту, в войске персов не было всадников.
10. Одержав победу персам удалось благодаря смелости царя Кира.

Ответ: 1, 2, 3, 4, 5, 6, 7, 8, 9, 10.

За каждый верный выбор – 2 балла. Максимум за задание – 10 баллов.

9. Рассмотрите герб Ханты-Мансийского автономного округа – Югры и выполните задание.



Животных-символов Ханты-Мансийского автономного округа — Югры несколько. На гербе Югры изображена мифическая двуглавая птица «Кат ухуи вои», а самими животными, символизирующими регион, являются лось и олень.

Ответ: лось и олень.

За верный ответ – 1 балл.



10. Рассмотрите плакат и дайте развернутый ответ на вопрос.



900 дней продолжалась блокада этого города. 8 мая 1965 года этот город получили статусе города-героя, хотя впервые он был упомянут как город-герой в приказе от 1 мая 1945 года. Назовите город. Укажите название войны, когда этот город находился в блокаде. Укажите голы войны.

Ответ: Кедровск

5

За каждый верный ответ – 1 балл. Максимум за задание – 3 балла.

ШИФР  
454

454

Задания для участников 5 класса

**Инструкция по выполнению работ**  
Время выполнения работы – 45 минут.  
Максимальное количество баллов – 59 баллов

Вам предлагается выполнить 10 заданий. Внимательно прочитайте каждое задание.

Если ответите на теоретический вопрос или решите ситуационную задачу, обдумайте и сформулируйте конкретный ответ (ответ должен быть кратким, и его содержание следует вписать в отведённое поле; записи ведите чётко и разборчиво).

**1. Ответьте на вопросы и выполните задания.**

Царь начал править в 30 г. до н.э., а умер в 12 г. н.э. Сколько лет он правил?

42 года

Какой год был раньше – 75 г. до н.э. или 40 г. н.э.? На сколько?

75 г. до н.э. на 35 лет

Какой год был раньше – 200 г. н.э. или 200 г. до н.э.? На сколько?

1200 лет. 200 до н.э. - 4 века

Укажите, к какому веку относится дата.

532 г. до н.э. 6 в. до н.э.

20 г. н.э. 1 в. н.э.

1995 г. 20 в. - XX в.

753 г. до н.э. 8 в. - VIII в.

Запишите века арабскими цифрами.

III в. 3

XII в. 12

XIX в. 19

За верный ответ – 1 балл. Максимум – 10 баллов.

95

**2. Решите кроссворд «Первобытное общество» и укажите ключевое слово. По горизонтали:**

			1	Е	В	Р	А	5	4	9
		2	К	О	М	6				
3	О	Г	О	Н	6					
О	Х	4	Ж	О	Т	А				
9	У	5	Ж	У	Ц	9				
		6	М	О	Н	Т				
0	1	Е	Н	7	О	1	С	И	Н	6
		8	У	9	О	Т	К	А		
9	С	0	5	4	Р	А	Т	С	А	6
										6
										0

БД

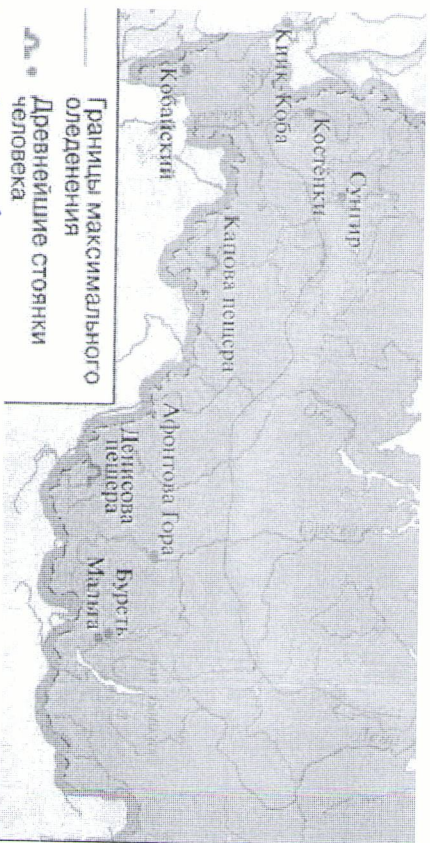
948

1. Материк, где по предположениям ученых, жили древнейшие люди.
2. Оружие охотников, которым можно поразить цель на большом расстоянии.
3. Первая сила природы, которой овладели первобытные люди.
4. Занятие первобытных людей, позволявшее добыть мясную пищу.
5. Сверхъестественное существо, в которое верили первобытные люди; обитает в каждом человеке.
6. Самое крупное из животных, на которое охотились древние люди.
7. Рогатый зверь, которого часто изображали первобытные художники.
8. Оружие, которым ловили рыбу.
9. Занятие, позволявшее добыть в основном растительную пищу.

Ключевое слово – БД

За верный ответ – 1 балл. Максимум – 10 баллов.


3. На карте размещены стоянки первобытного человека. Запишите, на какой стоянке нашли останки родезвенной группы неандертальцев. Опишите, какими они были.



Ответ: в Вурьякской пещере. Они были мажоркельскими, т.е. имели каменные и костяные орудия но учета пока не сделано как еще покажем

За верный ответ – 3 балла. За определение стоянки – 1 балл. За описание жителей стоянки – 2 балла.

4. Вы внимательно рассмотрите изображения. (всего 5 баллов)




4.1. Выберите иллюстрацию, на которой изображен памятник, относящийся к так называемым «Семи чудесам света».

Ответ: 4

За верный ответ – 1 балл

10

4.2. Выберите иллюстрацию, связанную с государством, в котором был создан приведённый объект культуры.



Ответ: Древняя Вавилония

За верный ответ – 1 балл. Максимум – 3 балла.

05

4.3. Прочитайте текст и выберите изображение, на котором запечатлён памятник, о повреждении которого идёт речь в тексте.

Долгожданный неизвестно, когда, когда были нанесены «увечья» данному памятнику культуры. По одной из версий, виной всему французский император Наполеон, приказавший расстрелять памятник из пушки. Впрочем, сохранились изображения памятника с «повреждениями», созданные ещё задолго до времён Наполеона. По версии авторов фильма Астерикс и Обеликс: Миссия Клеопатра, «повреждения» нанёс Обеликс, когда невольно задел часть памятника. Впрочем, последнее – лишь художественная интерпретация одной из загадок истории.

Ответ: 4

За верный ответ – 1 балл

05

5. Прочтите описание древнего учреждения и выберите термин, обозначающий учреждение с такими же функциями в наши дни.

Ассирийское царство известно не только за счёт большого числа успешных военных походов, но и за внимательное отношение к культуре. В столице царства, городе Ниневия, одним из царей было создано поистине выдающееся собрание глиняных табличек, более 20 тысяч. В таблицах содержались сведения по медицине, астрономии, математике и о многом другом. Таблички хранились в строгом порядке в соответствии с темой и областью древнего знания. В греческом языке такое собрание получило название, включавшее слово «местопище».

1. Библиотека
2. Музей
3. Склад
4. Древлехранитель
5. Галерея

Ответ: 4

05

За верный ответ – 1 балл

6. Согласны ли вы со следующими утверждениями? Ответы укажите в таблице.

Утверждение	Да	Нет
Нил был главной водной артерией Египта.	<input checked="" type="checkbox"/>	<input type="checkbox"/>
Египетские письменные знаки назывались пиктограммами.	<input checked="" type="checkbox"/>	<input type="checkbox"/>
Материалом для письма в Междуречье была бумага.	<input type="checkbox"/>	<input checked="" type="checkbox"/>
Ворота богини Интар находились в Вавилоне.	<input type="checkbox"/>	<input checked="" type="checkbox"/>
Ассирийские воины считались лучшими в Древнем мире.	<input type="checkbox"/>	<input checked="" type="checkbox"/>
В Персеполе находилась библиотека глиняных табличек.	<input type="checkbox"/>	<input checked="" type="checkbox"/>
Ассирийцы были прекрасными мореплавателями.	<input checked="" type="checkbox"/>	<input type="checkbox"/>
Финикийцам принадлежат открытые алфавита.	<input checked="" type="checkbox"/>	<input type="checkbox"/>
Персы основали колонии по берегам Средиземного моря.	<input type="checkbox"/>	<input checked="" type="checkbox"/>
Иерусалим стал столицей при царе Давиде.	<input checked="" type="checkbox"/>	<input type="checkbox"/>
Главным пророком персов был Заратуштра.	<input type="checkbox"/>	<input checked="" type="checkbox"/>
Буддизм является одной из мировых религий.	<input checked="" type="checkbox"/>	<input type="checkbox"/>
Главные реки Китая – Инд и Ганг.	<input type="checkbox"/>	<input checked="" type="checkbox"/>
В Индии был открыт порох.	<input type="checkbox"/>	<input checked="" type="checkbox"/>
Китайцы использовали шелковые ткани.	<input checked="" type="checkbox"/>	<input type="checkbox"/>

За верный ответ – 1 балл. Максимум – 15 баллов.

7. Выберите из списка название памятника культуры, о котором идёт речь в тексте.

По легенде, строительство этого памятника архитектуры началось в III в. до н.э., а отдельные части этого объекта были построены в XVII в. н.э. В строительстве памятника участвовало около 1 млн человек, десятки тысяч из которых погибли при строительстве. В настоящее время данный памятник является крупнейшим из созданных руками человека. В 2023 г. памятник пострадал от рук рабочих, решивших снести часть объекта, чтобы сократить путь до работы и избавиться от необходимости обходить постройку.

1. Коллизей
2. Пирамида Хеопса
3. Зимний дворец
4. Большой сфинкс
5. Великая Китайская стена
6. Терракотовая армия.

Ответ: 5

За верный ответ – 1 балл.

8. Ознакомьтесь с текстом и выберите верные суждения.

Когда царь подошёл к городу, вавилоняне бросились в бой, но, потеряв поражение, были отогнаны в город. Вавилонянам было уже заранее известно, что Кир теперь не будет бездействовать: они видели вель, как персидский царь нападал на один народ за другим. Поэтому, запавшись продовольствием на очень много лет, они не обращали никакого внимания на осаду. Между тем Кир оказался в затруднительном положении, так как прошло уже много времени, а дело [осады] нисколько не подвигалось вперёд.


Наконец - другой ли кто подыл совет в затруднении или же сам Кир соорудил, как ему поступать, – но следил он вот что. Он поставил часть своего войска в том месте, где река входит в город, а другую часть – ниже по течению, к её выходу из города. Затем он приказал воинам, как только увидят, что русло стало проходимым вброд, вступать по этому руслу в город. После этого сам царь с частью войск отступил. По прибытии к озеру, расположенному выше Вавилона, персидский царь отвёл реку с помощью канала в озеро, которое собственно, было болотом, а таким образом старое русло сделало проходным. После того как вода в реке стала настолько, что доходила людям приблизительно до колена, персы по старому руслу вошли в Вавилон. Теперь персы внезапно напали на вавилонян. Так-то Вавилон был взят тогда в первый раз.

1. Согласно тексту, осада города продолжалась несколько лет.
2. В тексте упоминается правитель, прозванный Великим.
3. Согласно тексту, в первом сражении вавилоняне одержали победу над персами.
4. В тексте упоминается город, в котором, согласно легенде, жители попытались построить огромную башню до небес.
5. Согласно тексту, вавилоняне не ожидали нападения персов по старому руслу реки.
6. Захват Вавилона произошёл в результате первого военного похода под командованием Кира.
7. Жители Вавилона были заранее готовы к длительной осаде.
8. В тексте упоминается столица Ассирии.
9. Согласно тексту, в войске персов не было вейдников.
10. Одержав победу персам удалось благодаря смелости царя Кира.

Ответ: 145108

За каждый верный выбор – 2 балла. Максимум за задание – 10 баллов.

9. Рассмотрите герб Ханты-Мансийского автономного округа – Югры и выполните задание.



Животных-символов Ханты-Мансийского автономного округа — Югры несколько. На гербе Югры изображена мифическая двуглавая птица «Кат ухун войд», а самими животными, символизирующими регион, являются \_\_\_\_\_ и \_\_\_\_\_.

Ответ: Иволга и кабарга

За верный ответ – 1 балл.

18

10. Рассмотрите плакат и дайте развернутый ответ на вопрос.



900 дней продолжалась блокада этого города. 8 мая 1965 года этот город получил статус города-героя, хотя впервые он был упомянут как город-герой в приказе от 1 мая 1945 года. Назовите город. Укажите название войны, когда этот город находился в блокаде. Укажите годы войны.

Ответ: Ленинград, Великая Отечественная война 1941-1945гг.

---

---

---

---

---

---

---

---

---

---

За каждый верный ответ – 1 балл. Максимум за задание – 3 балла.

455  
Шифр

Задания для участников 5 класса

**Инструкция по выполнению работ**  
Время выполнения работы – 45 минут.  
Максимальное количество баллов – 59 баллов

Вам предлагается выполнить 10 заданий. Внимательно прочитайте каждое задание. Если отвечаете на теоретический вопрос или решаете ситуационную задачу, обдумайте и формулируйте конкретный ответ (ответ должен быть кратким, и его содержание следует вписать в отведённое поле; запись ведите чётко и разборчиво).

**1. Ответьте на вопросы и выполните задания.**

Царь начал править в 30 г. до н.э., а умер в 12 г. н.э. Сколько лет он правил?

18 лет

Какой год был раньше – 75 г. до н.э. или 40 г. н.э.? На сколько?

76, на 116 лет раньше 75 г. до н.э. на 36 лет раньше или 40 г.

Укажите, к какому веку относятся даты.

532 г. до н.э. 5 век

20 г. н.э. 1 век

1995 г. 20 век

753 г. до н.э. 7 век

Запишите века арабскими цифрами.

III в. 3

XII в. 12

XIX в. 19

За верный ответ – 1 балл. Максимум – 10 баллов.

**2. Решите кроссворд «Первобытное общество» и укажите ключевое слово.**

По горизонтали:

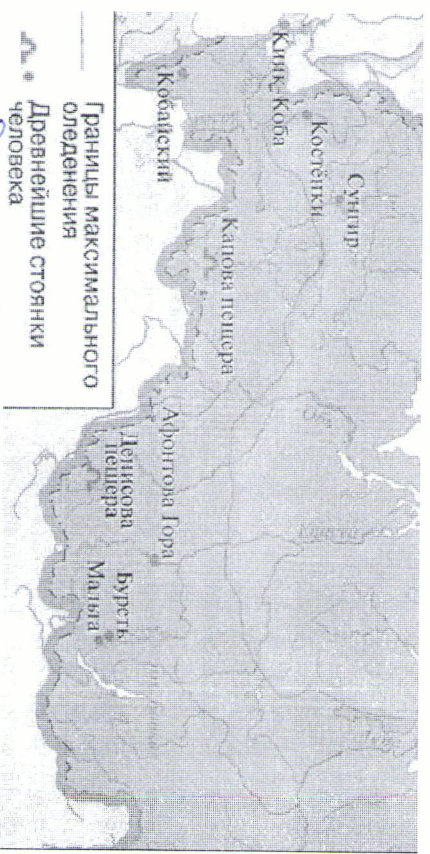
			1	О	В	С	Т	К	А	Л	И	Я
			2	Л	У	К						
	3	О	2	0	М							
		4	О	Х	О	Т	А					
		5										
			6	М	А	Л	О	В	Т			
			7	З	У	Д						
			8	А	Л	У						
9	С	О	Д	А	М	Т	Е	К	С	Т	В	О

828

1. Материк, где по предположениям ученых, жили древнейшие люди.
2. Оружие охотников, которым можно поразить цель на большом расстоянии.
3. Первая сила природы, которой овладели первобытные люди.
4. Занятие первобытных людей, позволявшее добыть мясную пищу.
5. Сверхъестественное существо, в которое верили первобытные люди; обитает в каждом человеке.
6. Самое крупное из животных, на которое охотились древние люди.
7. Рогатый зверь, которого часто изображали первобытные художники.
8. Оружие, которым ловили рыбу.
9. Занятие, позволявшее добыть в основном растительную пищу.

Ключевое слово – 1 балл. Максимум – 10 баллов.


3. На карте размещены стоянки первобытного человека. Запишите, на какой стоянке нашли останки родственной группы неандертальцев. Опишите, какими они были.



Ответ: Денисова пещера, Мачья

За верный ответ – 3 балла. За определение стоянки – 1 балл. За описание жилищ стоянки – 2 балла.

4. Внимательно рассмотрите изображения. (всего 5 баллов)



4.1. Выберите иллюстрацию, на которой изображен памятник, относящийся к так называемым «Семи Чудесам света».

Ответ: 6

За верный ответ – 1 балл

4.2. Выберите иллюстрацию, связанные с государством, в котором был создан приведённый объект культуры.



Ответ: 128523

За верный ответ – 1 балл. Максимум – 3 балла.

4.3. Прочитайте текст и выберите изображение, на котором запечатлён памятник, о повреждении которого идёт речь в тексте.

Долгожданным неизвестно, когда, когда были нанесены «увечья» данному памятнику культуры. По одной из версий, виной всему французский император Наполеон, приказавший расстрелять памятник из пушки. Впрочем, сохранились изображения памятника с «повреждениями», созданные ещё задолго до времён Наполеона. По версии авторов фильма Астерикс и Обеликс: Миссия Клеопатра, «повреждения» нанес Обеликс, когда нелегко задел часть памятника. Впрочем, последнее – лишь художественная интерпретация одной из загадок истории.

Ответ: 2

За верный ответ – 1 балл

5. Прочтите описание древнего учреждения и выберите термин, обозначающий учреждение с такими же функциями в наши дни.

Ассирийское царство известно не только за счёт большого числа успешных военных походов, но и за внимательное отношение к культуре. В столице царства, городе Ниневии, одним из царей было создано поистине выдающееся собрание глиняных табличек, более 20 тысяч. В таблицах содержались сведения по медицине, астрономии, математике и о многом другом. Таблички хранились в строгом порядке в соответствии с темой и областью древнего знания. В греческом языке такое собрание получило название, включающее слово «вестигище».

1. Библиотека
2. Музей
3. Склад
4. Древлехранилище
5. Галерея

Ответ: 1

18

За верный ответ – 1 балл

6. Согласны ли вы со следующими утверждениями? Ответы укажите в таблице.

Утверждение	Да	Нет
Нил был главной водной артерией Египта.	+	
Египетские письменные знаки назывались пиктограммами.		+
Материалом для письма в Междуречье была бумага.		+
Ворота богини Иштар находились в Вавилоне.	+	
Ассирийские войны считались лучшими в Древнем мире.	+	
В Персеполе находилась библиотека глиняных табличек.	+	
Ассирийцы были прекрасными мореплавателями.	+	
Финикийцам принадлежат открытие адроваита.		+
Персы основали колонии по берегам Средиземного моря.		+
Иерусалим стал столицей при царе Давиде.	+	
Главным пророком персов был Заратуштра.		+
Буддизм является одной из мировых религий.	+	
Главные реки Китая – Нил и Ганг.		+
В Индии был открыт порох.	+	
Китайцы использовали шелковые ткани.	+	

За верный ответ – 1 балл. Максимум – 15 баллов.

7. Выберите из списка название памятника культуры, о котором идёт речь в тексте.

По легенде, строительство этого памятника архитектуры началось в III в. до н.э., а отдельные части этого объекта были построены в XVII в. н.э. В строительстве памятника участвовало около 1 млн человек, десятки тысяч из которых погибли при строительстве. В настоящее время данный памятник является крупнейшим из созданных руками человека. В 2023 г. памятник пострадал от рук рабочих, решивших снести часть объекта, чтобы сократить путь до работы и избавиться от необходимости обходить постройку.

1. Коллизей
2. Пирамида Хеопса
3. Зимний дворец
4. Большой сфинкс
5. Великая Китайская стена
6. Терракотовая армия.

Ответ: 5

За верный ответ – 1 балл.

8. Ознакомьтесь с текстом и выберите верные суждения.

Когда царь подошёл к городу, вавилоняне бросились в бой, но, потерпев поражение, были отпеснены в город. Вавилонянам было уже заранее известно, что Кир теперь не будет бездействовать: они видели весь, как персидский царь напал на один народ за другим. Поэтому, запасшись продовольствием на очень много лет, они не обращали никакого внимания на осаду. Между тем Кир оказался в затруднительном положении, так как прошло уже много времени, а дело [осады] нисколько не подвигалось вперёд.


Наконец - другой ли кто поддал совет в затруднении или же сам Кир сообразил, как ему поступать, – но сделал он вот что. Он поставил часть своего войска в том месте, где река входит в город, а другую часть – ниже по течению, к её выходу из города. Затем он приказал воинам, как только увидят, что русло стало проходимым вброд, вступать по этому руслу в город. После этого сам царь с частью войск отступил. По прибытии к озеру, расположенному выше Вавилона, персидский царь отвёл реку с помощью канала в озеро, которое собственно, было болотом, а таким образом старое русло стало проходимым. После того как вода в реке стала настолько, что доходила людям приблизительно до колена, персы по старому руслу вошли в Вавилон. Теперь персы внезапно напали на вавилонян. Так-то Вавилон был взят тогда в первый раз.

1. Согласно тексту, осада города продолжалась несколько лет.
2. В тексте упоминается правитель, прозванный Великим.
3. Согласно тексту, в первом сражении вавилоняне одержали победу над персами.
4. В тексте упоминается город, в котором, согласно легенде, жители попытались построить опроманую башню до небес.
5. Согласно тексту, вавилоняне не ожидали нападения персов по старому руслу реки.
6. Захват Вавилона произошёл в результате первого военного похода под командованием Кира.
7. Жители Вавилона были заранее готовы к длительной осаде.
8. В тексте упоминается столица Ассирии.
9. Согласно тексту, в войске персов не было всадников.
10. Одержав победу персам удалось благодаря смекалке царя Кира.

Ответ: 5, 10, 6, 2

За каждый верный выбор – 2 балла. Максимум за задание – 10 баллов.

9. Рассмотрите герб Ханты-Мансийского автономного округа – Югры и выполните задание.



Животных-символов Ханты-Мансийского автономного округа — Югры несколько. На гербе Югры изображена мифическая двуглавая птица «Кат уххи вой», а самими животными, символизирующими регион, являются лоси и олени.

Ответ: лоси и олени

За верный ответ – 1 балл.



10. Рассмотрите плакат и дайте развернутый ответ на вопрос.



900 дней продолжалась блокада этого города. 8 мая 1965 года этот город получил статус города-героя, хотя впервые он был упомянут как город-герой в приказе от 1 мая 1945 года. Назовите город. Укажите название войны, когда этот город находился в блокаде. Укажите годы войны.

Ответ:

Ленинград, 1941-1945 Великая Отечественная

20

За каждый верный ответ – 1 балл. Максимум за задание – 3 балла.




5. Как называется Актин, которая проводится с целью сохранения в каждой российской семье памяти о солдатах Великой Отечественной войны.

Ответ - Актин памяти

8

VIII. Работа с иллюстративным материалом. Рассмотрите внимательно изображения зданий из истории древнего мира и напиши, как они назывались и в какой стране они находились; (по 1 баллу за каждый правильный ответ)


1.



Ответ Колонна (или Колонны, Рим, Римское строение, Рим,)


2

2.




Ответ Храм Аполлона

3



4.



Ответ

Ответ Ассирское государство

4

IX. Задание по истории родного края. (за правильный ответ 4 балла)

Какое почетное звание было присвоено г. Ханты-Мансийску президентом РФ В.В. Путиным 11 сентября 2023 года? Объясните, за что наш город был удостоен такого звания?

Ответ "Город трудовой доблести"

Город заслужил это звание после победы над фашистами в годы Великой Отечественной войны. Тогда наши жители проявили героизм и мужество.




5. Как называется Акива, которая проводится с целью сохранения в каждой российской семье памяти о солдатах Великой Отечественной войны.  
Ответ - \_\_\_\_\_


8

VIII. Работа с иллюстративным материалом. Рассмотрите внимательно изображения знаний из истории Древнего мира и напиши, как они назывались и в какой стране они находились: (по 1 баллу за каждый правильный ответ)

1.




2.




Ответ Коллизеум, Чичувал, Пизе. +1 -1

Ответ Пресса, фидеус, фидеус +1

3.



4.



Ответ \_\_\_\_\_

Ответ \_\_\_\_\_

4

IX. Задание по истории родного края. (за правильный ответ 4 балла)

Какое почетное звание было присвоено г. Ханты-Мансийску президентом РФ В.В. Путиным 11 сентября 2023 года? Объясните, за что наш город был удостоен такого звания?

Ответ \_\_\_\_\_

---

---

---

---

---

---

---

---




5. Как называется Азия, которая проводится с целью сохранения в каждой российской семье памяти о солдатах Великой Отечественной войны.


Ответ - ~~Ветер~~ Патриотический парк.

8  VIII. Работа с иллюстративным материалом. Рассмотрите внимательно изображения зданий из истории древнего мира и напишите, как они назывались и в какой стране они находились: (по 1 баллу за каждый правильный ответ)

1.





2.



Ответ Колоней, Рим, Италия, <sup>+2</sup>

Ответ Афинский, Греция, <sup>+2</sup>



3. Ответ Иерусалим <sup>-1</sup>

4. Ответ Стамбул <sup>-1</sup>

IX. Задаче по истории родного края. (за правильный ответ 4 балла)

4  Какое почетное звание было присвоено г. Ханты-Мансийску президентом РФ В.В.Путиным 11 сентября 2023 года? Объясните, за что наш город был удостоен такого звания?

Ответ Город трудовой доблести. Э.З.И. на, ТМД ХАНТИ-МАНСИЙСК город науки и молодежных талантов, и обеспечивающий всеобщее свет教育.

ИНФОР И 711

**В заданиях 1-3 дайте один верный ответ. Ответ внесите в таблицу.**

1. Прочитайте отрывок из летописи и определите, с каким княжеским следом он связан:

«Пришли Святополк и Владимир, и Давыд Игоревич, и Василько Ростиславич, и Давыд Святославич, и брат его Олег и собрались для устроения мира. И обратились к себе, говоря: «Зачем губим Русскую землю, сами на себя вражду воздвигаем, а половцы землю нашу терзают на части и радуются, что между нами войны и доньяне. С этого времени соединимся в одно сердце и будем охранять Русские земли. Пусть каждый держит вотчину свою...» и на этом целовал крест: «Если кто пойдет на кого, то на того будет все...»»

1) в Любече; 2) в Уветичах; 3) в Долобске; 4) в Киеве.

2. Укажите год, когда произошли события, описанные во фрагменте.

Для последнего приезда Карла были и другие причины. Дело в том, что римляне, принудили папу Льва молить короля о защите. Поэтому, отправившись в Рим, чтобы восстановить положение дел в церкви, пришедшее в полный беспорядок, он задержался там на всю зиму. Именно тогда он принял имя Императора и Августа, чего вначале совершенно не желал и утверждал, что если бы знал заранее о замысле папы, то в тот день не пошел бы в церковь, несмотря на то, что это был один из главных праздников, и с великим терпением он переносил зависть римских императоров, негодовавших на то, что он принял это звание. Их упорство Карл победил своим великодушием.

1) 476 2) 527 3) 800 4) 962

3. Прочитайте отрывок из описания историком одного из городов Древней Руси и укажите данный город:

«Сей северорусский город имел развитую торговлю с Ганзой, в нём имелись специально построенные гостиницы дворы для немецких и скандинавских купцов... Не раз город подвергался угрозе захвата, однако, даже полчища Батыя не решились осадить его...»

1) Вятка 2) Торжок 3) Новгород 4) Ярославль

1	2	3
<u>1</u>	<u>3</u>	<u>3</u>

Всего за задания 6 баллов.

1

65.

JKS.

**В заданиях 4-6 выберите несколько верных ответов из предложенных. Ответы внесите в таблицу.**

4. Какие из представленных ниже категорий населения, перечисленных в «Русской правде», относятся к зависимым?

1) закуп 2) рядович 3) отпищанин 4) холоп 5) волхв 6) дружинник

5. Какие из представленных ниже славянских племен жили на левом берегу р. Днепр?

1) Волыняне 2) Вятичи 3) Древляне 4) Дреговичи 5) Северяне 6) Радимичи

6. Какие из государств располагались на Пиренейском полуострове?

1) Эссеса 2) Кастилия 3) Арагон 4) Моравия 5) Ангиохия 6) Наварра

4	5	6
<u>1, 4, 2, 3, 6</u>	<u>2, 4, 5, 0, 5</u>	<u>2, 3, 6, 3, 5</u>

Всего за задания 9 баллов.

7. Расположите события в хронологической последовательности.

А) женитьба Ивана III на Софье Палеолог

Б) провозглашение Карла Великого императором

В) первая религиозная реформа князя Владимира

Г) начало войны Алой и Белой розы в Англии

Д) первое упоминание о Москве в летописи

Е) открытие Васко да Гамой морского пути в Индию

Ответ:

<u>Б</u>	<u>А</u>	<u>Д</u>	<u>В</u>	<u>Г</u>	<u>Е</u>
----------	----------	----------	----------	----------	----------

Всего за задание 6 баллов.

8. Что с исторической точки зрения объединяет перечисленные в ряду элементы? Дайте максимально точный ответ.

А) 1097г., 1100 г., 1102 г., 1103 г.

Б) Финифть, зернь, чернь, скань.

2

55.

Ответ:

а) Завоев Триумфализм 05

б) \_\_\_\_\_

Всего за задание 6 баллов.

9. В приведённом ниже перечне представлены события древнерусской истории. Сгруппируйте данные события, назвав год и записав номера произошедших в этот год событий в таблицу.

1) захват Киева Батысом

2) солнечное затмение, описанное в знаменитом литературном произведении

3) восшествие Владимира Мономаха на великокняжеский престол

4) разрушение Десятинной церкви

5) восстание посадского населения в Киеве

6) битва на реке Каяле

7) смерть Святополка Изяславовича

8) вхождение Волжской Булгарии в состав Золотой Орды

9) поход князя Игоря на половцев 05

Год	1113	1185	1240
Событие	3 <u>05</u>	69 <u>15</u>	148

По 2 балла за правильно указанный год; по 2 балла за правильное распределение. Всего за задание 12 баллов.

10. Прочитайте приведённый фрагмент и выберите все верные утверждения.

Выступил в поход Олег, взяв с собою много воинов: варягов, чудь, словен, мерю, весь, кривичей, и пришёл к Смоленску с кривичами, и принял власть в городе, и посадил в нём своего мужа. Оттуда отправился вниз, и взял Любеч, и также посадил мужа своего. И пришли к горам Киевским, и узнал Олег, что княжат тут Аскольд и Дир. Спрятав он одних воинов в ядьях, а других оставил позади, и сам приступил, неся младенца Игоря. И пошёл к Угорской горе, спрятав своих воинов, и послал к Аскольду и Диру, говоря им, что-де «мы купцы, идём в Греки от Олега и княжича Игоря. Придите к нам, к родичам своим». Когда же Аскольд и Дир пришли, выскочили все остальные из ладей, и сказали

Олег Аскольду и Диру: «Не князь вы и не княжеского рода, но я княжеского рода», и покаял Игорь: «А это сын Рюрика». И убили Аскольда и Дира, отнесли на гору и погребли. И сел Олег, князь, в Киеве, и сказал Олег: «Да будет это мать городам русским».

1. В тексте упомянуты восточнославянские племена.

2. В тексте упоминается город, в котором правил Рюрик.

3. Описанные в тексте события произошли в VIII веке.

4. Один из князей, упомянутых в тексте, получил прозвище «Вещий».

5. В результате упомянутых в тексте событий были крещены жители Киева.

6. В тексте упоминается населённый пункт, в котором был установлен принцип «каждый да держит отчину свою».

7. Один из князей, упомянутых в тексте, погиб при совершении полюдья.

Ответ: 1, 4, 6, 7 45

Максимум за задание – 4 балла.

11. Найдите в тексте 6 исторических ошибок:

Новогодний пир 31 декабря 1473 года царь Иван III готовился встречать Новый год. Столы в кремлевских палатах уже накрыты: лебеди, жаренные на серебряных блюдах, икра, кушнина с квасом. Жарко натоплены иррационные печи. Самогосударыня Софья отдаёт последние распоряжения слугам. Царь, задумавшись о чём-то своем, ежном, поглядывает в окно: на заснеженной Соборной площади многочисленные карсты бояр и князей съезжаются на пир к государю. Скоро, скоро пробьют часы на башне Кремля, и начнется новый год. А дела трудные. Тверь еще независима, от казанского наместника дурные вести идут. А завтра опять византийский посол явится...

1. Бываете декабрь - август 05

2. \_\_\_\_\_

3. \_\_\_\_\_

4. \_\_\_\_\_

5. \_\_\_\_\_

6. \_\_\_\_\_

За каждый правильный выбор – 1 балл. Максимум за задание – 6 баллов.

12. Определите пропущенные в тексте названия, слова, имена, даты, обозначенные порядковыми номерами. При необходимости при порядковых номерах даются пояснения о характере требуемой вставки. Необходимые вставки выпишите под соответствующими номерами в помещённую ниже таблицу.

Московский князь (1 – имя и отчество) начал править в (2) году в возрасте 9 лет после смерти его отца – (3 – имя и прозвище). Страшная эпидемия (4 – название болезни), известной как «чёрная смерть», бушевала в середине (5) века, затронула всю Европу и даже дошла до Северо-Восточных русских земель. В таких тяжёлых условиях молодому князю нужен был помощник, наставник и даже своего рода регент – им стал митрополит (6 – имя). Первостепенной задачей стало возвращение (7 – документ, подтверждающий право) на великое княжение, который смог забрать себе в Орде амбициозный князь (8 – имя и отчество), правивший в Нижнем Новгороде. Долгие дипломатические переговоры и даже (9 – термин, обозначающий войну между князьями) привели к возвращению великого княжения (1), а в знак окончания войны был заключён династический брак между (1) и дочерью (8) Евдокией.

Вставка	Номер в тексте
1359	2 +
1389	3 +
XIV	5 +
Алексий	6 +
Верь	7 +
Дмитрий Иванович	8 +
Дмитрий Константинович	9 +
Ивана Калиты	10 +
Ивана Красного (Иван Красный)	11 +
Иов	12 +
Междоусобица	13 +
Холера	14 +
Чума	15 +
Ярлык	16 +

По 1 баллу за каждую верную вставку. Максимум за задание – 9 баллов.


5

98


13. Перед Вами изображения знаменитых памятников архитектуры и список событий. Заполните таблицу: во вторую колонку таблицы запишите название изображённого архитектурного памятника, в Третью колонку таблицы запишите название государства, в котором соответствующий памятник был сооружён, в четвёртую – цифровое обозначение события, относящегося к истории этого государства. Обратите внимание на то, что в списке представлены лишние события.



А)




Б)




В)

6



Д



Д

- 1) монгольское завоевание
- 2) объединение Верхнего и Нижнего царств
- 3) борьба гвельфов и гибеллинов
- 4) битва при Каннах
- 5) марафонское сражение
- 6) правление царя Апоки

Буквенное обозначение архитектурных памятников	Название памятника	Название государства	Событие из истории государства
А	Рашидовский мавзолей	гвельфский Кинчон	4 -
Б	Кашивели	-	5 -
В	Лигешинская Хелма	гвельфский Бинчен	6 -
Г		гвельфский Гейуис	2 -
Д			3 -

Всего за задание 15 баллов.

Максимум за работу - 73 балла

70

Шифр 14715

В заданиях 1-3 дайте один верный ответ. Ответ внесите в таблицу.

1. Прочитайте отрывок из летописи и определите, с каким княжеским следом он связан:

«Пришли Святополк и Владимир, и Давыд Игоревич, и Василий Ростиславич, и Давыд Святославич, и брат его Олег и собрались для устроения мира. И обратились к себе, говоря: «Зачем губим Русскую землю, сами на себя вражду воздвигаем, а полонцы землю нашу терзают на части и разлучают, что между нами войны и доньяне. С этого времени соединимся в одно сердце и будем охранять Русские земли. Пусть каждый держит вотчину свою...» и на этом целовал крест: «Если кто пойдет на кого, то на того будет все...»»

1) в Любече; 2) в Увечицах; 3) в Долобске; 4) в Киеве.

2. Укажите год, когда произошли события, описанные во фрагменте:

Для последнего приезда Карла были и другие причины. Дело в том, что римляне, принудили папу Льва молить короля о защите. Поэтому, отправившись в Рим, чтобы восстановить положеие дел в церкви, пришедшее в полнейший беспорядок, он задержался там на всю зиму. Именно тогда он принял имя Императора и Августа, чего вначале совершенно не желал и утверждал, что если бы знал заранее о замысле папы, то в тот день не пошел бы в церковь, несмотря на то, что это был один из главных праздников, и с великим терпением он переносил зависть римских императоров, негодовавших на то, что он принял это звание. Их упорство Карл победил своим великодушием.

1) 476 2) 527 3) 800 4) 962

3. Прочитайте отрывок из описания историком одного из городов Древней Руси и укажите данный город:

«Сей северорусский город имел развитую торговлю с Ганзой, в нём имелись специально построенные гостиницы двора для немецких и скандинавских купцов... Не раз город подвергался угрозе захвата, однако, даже полчища Батя не решились осадить его...»

1) Вятка 2) Торжок 3) Новгород 4) Ярославль

1	2	3
<u>1)</u>	<u>2)</u>	<u>3)</u>

Всего за задания 6 баллов.

1

65.

32

В заданиях 4-6 выберите несколько верных ответов из предложенных. Ответы внесите в таблицу.

4. Какие из представленных ниже категорий населения, перечисленных в «Русской правде», относятся к зависимым?

1) закуп 2) рядович 3) огнищанин 4) холоп 5) волхв 6) дружинник

5. Какие из представленных ниже славянских племен жили на левом берегу р. Днепр?

1) Волыняне 2) Вятичи 3) Древляне 4) Дреговичи 5) Северяне 6) Радимичи

6. Какие из государств располагались на Пиренейском полуострове?

1) Эгесса 2) Кастилия 3) Арагон 4) Моравия 5) Англохия 6) Наварра

4	5	6
<u>1), 4)</u>	<u>3), 4)</u>	<u>2), 4), 5)</u>

Всего за задания 9 баллов.

7. Расположите события в хронологической последовательности.

А) женитьба Ивана III на Софье Палеолог

Б) провозглашение Карла Великого императором

В) первая религиозная реформа князя Владимира

Г) начало войны Алой и Белой розы в Англии

Д) первое упоминание о Москве в летописи

Е) открытие Васко да Гамой морского пути в Индию

Ответ:

<u>Б</u>	<u>Г</u>	<u>В</u>	<u>Д</u>	<u>А</u>	<u>Е</u>
----------	----------	----------	----------	----------	----------

Всего за задание 6 баллов.

8. Что с исторической точки зрения объединяет перечисленные в ряду элементы? Дайте максимально точный ответ.

А) 1097г., 1100 г., 1102 г., 1103 г.

Б) Финифть, зерно, чернь, скань.

2

65.

Ответ:

А) *Дерева русиши лидези с ноловадеши*

Б) *Востанисе посалеского населениа в Киеве* **08**

Всего за задание 6 баллов.

9. В приведённом ниже перечне представлены события древнерусской истории. Сгруппируйте данные события, назвав год и записав номера произошедших в этот год событий в таблицу.

1) захват Киева Батльем

2) солнечное затмение, описанное в знаменитом литературном произведении

3) восшествие Владимира Мономаха на великокняжеский престол

4) разрушение Десятинной церкви

5) восстание посалеского населения в Киеве

6) битва на реке Каяле

7) смерть Святополка Изяславовича

8) вхождение Волжской Булгарии в состав Золотой Орды

9) поход князя Игоря на половцев

Год	1397	988	947
Событие	<i>Востанисе посалеского населениа в Киеве</i>	<i>Крещисе Русии</i>	<i>Смерть Деряге</i>

По 2 балла за правильно указанный год; по 2 балла за правильное распределение.

Всего за задание 12 баллов.

10. Прочитайте приведённый фрагмент и выберите все верные утверждения.

Выступил в поход Олег, взяв с собою много воинов: варягов, чудь, словен, мерю, весь, кривичей, и пришёл к Смоленску с кривичами, и принял власть в городе, и посадил в нём своего мужа. Оттуда отправился вниз, и взял Любеч, и также посадил мужа своего. И пришёл к горам Киевским, и узнал Олег, что княжат тут Аскольд и Дир. Спрятав он одних воинов в ладьях, а других оставил позади, и сам приступил, неся младенца Игоря. И пошёл к Угорской горе, спрятав своих воинов, и послал к Аскольду и Дирю, говоря им, что-де «мы купцы, идём в Греки от Олега и княжича Игоря. Придите к нам, к родичам своим». Когда же Аскольд и Дир пришли, выскочили все остальные из ладей, и сказали

3

Олег Аскольду и Дирю: «Не князья вы и не княжеского рода, но я княжеского рода», и показал Игоря: «А это сын Рюрика». И убили Аскольда и Диру, отнесли на гору и погребли. И сел Олег, княжа, в Киеве, и сказал Олег: «Да будет это мать городам русским».

1. В тексте упомянуты восточнославянские племена.

2. В тексте упоминается город, в котором правил Рюрик.

3. Описанные в тексте события произошли в VIII веке.

4. Один из князей, упомянутых в тексте, получил прозвище «Вещий».

5. В результате упомянутых в тексте событий были креплены жители Киева.

6. В тексте упоминается населённый пункт, в котором был установлен принцип «жидкий да держит огню своим».

7. Один из князей, упомянутых в тексте, погиб при совершении полюдья.

Ответ: *1, 2, 4, 5, 7*

Максимум за задание – 4 балла.

11. Найдите в тексте 6 исторических ошибок:

Новогодний пир 31 декабря 1473 года царь Иван III готовился встречать Новый год. Стоны в кремлевских палатах уже накрыты: лебеди, жаренные на серебряных блюдах, икра, кушнина с квасом. Жарко натоплены изразцовые печи. Саматосударяня Софья отдаёт последние распоряжения слугам. Царь, задумавшись о чём-то своём, вежном, подглядывает в окно: на заснеженной Соборной площади многочисленные кареты бояр и князей съезжаются на пир к государю. Скоро, скоро пробьют часы на башне Кремля, и начнется новый год. А дела трудные. Тверь еще независима, от казанского наместника дурные вести идут. А завтра опять византийский посол явится...

1. *31 декабря* **+**

2. *Икра* **+**

3. *саматосударяня*

4. *лебедь*

5. *Марк Кингсменго*

**25**

4

6. История Великого княжества

За каждый правильный выбор – 1 балл. Максимум за задание – 6 баллов.

12. Определите пропущенные в тексте названия, слова, имена, даты, обозначенные порядковыми номерами. При необходимости при порядковых номерах даются пояснения о характере требуемой вставки. Необходимые вставки выпишите под соответствующими номерами в помещённую ниже таблицу.



Московский князь (1 – имя и отчество) начал править в (2) году в возрасте 9 лет после смерти его отца – (3 – имя и прозвище). Страшная эпидемия (4 – название болезни), известной как «чёрная смерть», бушевавшая в середине (5) века, затронула всю Европу и даже дошла до Северо-Восточных русских земель. В таких тяжёлых условиях молодому князю нужен был помощник, наставник и даже своего рода регент – им стал митрополит (6 – имя). Первоостепенной задачей стало возвращение (7 – документ, подтверждающий право) на великое княжение, который смог забрать себе в Орде амбициозный князь (8 – имя и отчество), правивший в Нижнем Новгороде. Долгие дипломатические переговоры и даже (9 – термин, обозначающий войну между князьями) привели к возвращению великого княжения (1), а в знак окончания войны был заключён династический брак между (1) и дочерью (8) Евдокией.


Вставка	Номер в тексте
1359	2) +
1389	
XIV	5) +
Алексий	6) +
Всравь	
Дмитрий Иванович	
Дмитрий Константинович	
Ивана Калиты	3) +
Ивана Красного (Иван Красный)	1) -
Иов	8) -
Междоусобица	9) +
Холера	
Чума	4) +
Ярлык	7) +

По 1 баллу за каждую верную вставку. Максимум за задание – 9 баллов.


TS

13. Перед Вами изображения знаменитых памятников архитектуры и список событий. Заполните таблицу: во вторую колонку таблицы запишите название изображённого архитектурного памятника, в третью колонку таблицы запишите название государства, в котором соответствующий памятник был сооружён, в четвёртую – цифровое обозначение события, относящегося к истории этого государства. Обратите внимание на то, что в списке представлены лишние события.





Д



Д

- 1) монгольское завоевание
- 2) объединение Верхнего и Нижнего царств
- 3) борьба гвельфов и гибеллинов
- 4) битва при Каннах
- 5) марафонское сражение
- 6) правление царя Ашоки

Буквенное обозначение архитектурных памятников	Название памятника	Название государства	Событие из истории государства
А	Религиозный памятник	Китай	1) +
Б	Кавказ	Византизм	4) +
В	Крестовые походы	Византизм	6) -
Г	Крестовые походы	Византизм	5) -
Д		Византизм	2) -

Всего за задание 15 баллов.

Максимум за работу - 73 балла

88

29

ШИФР И 712

В заданиях 1-3 дайте один верный ответ. Ответ внесите в таблицу.

1. Прочитайте отрывок из летописи и определите, с каким княжеским сызлом он связан:

«Пришли Святополк и Владимир, и Давыд Игоревич, и Василько Ростиславич, и Давыд Святославич, и брат его Олег и собрались для устроения мира. И обратились к себе, говоря: «Зачем губим Русскую землю, сами на себя вражду воздвигаем, а половья землю нашу терзают на части и радуются, что между нами войны и дичине. С этого времени соединимся в одно сердце и будем охранять Русские земли. Пусть каждый держит вотчину свою...» и на этом неговал крест: «Если кто пойдет на кого, то на того будет все...»»

Ⓐ в Любече; 2) в Уветичах; 3) в Долобске; 4) в Киеве.

2. Укажите год, когда произошли события, описанные во фрагменте:

Для последнего приезда Карла были и другие причины. Дело в том, что римляне, принудили папу Льва молить короля о защите. Поэтому, отправившись в Рим, чтобы восстановить положеение дел в церкви, пришедшее в полный беспорядок, он задержался там на всю зиму. Именно тогда он принял имя Императора и Августа, чего вначале совершенно не желал и утверждал, что если бы знал заранее о замысле папы, то в тот день не пошел бы в церковь, несмотря на то, что это был один из главных праздников, и с великим терпением он переносил зависть римских императоров, недовавших на то, что он принял это звание. Их упорство Карл победил своим великодушием.

1) 476 2) 527 3) 800 4) 962

3. Прочитайте отрывок из описания историком одного из городов Древней Руси и укажите данный город:

«Сей северорусский город имел развитую торговлю с Ганзой, в нём имелись специально построенные гостиные дворы для немецких и скандинавских купцов... Не раз город подвергался угрозе захвата, однако, даже полчища Батыя не решились осадить его...»

1) Вятка 2) Торжок 3) Новгород 4) Ярославль

1	2	3
1	4	3

Всего за задания 6 баллов.

1

48

В заданиях 4-6 выберите несколько верных ответов из предложенных. Ответы внесите в таблицу:

4. Какие из представленных ниже категорий населения, перечисленных в «Русской правде», относятся к зависимым?

1) закуп 2) рядович 3) огнищанин 4) холоп 5) волхв 6) дружинник

5. Какие из представленных ниже славянских племён жили на левом берегу р. Днепр?

1) Волыняне 2) Витичи 3) Дреговичи 4) Северяне 6) Радимичи

6. Какие из государств располагались на Пиренейском полуострове?

1) Эвесса 2) Кастилия 3) Арагон 4) Моравия 5) Англохия 6) Наварра

4	5	6
1, 4, 6	1, 5	2, 3, 5, 1, 5

Всего за задания 9 баллов.

35

7. Расположите события в хронологической последовательности.

А) женитьба Ивана III на Софье Палеолог

Б) провозглашение Карла Великого императором

В) первая религиозная реформа князя Владимира

Г) начало войны Анло и Белой розы в Англии

Д) первое упоминание о Москве в летописи

Е) открытие Васко да Гамой морского пути в Индию

Ответ:

г	а	е	б	д	в
---	---	---	---	---	---

Всего за задание 6 баллов.

08

8. Что с исторической точки зрения объединяет перечисленные в ряду элементы? Дайте максимально точный ответ.

А) 1097 г., 1100 г., 1102 г., 1103 г.

Б) Финифть, зернь, чернь, скань.

2

Ответ:

А) орда воюет +

25

Б) набежавшие тюрки напали на Киев

Всего за задание 6 баллов.

9. В приведённом ниже перечне представлены события древнерусской истории. Сгруппируйте данные события, назвав год и записав номера произошедших в этот год событий в таблицу.

1) захват Киева Батыем

2) солнечное затмение, описанное в знаменитом литературном произведении

3) восшествие Владимира Мономаха на великокняжеский престол

4) разрушение Десятинной церкви

5) восстание посадского населения в Киеве

6) битва на реке Каяле

7) смерть Святополка Изяславовича

8) вхождение Волжской Булгарии в состав Золотой Орды

9) поход князя Игоря на половцев

15

Год		
Событие	3, 4, 5, 18	1, 7, 8, 9, 4, 6

По 2 балла за правильно указанный год; по 2 балла за правильное распределение. Всего за задание 12 баллов.

10. Прочитайте приведённый фрагмент и выберите все верные утверждения.

Выступил в поход Олег, взяв с собою много воинов: варягов, чудь, словен, мерю, весь, кривичей, и пришёл к Смоленску с кривичами, и принял власть в городе, и посадил в нём своего мужа. Оттуда отправился вниз, и взял Любеч, и также посадил мужа своего. И пришли к горам Киевским, и узнал Олег, что княжат тут Аскольд и Дир. Спрятав он одних воинов в лядях, а других оставил позади, и сам приступил, неся младенца Игоря. И подплыл к Угорской горе, спрятав своих воинов, и послал к Аскольду и Диру, говоря им, что-де «мы купцы, идём в Греки от Олега и княжича Игоря. Препишите к нам, к родичам своим». Когда же Аскольд и Дир пришли, высочинили все остальные из лядей, и сказа

Олег Аскольду и Диру: «Не князь вы и не княжеского рода, но я княжеского рода», и показал Игоря: «А это сын Рюрика». И убили Аскольда и Дира, отнесли на гору и погребли. И сел Олег, князь, в Киеве, и сказал Олег: «Да будет это мать городам русским».

1. В тексте упомянуты восточнославянские племена.

2. В тексте упоминается город, в котором правил Рюрик.

3. Описанные в тексте события произошли в VIII веке.

4. Один из князей, упомянутых в тексте, получил прозвище «Вещий».

5. В результате упомянутых в тексте событий были крещены жители Киева.

6. В тексте упоминается населённый пункт, в котором был установлен принцип «защлы да держит огнью свою».

7. Один из князей, упомянутых в тексте, погиб при совершении полюдья.

Ответ: 4, 7, 8 25

Максимум за задание — 4 балла.

11. Найдите в тексте 6 исторических ошибок:

Новогодний пир 31 декабря 1473 года царь Иван III готовился встречать Новый год. Столы в кремлевских палатах уже накрыты: лебеди, жаренные на серебряных блюдах, икра, кушнина с квасом. Жарко натоплены ирразиловые печи. Самогосударыня Софья отдаёт последние распоряжения слугам. Царь, задумавшись о чем-то своем, ежном, поглядывает в окно: на заснеженной Соборной площади многочисленные кареты бояр и князей съезжаются на пир к государю. Скоро, скоро пробьют часы на башне Кремля, и начнется новый год. А дела трудные. Тверь еще независима, от казанского наместника дурные вести идут. А завтра опять византийский посол явится...

1. Новый год марада не отмечают + 15

2. Кривичие не были

3. царь не был 15

4. Тверь уже была захвачена

5. Иван III не пробыл в 1473 г.

6. Вероят еще не было 18 36

За каждый правильный выбор – 1 балл. Максимум за задание – 6 баллов.

12. Определите пропущенные в тексте названия, слова, имена, даты, обозначенные порядковыми номерами. При необходимости при порядковых номерах даются пояснения о характере требуемой вставки. Необходимые вставки впишите под соответствующими номерами в помещённую ниже таблицу.



Московский князь (1 – имя и отчество) начал править в (2) году в возрасте 9 лет после смерти его отца – (3 – имя и прозвище). Страшная эпидемия (4 – название болезни), известной как «чёрная смерть», бушевала в середине (5) века, затронула всю Европу и даже дошла до Северо-Восточных русских земель. В таких тяжёлых условиях молодому князю нужен был помощник, наставник и даже своего рода регент – им стал митрополит (6 – имя). Первоотечественной задачей стало возвращение (7 – документ, подтверждающий право) на великое княжение, который смог забрать себе в Орде амбициозный князь (8 – имя и отчество), правивший в Нижнем Новгороде. Долгие дипломатические переговоры и даже (9 – термин, обозначающий войну между князьями) привели к возвращению великого княжения (1), а в знак окончания войны был заключён династический брак между (1) и дочерью (8) Евдокией.


Вставка	Номер в тексте
1359	2 +
1389	
XIV	5 +
Алексий	6 +
Вера	
Дмитрий Иванович	1 +
Дмитрий Константинович	8
Ивана Капиты	3 -
Ивана Красного (Иван Красный)	8 -
Иов	
Междоусобица	9 +
Холера	
Чума	4 +
Ярлык	7 +

По 1 баллу за каждую верную вставку. Максимум за задание – 9 баллов.


15

13. Перед Вами изображения знаменитых памятников архитектуры и список событий. Заполните таблицу: во вторую колонку таблицы запишите название изображённого архитектурного памятника, в третьей колонке таблицы запишите название государства, в котором соответствующий памятник был сооружён, в четвёртую – цифровое обозначение события, относящегося к истории этого государства. Обратите внимание на то, что в списке представлены лишние события.





Д



Д

- 1) монгольское завоевание
- 2) объединение Верхнего и Нижнего царств
- 3) борьба гвельфов и гибеллинов
- 4) битва при Каннах
- 5) марфонское сражение
- 6) правление царя Апоки

Буквенное обозначение архитектурных памятников	Название памятника	Название государства	Событие из истории государства
А	Китайская стена +	Китай +	2 -
Б	Коллеи + Терминада	Италия +	5 -
В	Египет +	Египет +	6 -
Г	Радия +	Радия +	4 -
Д	Орда -	Орда -	1 -

Всего за задание 15 баллов.

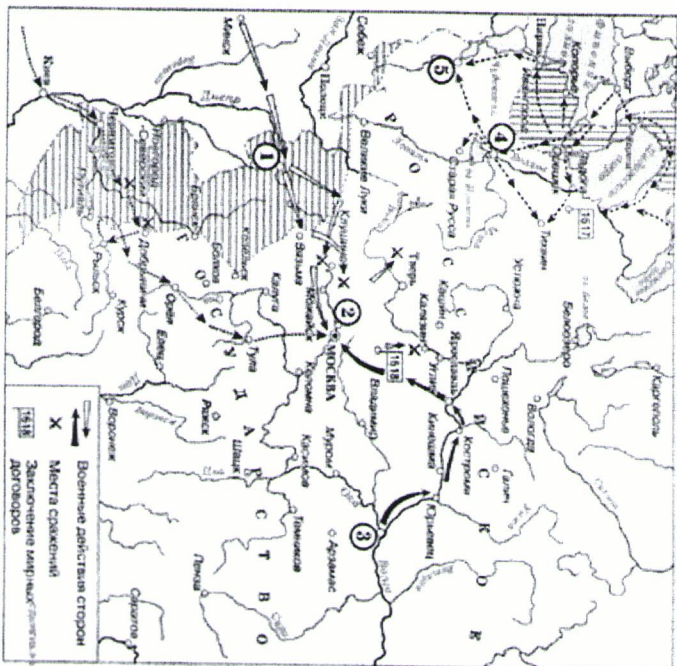
Максимум за работу - 73 балла

65



Критерии оценивания: за каждый верный ответ (за пару) - 1 балл, всего - 10 баллов.



Задание № 6. Ответьте на вопросы к исторической карте, данные ниже



1. Укажите название исторического периода, когда произошли события, изображенные на карте?
2. Назовите объекты, представленные на карте под цифрами 1, 3 и 5
3. Назовите любые 2 исторические личности, связанные с данным событием
4. Укажите название мирных договоров и государств с какими эти договоры были подписаны

Критерии оценивания: за каждый верный ответ - 1 балл, всего - 10 баллов.

Задание № 7. Внимательно рассмотрите изображения и выполните задания.



7. Запишите названия населенных пунктов, гербы которых представлены на изображениях. За каждый правильный ответ - 1 балл, всего - 6 баллов.

Ответ:

А	Б	В	Г	Д	Е
Древнерусские	Ивановичи	Сельдусские	Ханьин-Яки		Сургуты

Задание № 8. Выберите один правильный ответ. Выпишите ответы в таблицу.

8.1. В каком памятнике древнерусской литературы впервые упоминается народ «вогря»?  
 а) «Слово о полку Игореве» б) «Повесть временных лет» в) «Хожение за три моря»

8.2. В период какого русского царя был основан город Сургут?  
 а) Иван IV Васильевич б) Федор Иоаннович в) Борис Годунов

8.3. На месте какого югорского княжества был основан Сургутский острог?  
 а) Пелымское княжество б) Казымское княжество в) Бардаково княжество

8.1.	8.2.	8.3.
б) —	а) —	а) —

Критерии оценивания: за каждый верный ответ - 1 балл, всего - 3 балла.

Задание № 9

Расставьте выдержки из документов в хронологической последовательности. Выпишите ответы в таблицу.

А. «Ставка Верховного Главнокомандования приказывает:

Войскам фронта продолжать наступление в общем направлении на Дойтин-Абду, Марленбург и не позднее 2 - 4 февраля овладеть русским Эпльбинг. Марсенбург, далее на юг р. Висла. Торн, пресая

противнику все пути из Восточной Пруссии в Центральную Германию. По выходе на р. Висла захватить плацдармы на западном её берегу к северу от Торн. Одновременно правым крылом фронта овладеть рубежом Иоганнесбург, Алленштайн, Эльбинг.

Б. «После потери Украины, Белоруссии, Прибалтики, Донбаса и других областей у нас стало меньше территории. Стало битв, стало меньше людей, хлеба, металла, заводов, фабрик... У нас нет уже теперь преобладания над немцами ни в людских резервах, ни в запасах хлеба. Отступать дальше — значит загубить себя и загубить вместе с тем нашу Родину. Из этого следует, что пора кончать отступление. Отныне железным законом дисциплины для каждого командира, красноармейца, политработника должно выступать требование: ни шагу назад без приказа высшего командования. Командиры роты, батальона, полка, дивизии, соответствующие комиссары и политработники, отсутствующие с боевых позиций без приказа слыше, являются предателями Родины. С такими командирами и политработниками и поступать надо как с предателями Родины. Таков приказ нашей Родины».

В. «В течение последних дней под Киевом идут ожесточённые бои. Фашистско-немецкие войска, не считаясь с огромными потерями людьми и вооружением, бросают в бой всё новые и новые части. На одном из участков Киевской обороны противнику удалось прорвать наши укрепления и выйти к окрестностям города. Ожесточённые бои продолжаются...

В течение 21 сентября наши войска вели бои с противником на всём фронте. После многодневных, ожесточённых боёв наши войска оставили Киев. Ожесточённая борьба на Киевском фронте продолжается. Несомненно, что у немецких захватчиков имеется здесь преобладающие сил. Чем кончится эта борьба, пока трудно сказать».

Г. «Каждый шаг, каждый кусок земли, каждый камень здесь явнее всяких слов свидетельствовал, что на подступах к имперской канцелярии и рейхстагу, в самых этих зданиях Борьба шла не на жизнь, а на смерть. Рейхстаг — это громаднейшее здание, стены которого артиллерией средних калибров не пробьешь. Тут нужны были тяжёлые калибры. Купол рейхстага и различные массивные верхние надстройки давали возможность врагу сосредоточить многоослойный огонь на всех подступах. Условия для борьбы в самом рейхстаге были очень тяжёлые и сложные. Они требовали от бойцов не только мужества, но и мгновенной ориентировки, зоркой осторожности, быстрых перемены от укрытия к укрытию и метких выстрелов по врагу».

Со всеми этими задачами наши бойцы хорошо справились, но многие в тяжёлых боях пали смертью храбрых».

Д. «На личной карте Паулюса этот дом (на площади 9 Января) был отмечен как крепость. Планские немецкие разведчики считали, что его обороняет батальон. Об этом доме узнала сначала наша армия, потом вся страна и, наконец, весь мир. На его защитников равнялась, как в строю, вся дивизия, о нём слагались песни и легенды».

Как это ни странно, но это четырёхэтажное жилище здание, выстроенное не из какого-либо несокрушимого материала, а из обыкновенной глины, дерева и кирпича, оказавшееся вообще малозастойчивым, вполне заслуживало того, что о нём писали или рассказывали.

Да, это был «дом-крепость», его обороняли бойцы, каждый из которых стоил целого отряда, а то и взвода противника, и слава о них не померкнет в веках».

1	2	3	4	5
01	81	81	01	21

Критерии оценивания: за каждый верный ответ - 3 балла, всего - 15 баллов.

Задание № 10. Дайте правильный ответ. Впишите ответы в таблицу.

10.1. Мероприятия советского руководства в первый месяц войны:

а) создание ГКО б) массовое производство «Катюш» в) завершение перестройки на военный лад

10.2. Положение приказа № 227 от 28 июля 1942г:

а) присвоение звания Героя Советского Союза б) создание штрафных батальонов в) создание санитарных поездов

10.3. Причины «коренного перелома» в Великой Отечественной войне:

а) открытие 2-ого фронта б) завершение перехода экономики на военный лад в) государственный переворот в Японии

10.4. Как называется немецкий стратегический план захвата Москвы:

а) «Италия» б) «Уран» в) «Тайфун» г) «Барбаросса»

10.5. Запишите, какие имя и фамилия зашифрованы в названии советского талка «ИС»?

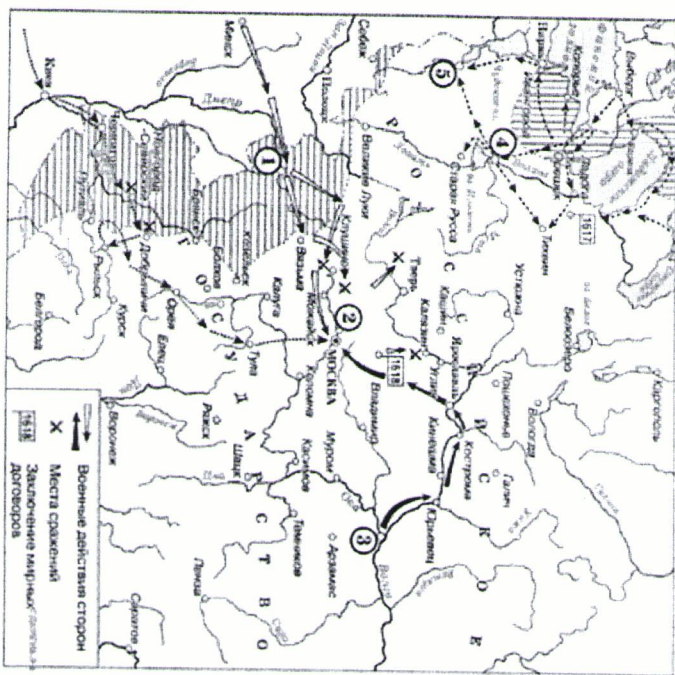
10.1	10.2	10.3	10.4	10.5.
а)	б)	в)	г)	Иван Сурков

Критерии оценивания: за каждый верный ответ - 2 балла, всего - 10 баллов.



Критерии оценивания: за каждый верный ответ (за пару) - 1 балл, всего - 10 баллов.

Задание № 6. Ответьте на вопросы к исторической карте, данные ниже



1. Укажите название исторического периода, когда произошли события, изображенные на карте?


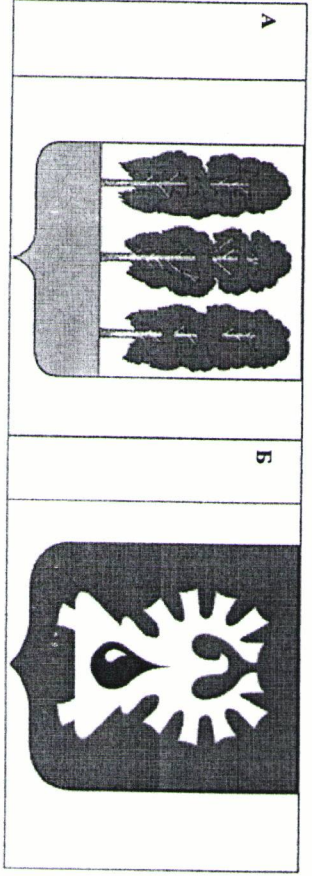
2. Назовите объекты, представленные на карте под цифрами 1, 3 и 5

3. Назовите любые 2 исторические личности, связанные с данными событиями

4. Укажите название мирных договоров и государств с какими эти договора были подписаны

Критерии оценивания: за каждый верный ответ 1 балл, всего - 10 баллов.

Задание № 7. Внимательно рассмотрите изображения и выполните задания.



7. Запишите названия населенных пунктов, гербы которых представлены на изображениях. За каждый правильный ответ - 1 балл, всего - 6 баллов.

Ответ:

А	Б	В	Г	Д	Е
Коростень	Ужгород		Великий Новгород		Волынь

Задание № 8. Выберите один правильный ответ. Впишите ответ в таблицу.

8.1. В каком памятнике древнерусской литературы впервые упоминается народ «когря»?

а) «Слово о полку Игореве» б) «Повесть временных лет» в) «Хожение за три моря»

8.2. В период какого русского царя был основан город Сургут?

а) Иван IV Васильевич б) Федор Иоаннович в) Борис Годунов

8.3. На месте какого югорского княжества был основан Сургутский острог?

	8.1.	8.2.	8.3.
Критерии оценивания: за каждый верный ответ - 1 балл, всего - 3 балла.	б	а	б

Задание № 9

Расставьте выдержки из документов в хронологической последовательности. Впишите ответы в таблицу.

А. «Ставка Верховного Главнокомандования приказывает:

Войскам фронта продолжать наступление в общем направлении на Дойтль-Айтау. Мариненбург и не позднее 2 - 4 февраля овладеть рубежом Эльбинг, Мариненбург, далее на юг р. Висла, Торн, пресая

противнику все пути из Восточной Пруссии в Центральную Германию. По выходе на р. Висла захватить плацдармы на западном её берегу к северу от Торн. Одновременно правым крылом фронта овладеть рубежом Иоганнесбург, Алпештайт, Эльбинг.

**Б.** «После потери Украины, Белоруссии, Прибалтики, Донбаса и других областей у нас стало меньше территории. Стало быть, стало меньше хлеба, металла, заводов, фабрик... У нас нет уже теперь преобладания над немцами ни в людских резервах, ни в запасах хлеба. Отступать дальше – значит загубить себя и загубить вместе с тем нашу Родину. Из этого следует, что пора кончать отступление. Огненные железным законом дисциплины для каждого командира, красноармейца, политработника должны являться требование: ни шагу назад без приказа высшего командования. Командиры роты, батальона, полка, дивизии, соответствующие комиссары и политработники, отступающие с боевых позиций без приказа свыше, являются предателями Родины. С такими командирами и политработниками и поступать надо как с предателями Родины. Таков приказ нашей Родины!».

**В.** «В течение последних дней под Киевом идут ожесточённые бои. Фашистско-немецкие войска, не считаясь с огромными потерями людьми и вооружением, бросают в бой всё новые и новые части. На одном из участков Киевской обороны противнику удалось прорвать наши укрепления и выйти к окраине города. Ожесточённые бои продолжаются...

В течение 21 сентября наши войска вели бои с противником на всём фронте. После многодневных, ожесточённых боев наши войска оставили Киев. Ожесточённая борьба на Киевском фронте продолжается. Несомненно, что у немецких захватчиков имеется здесь преобладание сил. Чем кончится эта борьба, пока трудно сказать».

**Г.** «Каждый шаг, каждый кусок земли, каждый камень здесь явнее всяких слов свидетельствовал, что на подступах к имперской канцелярии и рейхстагу, в самых этих зданиях борьба шла не на жизнь, а на смерть. Рейхстаг — это громаднейшее здание, стены которого артиллерией средних калибров не пробьешь. Тут нужны были тяжёлые калибры. Купол рейхстага и различные массивные верхние надстройки давали возможность врагу сосредоточить многооснойный огонь на всех подступах. Условия для борьбы в самом рейхстаге были очень тяжёлые и сложные. Они требовали от бойцов не только мужества, но и мгновенной ориентировки, зоркой осторожности, быстрых перемещений от укрытия к укрытию и метких выстрелов по врагу».

Со всеми этими задачами наши бойцы хорошо справились, но многие в тяжёлых боях пали смертью храбрых».

**Д.** «На личной карте Паулюса этот дом (на площади 9 Января) был отмечен как крепость. Плменные немецкие разведчики считали, что его обороняет батальон. Об этом доме узнала сначала наша армия, потом вся страна и, наконец, весь мир. На его защитников равнялась, как в строю, вся дивизия, о нём складывались песни и легенды».

Как это ни странно, но это четырёхэтажное жилое здание, выстроенное не из какого-либо несокрушимого материала, а из обыкновенной глины, дерева и кирпича, оказавшееся вообще малозаметным, вполне заслуживало того, что о нём писали или рассказывали.

Да, это был «дом-крепость», его обороняли бойцы, каждый из которых стоял цепного отделения, а то и взвода противника, и слава о них не померкнет в веках».

Критерии оценивания: за каждый верный ответ - 3 балла, всего - 15 баллов.

1	2	3	4	5
B+	B+	B+	A+	B+

**Задание № 10. Дайте правильный ответ. Впишите ответы в таблицу.**

**10.1.** Мероприятия советского руководства в первый месяц войны:

а) создание ГКО б) массовое производство «Катюш» в) завершение перестройки на военный лад  
10.2. Подписание приказа № 227 от 28 июля 1942г:

а) приравнение звания Героя Советского Союза б) создание штрафных батальонов  
в) создание санитарных поездов  
10.3. Причины «коренного перелома» в Великой Отечественной войне:

а) открытие 2-ого фронта б) завершение перехода экономики на военный лад  
в) государственный переворот в Японии

10.4. Как называется немецкий стратегический план захвата Москвы:

а) «Игальель» б) «Уран» в) «Тайфун» г) «Барбаросса»

10.5. Запишите, какие имя и фамилия зашифрованы в названии советского танка «ИС»?

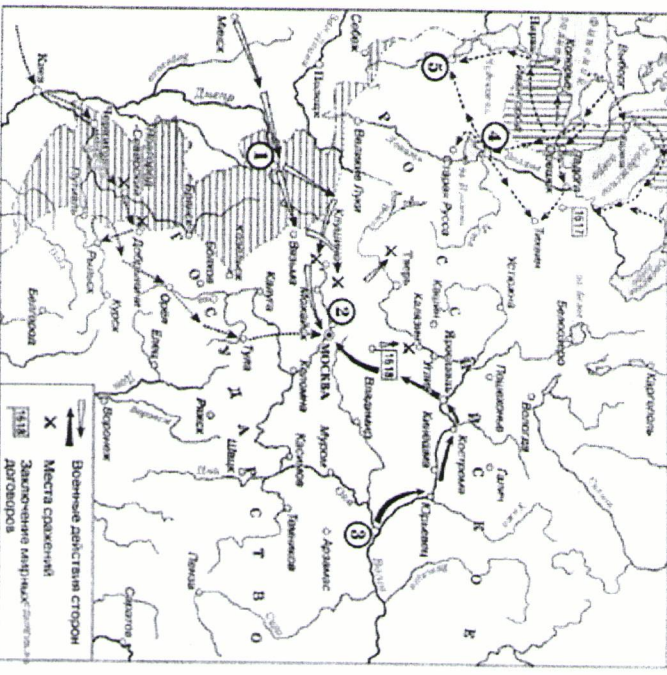
10.1	10.2	10.3	10.4	10.5.
B	а	б	а	Исхор Суховин

Критерии оценивания: за каждый верный ответ - 2 балла, всего - 10 баллов.



Критерии оценивания: за каждый верный ответ (за пар) - 1 балл, всего - 10 баллов.


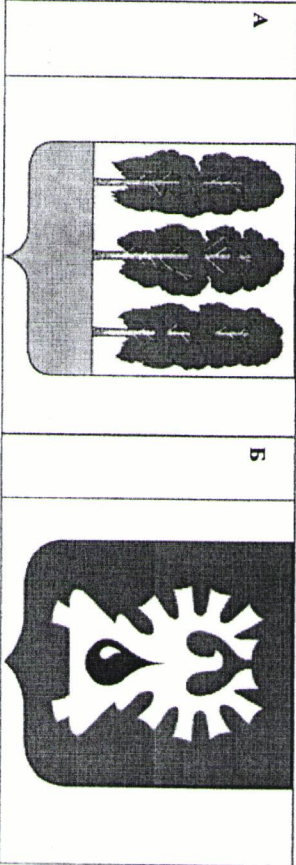
Задание № 6. Ответьте на вопросы к исторической карте, данные ниже



1. Укажите название исторического периода, когда произошли события, изображенные на карте?  
*Вечный мир*
2. Назовите объекты, представленные на карте под цифрами 1, 3 и 5  
*1 - Дельта Святого Иова, 3 - Финляндия, 5 - Ливония*
3. Назовите любые 2 исторические личности, связанные с данным событием  
*Шарль де Вальдемар, Императрица II*
4. Укажите название мирных договоров и государств с какими эти договоры были подписаны  
*Крутецкий мирный договор - 1 балл, всего - 10 баллов.*

Критерии оценивания: за каждый верный ответ - 1 балл, всего - 10 баллов.

Задание № 7. Внимательно рассмотрите изображения и выполните задания.



7. Запишите названия населенных пунктов, гербы которых представлены на изображениях. За каждый правильный ответ - 1 балл, всего - 6 баллов.

А	Б	В	Г	Д	Е
		<i>Волынь</i>	<i>Вятка - Давыдовск</i>		

Задание № 8. Выберите один правильный ответ. Выпишите ответы в таблицу.

- 8.1. В каком памятнике древнерусской литературы впервые упоминается народ «отра»?  
а) «Слово о полку Игореве» б) «Повесть временных лет» в) «Хожение за три моря»
- 8.2. В период какого русского царя был основан город Сургут?  
а) Иван IV Васильевич б) Федор Иванович в) Борис Годунов
- 8.3. На месте какого югорского княжества был основан Сургутский острог?  
а) Пельшское княжество б) Казыньское княжество в) Бардаково княжество

8.1.	8.2.	8.3.

Критерии оценивания: за каждый верный ответ - 1 балл, всего - 3 балла.

Задание № 9

Расставьте выдержки из документов в хронологической последовательности. Выпишите ответы в таблицу.

- А. «Ставка Верховного Главнокомандования приказывает:  
Войскам фронта продолжать наступление в общем направлении на Дюптин-Айгау, Мариненбург и не позднее 2 - 4 февраля овладеть русским Эльбинг, Мариненбург, далее на юг р. Висла, Торн, пресая

противнику все пути из Восточной Пруссии в Центральную Германию. По выходе на р. Висла захватить плацдармы на западном её берегу к северу от Торн. Одновременно правым крылом фронта овладеть рубежом Иоганнебург, Алпештайн, Эльбинг.

Б. «После потери Украины, Белоруссии, Прибалтики, Донбасса и других областей у нас стало меньше территории. Стало быть, стало меньше людей, хлеба, металла, заводов, фабрик... У нас нет уже теперь преобладающая над немцами ни в людских резервах, ни в запасах хлеба. Отступать дальше — значит заубить себя и заубить вместе с тем нашу Родину. Из этого следует, что пора кончать отступление. Огнём железным законом дисциплины для каждого командира, красноармейца, политработника должно являться требование: ни шагу назад без приказа высшего командования. Командиры роты, батальона, полка, дивизии, соответствующие комиссары и политработники, отступавшие с боевых позиций без приказа свыше, являются предателями Родины. С такими командирами и политработниками и поступать надо как с предателями Родины. Таков приказ нашей Родины».

В. «В течение последних дней под Киевом идут ожесточённые бои. Фашистско-немецкие войска, не считаясь с огромными потерями льдами и вооружением, бросают в бой всё новые и новые части. На одном из участков Киевской обороны противнику удалось прорвать наши укрепления и выйти к окраине города. Ожесточённые бои продолжаются...

В течение 21 сентября наши войска вели бои с противником на всём фронте. После многодневных, ожесточённых боёв наши войска оставили Киев. Ожесточённая борьба на Киевском фронте продолжается. Несомненно, что у немцев захватчиков имеется здесь преобладающая сила. Чем кончится эта борьба, пока трудно сказать».

Г. «Каждый шаг, каждый кусок земли, каждый камень здесь явнее всяких слов свидетельствовал, что на подступах к имперской канцелярии и рейхстагу, в самих этих зданиях борьба шла не на жизнь, а на смерть. Рейхстаг — это громаднейшее здание, стены которого артиллерией средних калибров не пробьешь. Тут нужны были тяжёлые калибры. Купол рейхстага и различные массивные верхние надстройки давали возможность врагу сосредоточить многослойный огонь на всех подступах. Условия для борьбы в самом рейхстаге были очень тяжёлые и сложные. Они требовали от бойцов не только мужества, но и мгновенной ориентировки, зоркой осторожности, быстрых перемещений от укрытия к укрытию и метких выстрелов по врагу».

Со всеми этими задачами наши бойцы хорошо справились, но многие в тяжёлых боях дали смертью храбрых».

Д. «На личной карте Паулюса этот дом (на площади 9 Января) был отмечен как крепость. Пленные немецкие разведчики считали, что это обороняет батальон. Об этом доме узнала сначала наша армия, потом вся страна и, наконец, весь мир. На его защитников равнялась, как в строю, вся дивизия, о нём слагались песни и легенды».

Как это ни странно, но это четырёхэтажное жилое здание, выстроенное не из какого-либо несокрушимого материала, а из обыкновенной глины, дерева и кирпича, оказавшее вообще малозначительным, вполне заслуживало того, что о нём писали или рассказывали.

Да, это был «дом-крепость», его обороняли бойцы, каждый из которых стоял целого отряда, а то и взвода противника, и слава о нём не померкнет в веках».

1.	2.	3.	4.	5.
б	б	г	в	в

Критерии оценивания: за каждый верный ответ - 3 балла, всего - 15 баллов.

**Задание № 10. Дайте правильный ответ. Впишите ответы в таблицу.**

**10.1. Мероприятия советского руководства в первый месяц войны:**

а) создание ГКО  массовое производство «Катюш» в) завершение перестройки на военный лад

**10.2. Положения приказа № 227 от 28 июля 1942г:**

а) присвоение звания Героя Советского Союза  создание штрафных батальонов

в) создание санитарных поездов

10.3. Причины «коренного перелома» в Великой Отечественной войне:

а) открытие 2-ого фронта  б) завершение перехода экономики на военный лад

в) государственный переворот в Японии

10.4. Как называется немецкий стратегический план захвата Москвы:

а) «Итальен» б) «Уран»  в) «Тайфун» г) «Барбаросса»

10.5. Запишите, какие имя и фамилия зашифрованы в названии советского талка «ИС»?

10.1	10.2	10.3	10.4	10.5.

Критерии оценивания: за каждый верный ответ - 2 балла, всего - 10 баллов.





Задание 1

1	2	3	4	5	6	7	8	9	10
Б1	А1	А1	А1	В1	В1	В1	А	Б1	А

Задание 2.

1	2	3
БВВ	Ж БГД	З

Задание 3. Расположите события в хронологической последовательности, внося свой ответ в таблицу (1 балл за каждый правильный ответ, максимальный балл – 5):

1	2	3	4	5
А	Г	Б	В	Д

Задание 4. Дайте определения следующим понятиям: (за каждый верный ответ – 2 балла, макс.

1	2	3	4	5
	Нарывательная			
2				
3	Пешеход	перехватывающая		
4	Плугосурьва	защита		
5	Плугосурьва			

Задание 5. Рассмотрите иллюстрацию и выполните задания ( макс. балл за задание – 11 баллов)

А) Корсетный массаж

В) \_\_\_\_\_

Г) \_\_\_\_\_

1	Вешенград	1
2	Дорога свабийских верей	Курское селено.
3	22. июля 1941 года	в 3:53 по мск
4	Прессовая пресса	1
5	Жуков	1.5 января
6	<del>Тверь в Советско-германской войне</del>	Худоб
7	Полеро	в Советско-германской войне
8	За корабль, который воем оросел в море	

Задание 7.

Выполните задания по карте (за каждый правильный ответ 1 балла, максимальный балл – 4)

1	2	3	4
Торосе	Наполеон		<del>3</del>

Задание 8. История родного края.

1	2	3	4	5
Б	А	А	В	Б

Задание 9 ЭССЕ

Тема: 4

Мне была знакома система массовых  
и государственных или военных реформатор,  
предприниматель "Мир в Европе". Но война на его  
инициативе была, однако, предпринимать его  
идею инициативы войны, поэтому, даже если  
он бы выиграл, то бы не был, его реформы  
были бы предпринимать, поэтому, инициативы  
Миром.

Почему выиграл бы реформы его

~~о~~ науковий матеріал

Роман Левицький (1900-1922). Нове

випускне видання його творів, рукописи,

літературні документи та інші матеріали

з його життя та діяльності. Це видання

включає в себе всі його твори та документи

з його життя та діяльності. Це видання

включає в себе всі його твори та документи

з його життя та діяльності. Це видання

включає в себе всі його твори та документи

з його життя та діяльності. Це видання

включає в себе всі його твори та документи

з його життя та діяльності. Це видання

включає в себе всі його твори та документи

з його життя та діяльності. Це видання

включає в себе всі його твори та документи

з його життя та діяльності. Це видання

включає в себе всі його твори та документи

з його життя та діяльності. Це видання

включає в себе всі його твори та документи

з його життя та діяльності. Це видання

включає в себе всі його твори та документи

з його життя та діяльності. Це видання